

2019年度

入学試験

社会問題(前期午前)

(全 14 ページ)

注意事項

1. 受験番号, 氏名および解答はすべて別紙の解答用紙に記入しなさい。
2. 問題用紙に解答を書きこんでも採点されません。

第1問 次のカードA～Hは、それぞれ日本の都道府県のマークとその特徴についてまとめたものです。これを見て、あとの問いに答えなさい。

A		人口が日本で最も少ない(2017年)。日本なしの生産がさかん。
B		面積が日本で最も小さい(2017年)。平野部を中心に、 <u>ため池が多い</u> 。
C		人口密度が日本で最も低い(2017年)。広い土地を生かして農業がさかん。
D		海に面していない都道府県の中で、人口が最も多い(2017年)。
E		日本で最も大きな湖が位置し、湖の東の平野で稲作がさかんである。
F		日本で最も高い山がある。海沿いを中心に工業地域が広がっている。
G		日本で最も長い川が流れ、米の生産量が日本で最も多い(2017年)。
H		日本で最も合計特殊出生率が高い(2016年)。 <u>観光業</u> がさかん。

問1 カードAについて、次の問いに答えなさい。

- (1) この都道府県について述べている文として正しいものを、下のア～エから1つ選び、記号で答えなさい。
- ア 広大な砂丘が広がる北部地域では、らっきょうや長いもの生産がさかんである。
- イ 北東部にある出雲大社は日本最古の神社の1つで、縁結びの神として知られている。
- ウ 宇和海沿岸はリアス海岸となっており、真珠などの養殖がさかんである。
- エ 南東の端に室戸岬、南西の端には足摺岬が太平洋に突き出している。
- (2) この都道府県の山間部などでは、人口の減少と高齢化によって、地域社会の維持が難しくなっている地域があります。このような状態を何といいますか、2字で答えなさい。

問2 カードBについて、次の問いに答えなさい。

- (1) カードB中の下線部について、この都道府県でため池が多い理由を、「季節風」の語句を用いて説明しなさい。
- (2) この都道府県にある都市の名称とその都市で生産がさかんな製品の組み合わせとして正しいものを、下のア～エから1つ選び、記号で答えなさい。
- ア 今治-タオル イ 燕-洋食器 ウ 豊岡-かばん エ 丸亀-うちわ

問3 カードCについて、次の問いに答えなさい。

(1) この都道府県で最も水あげ高の多い漁港を、下のア～エから1つ選び、記号で答えなさい。

ア 銚子港 イ 石巻港 ウ 釧路港 エ 八戸港

(2) 右の表は、この都道府県で多く生産されている農産物の都道府県別の生産量順位を示しています。表にあてはまる農産物として正しいものを、下のア～エから1つ選び、記号で答えなさい。

順位	都道府県	生産量 (千 t)
1位	C	608
2位	福岡県	50
3位	佐賀県	35
4位	愛知県	26

(2017年) (『日本国勢図会』2018/19年版)

ア 米 イ 小麦
ウ にんじん エ レタス

問4 カードDについて、次の問いに答えなさい。

(1) この都道府県などに広がる日本最大の面積をもつ平野を、下のア～エから1つ選び、記号で答えなさい。

ア 濃尾平野 イ 石狩平野 ウ 越後平野 エ 関東平野

(2) この都道府県などでさかんな、大都市の消費者向けに新鮮な野菜や果物、草花や畜産物などを生産する農業を何といいますか。

問5 カードEについて、次の問いに答えなさい。

(1) この都道府県の都道府県庁所在都市名を漢字で答えなさい。

(2) カードE中の下線部で養殖がさかんなものを、下のア～エから1つ選び、記号で答えなさい。

ア かき イ うなぎ ウ あゆ エ ほたて貝

(3) カードE中の下線部などが登録されている、水鳥の生息地として重要な湿地を保護するための条約を何といいますか。

問6 カードFについて、次の問いに答えなさい。

(1) この都道府県を流れる川の組み合わせとして正しいものを、下のア～エから1つ選び、記号で答えなさい。

ア 揖斐川、長良川、木曾川 イ 岩木川、雄物川、米代川
ウ 天竜川、大井川、富士川 エ 黒部川、神通川、庄川

(2) この都道府県の南部に広がる工業地域を何といいますか。漢字2字で答えなさい。

問7 カードGについて、この都道府県で多く生産されているコシヒカリのように、さまざまな品種の稲を掛け合わせて、新しい品種をつくり出すことを何といいますか。

問8 カードHの下線部について、この都道府県で見られるものとして最も適切なものを、下のア～エから1つ選び、記号で答えなさい。

ア ^{しゅり}首里城 イ ^{とうだいじ}東大寺 ウ ^{ひめじ}姫路城 エ ^{きんかく}金閣

問9 カードA～Hのいずれにもあてはまらない都道府県の形を、下のア～エから1つ選び、記号で答えなさい。

ア



イ



ウ

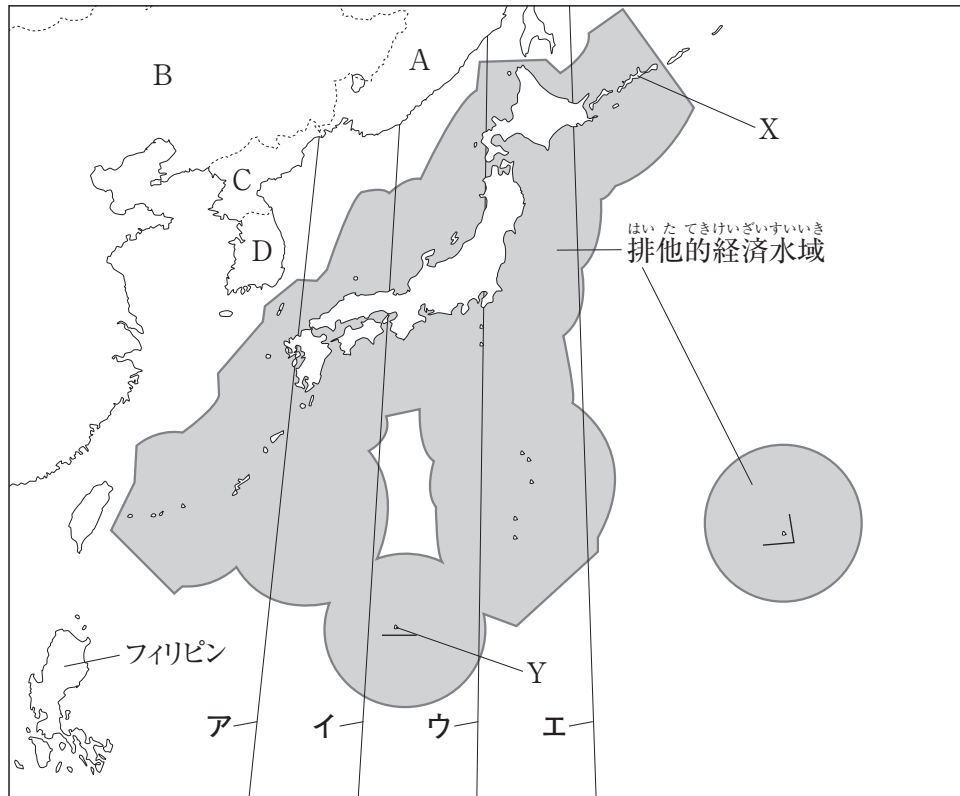


エ



(付属する島は除く。縮尺は異なる。)

第2問 下の地図を見て、あとの問いに答えなさい。



問1 日本が時刻を決める基準としている経線を、地図中のア～エから1つ選び、記号で答えなさい。

問2 地図中のXとYについて述べた、次の文章中の(①)・(②)にあてはまる語句の組み合わせとして正しいものを、あとのア～エから1つ選び、記号で答えなさい。

日本は、海洋に囲まれた国で、大小さまざまな島が南北およそ3000kmにわたって連なっている。地図中のXは日本の最北端さいほくたんに位置する(①)で、北方領土の1つでもある。また、地図中のYは日本最南端しんしよくに位置する(②)で、波の侵食から守るために護岸工事ごがんが施ほどこされている。

ア ① - 与那国島よなぐに ② - 南鳥島みなとり イ ① - 与那国島 ② - 沖ノ鳥島おきのとり

ウ ① - 択捉島えとろふ ② - 南鳥島 エ ① - 択捉島 ② - 沖ノ鳥島

問3 地図中の排他的経済水域について、次の問いに答えなさい。

(1) 排他的経済水域の範囲はんいとして正しいものを、下のア～エから1つ選び、記号で答えなさい。

ア 領海を除く、沿岸から12海里(約22km)以内の範囲。

イ 領海を除く、沿岸から22海里(約41km)以内の範囲。

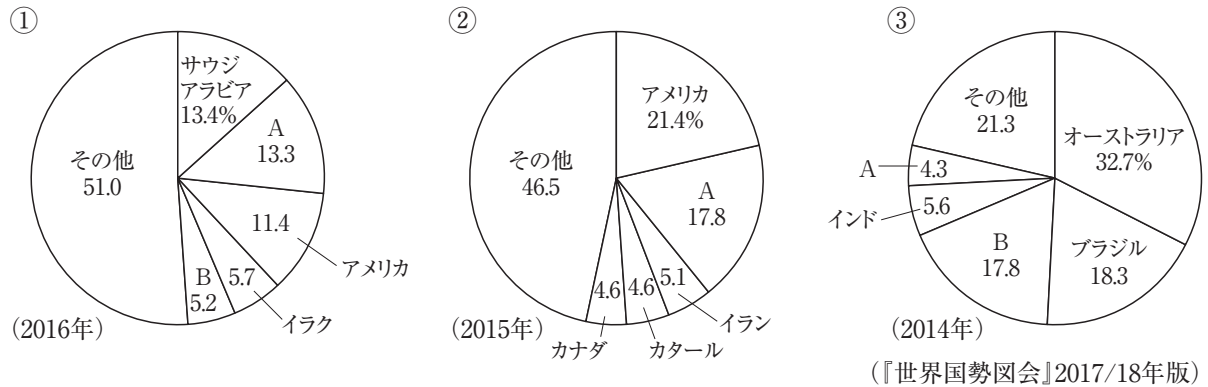
ウ 領海を除く、沿岸から200海里(約370km)以内の範囲。

エ 領海を除く、沿岸から370海里(約685km)以内の範囲。

(2) 排他的経済水域の設定によって最も生産量が減少した漁業を、下のア～エから1つ選び、記号で答えなさい。

ア 遠洋漁業 イ 沖合漁業 ウ 沿岸漁業 エ 養殖業

問4 地図中のAの国は、鉱産資源が豊富です。下の①～③は、石油、鉄鉱石、天然ガスのいずれかの国別生産量割合を示しています。①～③にあてはまる鉱産資源の組み合わせとして正しいものを、あとのア～エから1つ選び、記号で答えなさい。ただし、グラフ中のA、Bは、地図中のA、Bと同一の国を示しています。



- ア ①－石油 ②－鉄鉱石 ③－天然ガス
 イ ①－石油 ②－天然ガス ③－鉄鉱石
 ウ ①－鉄鉱石 ②－石油 ③－天然ガス
 エ ①－天然ガス ②－鉄鉱石 ③－石油

問5 地図中のBの国について、下のア～エの表は、地図中のBの国とアメリカ合衆国、フランス、ブラジルのいずれかの国の日本への輸出額上位5位の輸出品とその割合を示したものです。Bの国にあてはまるものを、ア～エから1つ選び、記号で答えなさい。

ア

輸出品	割合 (%)
機械類	18.8
医薬品	16.2
ぶどう酒	8.3
バッグ類	5.1
有機化合物	4.9

イ

輸出品	割合 (%)
鉄鉱石	39.4
肉類	13.1
コーヒー	6.4
とうもろこし	6.1
アルミニウム	4.5

ウ

輸出品	割合 (%)
機械類	46.6
衣類	10.5
金属製品	3.3
がん具	2.4
家具	2.4

エ

輸出品	割合 (%)
機械類	29.2
科学光学機器	5.3
医薬品	5.1
肉類	5.1
航空機類	4.4

(2017年)

(『日本国勢図会』2018/19年版)

問6 地図中のCの国について、下の写真は、2018年6月、Cの国とアメリカ合衆国との間で行われた首脳会談のようすです。この会談に出席したCの国の最高指導者の名前を、あとのア～エから1つ選び、記号で答えなさい。



ア キムジョンウン 金正恩 イ キム デ ジョン 金大中 ウ シーチンピン 習近平 エ ムンジェイン 文在寅

問7 地図中のDの国について、島根県おき隠岐の島町に属しているが、Dの国がせんきよ占拠している島を何と
いいますか。

問8 地図中のフィリピンには、日本の工場が多く進出しています。工場の海外移転にともなって発生する「産業の空洞化」とは、どのような現象ですか、簡単に説明しなさい。

問9 次の表は、日本と地図中のA、B、Dの国の面積と人口についてまとめたものです。日本にあてはまるものを、表中のア～エから1つ選び、記号で答えなさい。

	面積 (万 km ²) (2015 年)	人口 (万人) (2017 年)
ア	10.0	5098.2
イ	960.0	140951.7
ウ	1709.8	14399.0
エ	37.8	12678.6

(『日本国勢図会』2018/19年版)

第3問 日本の政治についてまとめた下の年表を見て、あとの問いに答えなさい。

年代	できごと
3世紀前半	a <u>卑弥呼</u> が <u>邪馬台国</u> を治める。
478年	b <u>倭王武</u> が中国に使者を送る。
645年	c <u>中大兄皇子</u> と <u>中臣鎌足</u> らによって、 <u>大化</u> の改新が始まる。
743年	聖武天皇が、d <u>東大寺</u> の <u>大仏</u> の <u>建立</u> を命じる。
	↑ ア ↓
1016年	e <u>藤原道長</u> が <u>摂政</u> となる。
	↑ イ ↓
1167年	(①) が武士として初めて <u>太政大臣</u> に就任する。
	↑ ウ ↓
1274年・1281年	f <u>元軍</u> の <u>襲来</u> を退ける。
	↑ エ ↓
1334年ごろ	g <u>後醍醐天皇</u> が <u>建武</u> の新政を始める。
1429年	尚氏が (②) を建国する。
1576年	織田信長が h <u>安土城</u> の築城を開始する。
1623年	i <u>徳川家光</u> が <u>江戸幕府</u> 3代将軍となる。
1841年	水野忠邦が j <u>天保</u> の改革を始める。

問1 年表中の下線部 a について、このころ日本では、稲作が広まっていたと考えられています。稲作に利用されていた、右の資料のような道具を何といいますか。



問2 年表中の下線部 b は、大和政権（ヤマト王権）の王の一人です。大和政権の王は何とよばれていましたか。漢字2字で答えなさい。

問3 年表中の下線部 c について、中大兄皇子は天智天皇として即位しましたが、天智天皇の死後、次の天皇の位をめぐる戦乱がおこりました。この戦乱を何といいますか。

問4 年表中の下線部 d について、聖武天皇の命を受けて、東大寺の大仏づくりに協力した僧を、下のア～エから一人選び、記号で答えなさい。

ア 鑑真 イ 行基 ウ 空海 エ 最澄

問5 年表中の下線部 e のところに栄えた文化について正しく説明しているものを、下のア～エから1つ選び、記号で答えなさい。

ア 日本で最初の仏教文化で、法隆寺ほうりゅうじや飛鳥寺あすかであらなどが建立された。

イ 中国から伝わった水墨画すいぼくがが、雪舟せつしゅうによって大成された。

ウ 法然ほうねんによる浄土宗じょうどしゅうや、一遍いっぺんによる時宗じしゅうなど、新しい仏教が民衆に広まった。

エ かな文字が使われるようになり、『源氏物語』などの作品がつくられた。

問6 年表中の (①) にあてはまる人物名を答えなさい。

問7 年表中の下線部 f について、元軍は、1274 年と 1281 年に二度にわたり九州北部へ襲来しました。このできごとを何といいますか。漢字 2 字で答えなさい。

問8 年表中の下線部 g について、建武の新政は 2 年ほどで失敗に終わりました。建武の新政が失敗した理由を説明しなさい。

問9 年表中の (②) にあてはまる国名を答えなさい。

問10 年表中の下線部 h について、織田信長は、安土城の城下町で商工業者の自由な営業活動を認めました。この政策を何といいますか、漢字 4 字で答えなさい。

問11 年表中の下線部 i について、徳川家光が行った政策として正しいものを、下のア～エから1つ選び、記号で答えなさい。

ア 太閤検地たいこうけんちを行った。 イ 参勤交代の制度を定めた。

ウ 生類憐みの令しょうるいあわれを定めた。 エ 公事方御定書くじかたおさだめがきを制定した。

問12 年表中の下線部 j について、水野忠邦が行った政策について述べた次の文中の [] に共通してあてはまる語句を答えなさい。

物価上昇じょうしやうの原因は [] が上方かみがたからの商品流通どくせんを独占しているためだとして、 [] の解散を命令した。

問13 次のできごとがおこった時期として正しいものを、年表中のア～エから1つ選び、記号で答えなさい。

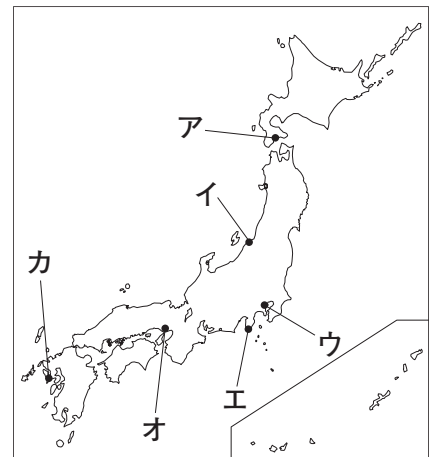
白河天皇しらかわが退位して上皇となり、院政を始めた。

第4問 下のA～Hの人物について、あとの問いに答えなさい。



問1 Aの人物は1853年に通商を求めてアメリカから日本に來航しました。この人物について、下の問いに答えなさい。

- (1) この人物の名前を答えなさい。
- (2) 1854年に再び來航した際に結んだ条約によって開港した港を、右の地図中のア～カから2つ選び、記号で答えなさい。



問2 Bの人物は、日本の初代内閣総理大臣です。下の問いに答えなさい。

- (1) この人物は、憲法研究のためヨーロッパへ派遣され、帰国後ドイツの憲法を参考に大日本帝国憲法の草案を作成しました。次の資料は、大日本帝国憲法の一部を示しています。この人物が、ドイツの憲法を参考にした理由を、「君主」の語句を用いて説明しなさい。

第1条	大日本帝国ハ万世一系ノ天皇 ^{これ} 之ヲ統治ス
第2条	皇位 ^{こうしつてんぱん} ハ皇室典範ノ定ムル所ニ依リ皇男子孫之ヲ繼承 ^{けいしょう} ス
第3条	天皇ハ神聖ニシテ侵 ^{おか} スヘカラス ^{(べ) (ず)}
第4条	天皇ハ国ノ元首ニシテ統治権 ^{そうらん} ヲ総攬シ此ノ憲法ノ条規ニ依リ之ヲ行フ ^(う)
第5条	天皇ハ帝国議會ノ協賛 ^{もつ} ヲ以テ立法権 ^(う) ヲ行フ

(2) この人物は、日清戦争の講和会議に参加しました。この講和会議で日本が獲得した領土に対して異議を唱えた国の組み合わせとして正しいものを、下のア～エから1つ選び、記号で答えなさい。

ア ロシア、ドイツ、フランス イ アメリカ、ドイツ、フランス

ウ ロシア、アメリカ、イギリス エ アメリカ、イギリス、ドイツ

問3 Cの人物は、日露戦争のとき戦場にあった弟の身を心配して詩を発表しました。下の問いに答えなさい。

(1) この人物の名前を答えなさい。

(2) 日露戦争の講和条約について述べた文としてまちがっているものを、下のア～エから1つ選び、記号で答えなさい。

ア ロシアは、北緯50度以南の樺太を日本にゆずり渡す。

イ ロシアは、日本に賠償金を支払う。

ウ ロシアは、韓国における日本の優越権を認める。

エ ロシアは、長春以南の鉄道の利権を日本にゆずり渡す。

問4 Dの人物は、大正時代などに活躍した吉野作造です。下の問いに答えなさい。

(1) 大正デモクラシーが広まる中、吉野作造が発表した、「普通選挙の実現によって国民の意見を政治に反映させるべきである」という考え方を何といいますか。

(2) 大正時代におこった社会運動について述べた文としてまちがっているものを、下のア～エから1つ選び、記号で答えなさい。

ア 不当に差別されていた人々が全国水平社を結成し、差別をなくす運動を始めた。

イ 平塚らいてうや市川房枝らが女性の自由や権利を求める運動をすすめた。

ウ 小作料の軽減を求める小作争議や賃金の引き上げなどを求める労働争議がおこった。

エ ノルマントン号事件をきっかけに不平等条約の改正を求める運動がさかんとなった。

問5 Eの人物は、犬養毅です。犬養毅について述べた下の文章中の(①)・(②)にあてはまる語句をそれぞれ答えなさい。

犬養毅は1931年に内閣総理大臣となり、不景気の打開などに取り組んだが、満州事変などへの対応から、(①)政治に不満をもつ海軍の将校らに襲撃され、殺害された。この(②)事件によって軍部の発言権が強まり、(①)内閣が終わりを告げた。

問6 Fの人物は、太平洋戦争開戦時の内閣総理大臣の東条英機とうじょうひできです。太平洋戦争中におこった下のア～ウのできごとを、年代の古いものから順にならべかえなさい。

ア 空襲くうしゅうから逃れるため、都市の小学生を地方へ集団で避難ひなんさせ始めた。

イ 広島と長崎に原子爆弾ばくだんが投下され、多くの市民が犠牲ぎせいとなった。

ウ アメリカ軍が沖縄に上陸し、激しい地上戦の末せんりょうに占領した。

問7 Gの人物は、GHQの最高司令官を務めたマッカーサーです。GHQの指導の下、日本が行った民主化政策として正しいものを、下のア～エから1つ選び、記号で答えなさい。

ア 地租改正ちそ イ 学制の公布 ウ 財閥解体ざいぼつ エ 版籍奉還はんせきほうかん

問8 Hの人物は、サンフランシスコ平和条約を締結ていけつした吉田茂よしだしげるです。サンフランシスコ平和条約を締結した後の日本の歩みについてまとめた次の文章中の(①)・(②)にあてはまる国を、あとのア～エからそれぞれ1つずつ選び、記号で答えなさい。

日本はサンフランシスコ平和条約を締結し、独立を回復したが、すべての国とは国交を結んでいなかった。1956年に社会主義国であった(①)と国交を正常化すると、国際連合への加盟も認められ、国際社会への復帰を果たした。1965年には韓国かんこくと国交を正常化し、1968年には小笠原諸島おがさわらが返還へんかんされた。1972年には沖縄が日本に復帰し、同年、(②)との国交を正常化した。

ア ソビエト社会主義共和国連邦れんぽう (ソ連)

イ イギリス

ウ フランス

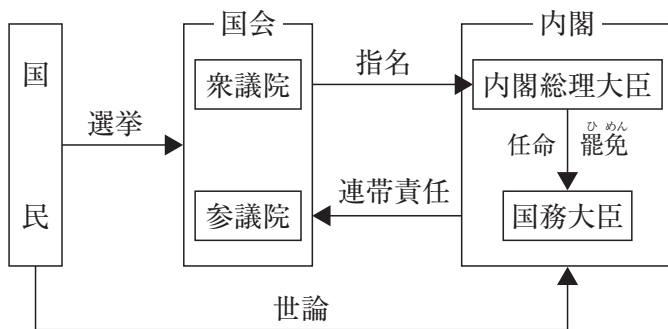
エ 中華人民共和國ちゅうかじんみんきょうわこく (中国)

第5問 下の〈資料1〉～〈資料5〉について、あとの問いに答えなさい。

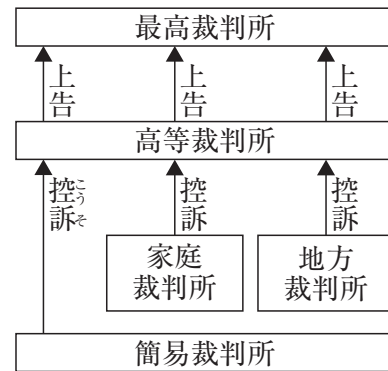
〈資料1〉

日本国憲法の 3つの柱	国民（ A ）	国の政治のあり方を最終的に決定する権限である（ A ）は国民がもつ。
	（ B ）主義	戦争をしない，戦力をもたない，国の交戦権を認めない。
	C <u>基本的人権の尊重</u>	人が生まれながらにしてもつ基本的な権利を永久の権利として保障する。

〈資料2〉



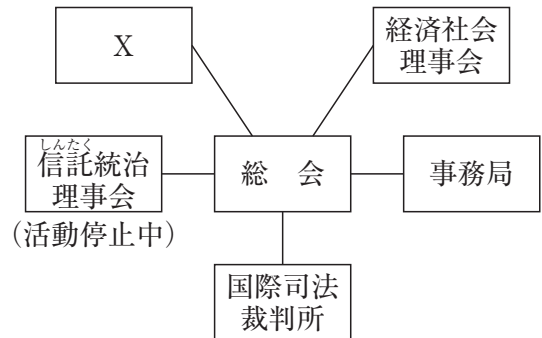
〈資料3〉



〈資料4〉

直接請求の内容	請求先
□の制定や改廃	首長
監査	監査委員
議会の解散	選挙管理委員会
首長や議員の解職	選挙管理委員会

〈資料5〉



問1 〈資料1〉について、下の問いに答えなさい。

- 〈資料1〉中の（ A ）に共通してあてはまる語句を答えなさい。
- 〈資料1〉中の（ B ）にあてはまる語句を答えなさい。
- 〈資料1〉中の下線部Cのうち、生存権や教育を受ける権利などを含む、人間らしく生きることがを保障する権利を何といますか。

(4) 日本国憲法の条文にはっきりとした規定はないものの、社会の変化とともに主張されるようになった新しい人権のうち、「知る権利」について述べているものを、下のア～エから1つ選び、記号で答えなさい。

ア 医療の現場では、患者が治療方法について決定するときに、医師から十分な説明を受け同意して治療方法を決定することが求められている。

イ 大規模な開発を行う際には、環境にどのような影響を与えるのかを事前に調査することが義務づけられている。

ウ テレビやインターネットなどで、個人の生活に関する情報がみだりに公開されないように求めることができる。

エ 公正な政治を実現するために、国や地方公共団体がもつ情報を、人々の請求に応じて開示する制度が設けられている。

問2 〈資料2〉は国会と内閣の関係を示しています。下の問いに答えなさい。

(1) この資料が示す、国会の信任によって内閣が成立し、内閣は国会に対して連帯責任を負うしくみを何といいますか。

(2) 〈資料2〉中の国会は衆議院と参議院の二院制をとっており、それぞれ異なる制度が採用されています。二院制は、広く国民の意見を取り入れることができること以外に、どのような利点がありますか。説明しなさい。

(3) 〈資料2〉中の衆議院は、参議院に対する優越が認められています。衆議院の議決が優先されるものとして正しいものを、下のア～エから1つ選び、記号で答えなさい。

ア 国会の召集 イ 予算の審議

ウ 条約の締結 エ 最高裁判所長官の指名

(4) 〈資料2〉中の内閣の仕事について述べた文として正しいものを、下のア～エから1つ選び、記号で答えなさい。

ア 天皇の国事行為に助言と承認を行う。 イ 憲法改正の発議を行う。

ウ 法律が憲法に違反していないか判断する。 エ 最高裁判所の判決の審査をする。

問3 〈資料3〉は刑事裁判のしくみを示しています。下の問いに答えなさい。

(1) 〈資料3〉に示されている、1つの事件につき3回まで裁判を受けられるしくみを何といいますか。

(2) 日本の裁判について述べた文としてまちがっているものを、下のア～エから1つ選び、記号で答えなさい。

ア 裁判官の身分は保障されており、国民審査と弾劾裁判以外ではやめさせられない。

イ 民事裁判では、裁判所に訴えた人を原告、訴えられた人を被告という。

ウ 刑事裁判では、検察官が罪を犯した疑いのある人を被告人として裁判所に訴える。

エ 裁判員裁判では、国民の中から選挙で選ばれた裁判員が判決を下す。

問4 〈資料4〉は、地方自治における直接請求権の内容をまとめたものです。□□□□にあてはまる、その地方公共団体だけに適用されるきまりを何といいますか、漢字2字で答えなさい。

問5 〈資料5〉は国際連合のしくみを示しています。この資料について、下の問いに答えなさい。

(1) 国際連合の最高責任者を事務総長といいます。2017年より国際連合の事務総長に就任している人物を、下のア～エから一人選び、記号で答えなさい。

ア メルケル イ グテーレス ウ メイ エ マクロン

(2) 〈資料5〉中のXにあてはまる、15の理事国からなる、世界の平和と安全にかかわる問題をあつかう機関を何といいますか。