

2021年度

入学試験

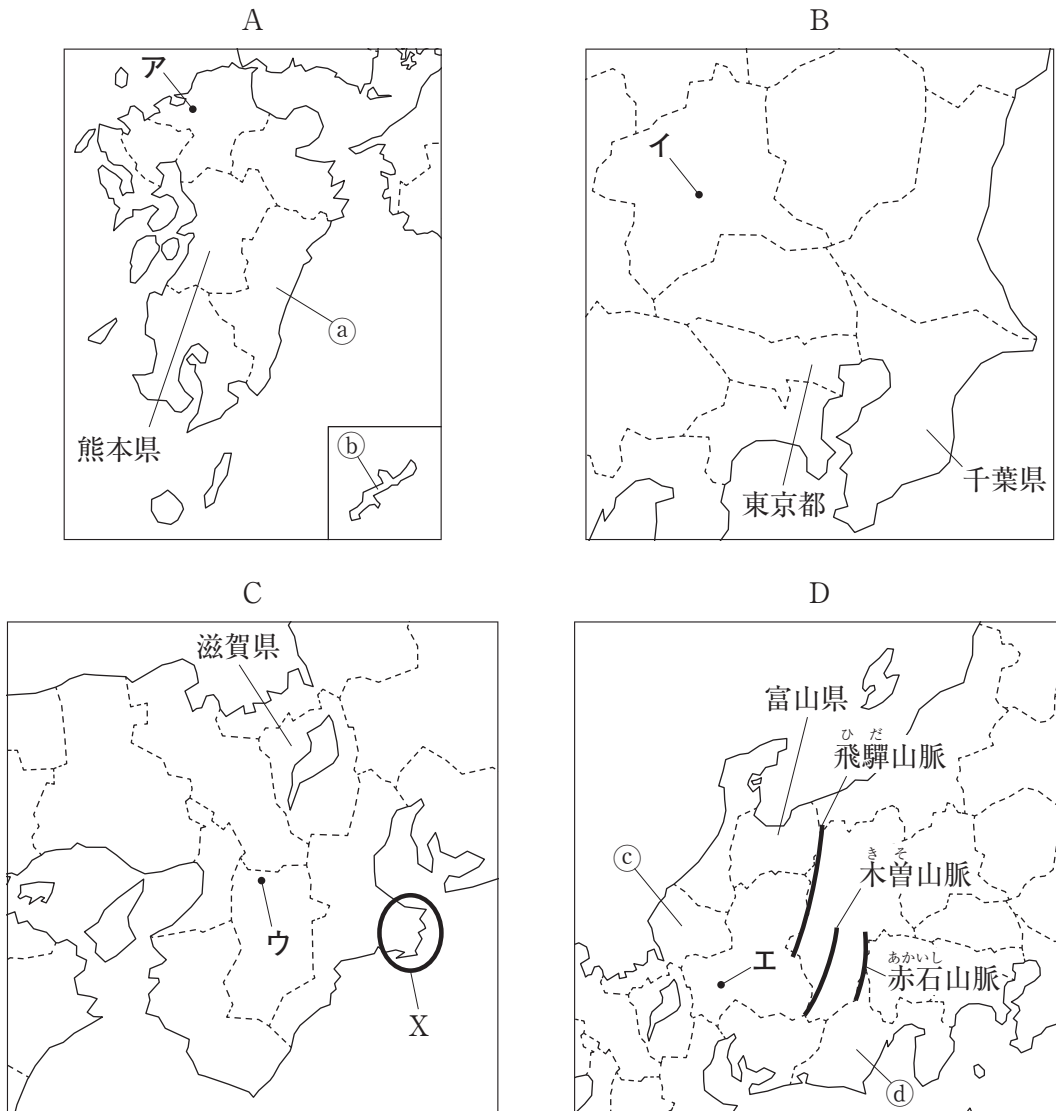
社会問題(A1)

(全 13 ページ)

注意事項

1. 受験番号、氏名および解答はすべて別紙の解答用紙に記入しなさい。
2. 問題用紙に解答を書きこんでも採点されません。

第1問 次のA～Dの地方について、あとの問いに答えなさい。



(それぞれの図の縮尺は同じではありません。一部の島は省略しています。)

問1 A～Dの地図中に示したア～エの都道府県庁所在地のうち、都道府県名と都道府県庁所在地名とが異なるものを1つ選び、記号で答えなさい。

問2 Aの地方について、次の問いに答えなさい。

(1) ①の県では、温暖な気候を利用して、きゅうりやピーマンをほかの地域よりも早い時期に出荷しています。このような栽培方法を何といいますか。

(2) 右の写真は、②の県で見られる伝統的な住居です。このような住居のつくりは、何の自然災害の被害を減らすためのものですか。正しいものを、下のア～エから1つ選び、記号で答えなさい。



ア 地震 イ 台風 ウ 冷害 エ 干ばつ

問3 Bの地方について、次の問いに答えなさい。


- (1) Bの地方には日本最大の平野が広がっており、この平野は、浅間山や富士山から噴出した火山灰が積もってきた赤土におおわれています。この赤土を何といいますか。
- (2) 右の表は、東京都とその周辺の県の人口をまとめたものです。東京都は夜間人口よりも昼間人口のほうが多い理由を、「通勤・通学」の語句を用いて説明しなさい。なお、夜間人口とは、その地域に住んでいる人口を示しています。

都県	昼間人口 (万人)	夜間人口 (万人)
東京都	1592	1352
神奈川県	832	913
埼玉県	646	727
千葉県	558	622
茨城県	284	292

(2015年) (『データでみる県勢』2020年版)

問4 Cの地方について、次の問いに答えなさい。

- (1) Xの半島には、岬と湾が連続する入り組んだ海岸が見られます。このような海岸を何といいますか。
- (2) Cの地方に位置する阪神工業地帯の内陸部には中小企業が多く集まっています。日本の大企業と中小企業についてのグラフのA～ウは、事業所数、従業員数、生産額のいずれかの割合を示したものです。生産額の割合にあてはまるものを、A～ウから1つ選び、記号で答えなさい。




(2017年) (『日本国勢図会』2020/21年版)
 ※大企業は従業員が300人以上、中小企業は、従業員が299人以下。

問5 Dの地方について、次の問いに答えなさい。

- (1) Dの地方には、飛騨山脈、木曾山脈、赤石山脈が連なっています。この3つの山脈をまとめて何といいますか。
- (2) ㉔の県では、雪におおわれて農作業が難しい冬の間、農家の副業として地場産業が発達しました。㉔の県で生産がさかんな、現在、国内生産の9割以上を占める(2017年)工業製品として正しいものを、下のA～エから1つ選び、記号で答えなさい。

A 眼鏡フレーム I ピアノ U 絹織物 E 和紙

- (3) 右のグラフの①～③は、㉔の県で生産量が多い農産物の都道府県別生産量割合と水あげ量が多い魚の都道府県別漁獲量割合のいずれかを示しています。①～③にあてはまるものの組み合わせとして正しいものを、下のA～エから1つ選び、記号で答えなさい。



(『日本国勢図会』2020/21年版ほか)

- A ①-さつまいも ②-みかん ③-さんま
 I ①-さつまいも ②-りんご ③-かつお類
 U ①-茶 ②-みかん ③-かつお類
 E ①-茶 ②-りんご ③-さんま

問6 次の表は、熊本県、千葉県、滋賀県、富山県のごみの排出量^{はいしゅつりょう}についてまとめたものです。表から読み取れることとして正しいものを、あとのア～エから1つ選び、記号で答えなさい。

	ごみの排出量 (千 t)	1人1日あたりのごみの排出量 (g)	燃えるごみの量 (千 t)	リサイクル率 (%)	最終処分場を使用可能な残り年数 (年)
熊本県	602	922	456	23.4	17.0
千葉県	2075	903	1563	22.3	7.7
滋賀県	430	830	336	18.7	11.1
富山県	408	1044	297	24.1	11.5

(2017年度)

(『データでみる県勢』2020年版)

- ア ごみの排出量が最も多い千葉県は、1人1日あたりのごみの排出量も最も多い。
- イ 4県とも、ごみの排出量の3分の2以上を燃えるごみが占めている。
- ウ 1人1日あたりのごみの排出量が最も少ない県は、リサイクル率が4県の中で最も高い。
- エ リサイクル率が4県の中で最も低い県は、最終処分場を使用可能な残り年数が最も少ない。

第2問 わが国の国土・人口・産業・結びつきなどについてまとめた次の文章を読んで、あとの問いに答えなさい。

世界には、a 地震や火山活動が活発な二つの造山帯があり、そのうち、日本列島はb ロッキー山脈やアンデス山脈、ニュージーランドなどと同じ造山帯に属している。日本列島には山地が多く連なり、日本のc 川は大陸の川と比べると、河口からの距離が短く、流れが急である。また、日本列島には離島が多いため、国土面積に対して、d 沿岸から200海里以内（領海を除く）の水域の面積が広い。

e 日本列島の気候は、北海道が亜寒帯（冷帯）、本州より南がおもに温帯、沖縄県が亜熱帯に属しており、四季の変化がはっきりしていることが特徴である。

f 日本の人口は、その半数近くが三大都市圏に集中し、山間部や離島では少なく、人口分布はいちじるしくかたよっている。また近年は、子どもの出生数が減り、だんだん総人口が少なくなっている。

日本は資源の少ない国であり、そのほとんどをg 輸入に頼っている。石油や石炭、天然ガスなどを使って火力発電を行っているほか、h 水力発電、原子力発電、再生可能エネルギーを使った発電が行われている。

日本の産業については、第二次世界大戦以前はi 第1次産業に従事する人が最も多かったが、戦後はj 第2次産業に従事する人が増え、現在は第3次産業に従事する人が最も多くなっている。

問1 下線部aについて、多くの都道府県や市町村は、地震などの自然災害の被害の範囲を予測し、避難場所などを記した地図を作成しています。このような地図を何といいますか。カタカナで答えなさい。

問2 下線部bの造山帯を何といいますか。

問3 下線部cについて、下の写真は、川がつくる地形を示しており、あとの文は、この地形について述べた文です。この地形の名称を、あとのア～エから1つ選び、記号で答えなさい。

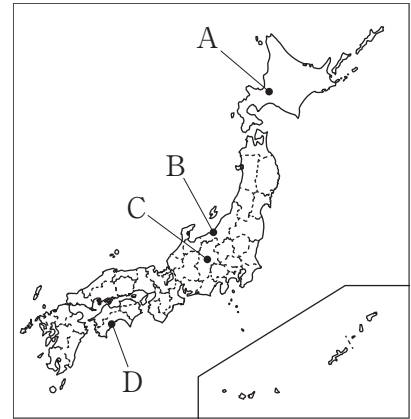


川が海や湖に流れこむところに粒の小さい砂や泥が積もってできた地形。

ア 扇状地 イ 盆地 ウ 三角州 エ 台地

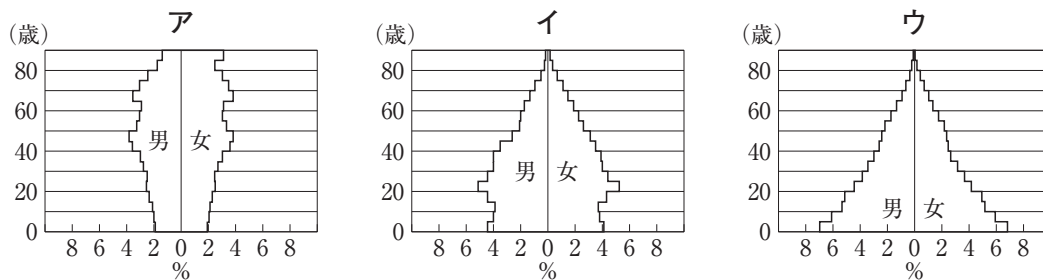
問4 下線部 d の水域を何といいますか。

問5 下線部 e について、下のア～エは、右の地図中の A～D のいずれかの都市が属する気候について述べています。C の都市が属する気候について述べた文を、ア～エから1つ選び、記号で答えなさい。



- ア 冬は晴れの日が多く、夏は降水量が多い。
- イ 冬の寒さが厳しく、1年を通して降水量が少ない。
- ウ 冬に雪が多く、夏は乾燥する。
- エ 1年を通して降水量が少なく、夏と冬の気温差が大きい。

問6 下線部 f について、次のア～ウのグラフは、日本の1930年、1970年、2018年の人口ピラミッドを示しています。これらを年代の古い順に並べかえ、記号で答えなさい。

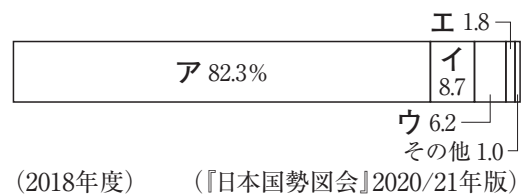


(『数字でみる日本の100年』第7版)

問7 下線部 g について、輸入や輸出にはおもに航空輸送と海上輸送が利用されています。航空輸送の特徴として正しいものを、下のア～エから2つ選び、記号で答えなさい。

- ア 新鮮さを保つ必要がある生花や魚介類などが多く輸送されている。
- イ 原油や石炭などの燃料が多く輸送されている。
- ウ 重量が重く、かさばる大型の機械などが多く輸送されている。
- エ I C (集積回路) などの軽量で高価なものが多く輸送されている。

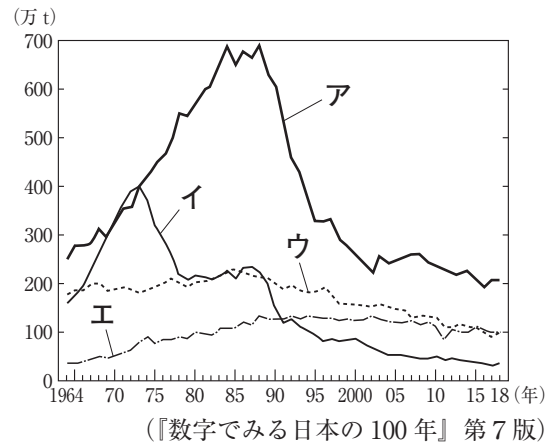
問8 下線部 h について、右のグラフは、日本の発電電力の内訳を示したもので、グラフ中のア～エには、火力発電、原子力発電、水力発電、太陽光発電のいずれかがあてはまります。水力発電にあてはまるものを、ア～エから1つ選び、記号で答えなさい。



(2018年度) (『日本国勢図会』2020/21年版)

問9 下線部 i に含まれる農業や漁業について、次の問いに答えなさい。

- (1) 国内で消費する食料のうち、国内で生産された食料が占める割合を何とといいますか。漢字5字で答えなさい。
- (2) 右のグラフは、日本の漁業種類別漁獲量割合の移り変わりを示しており、グラフ中のア～エは、遠洋漁業、沖合漁業、沿岸漁業、海面養殖業のいずれかを示しています。沖合漁業にあてはまるものを、ア～エから1つ選び、記号で答えなさい。



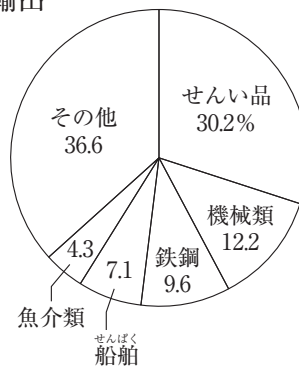
問10 下線部 j について、次の問いに答えなさい。

- (1) 第2次産業にあてはまるものを、下のア～エから1つ選び、記号で答えなさい。

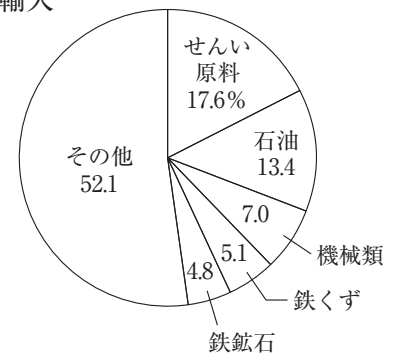
ア 林業 イ 建設業 ウ 運輸・郵便業 エ 小売業

- (2) 工業は第2次産業に含まれます。輸出

右のグラフは、1960年の日本のおもな輸出品と輸入品を示しています。当時の日本は、加工貿易がさかんでした。加工貿易とはどのような貿易ですか、「原料や燃料」「工業製品」の語句を用いて、簡単に説明しなさい。



輸入



(『日本国勢図会』2020/21年版)

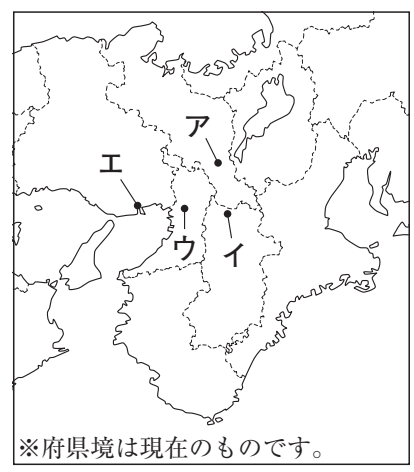
第3問 次の年表を見て、あとの問いに答えなさい。

年代	できごと
約1万年前	a <u>日本列島ができる</u>
710	b <u>平城京に都が移される</u>
743	c <u>墾田永年私財法が制定される</u>
1053	d <u>平等院鳳凰堂が建てられる</u>
1192	e <u>源頼朝が征夷大將軍に任命される</u>
	↑ ア ↓
1392	f <u>南北朝を統一する</u>
	↑ イ ↓
1575	g <u>長篠の戦いがおこる</u>
	↑ ウ ↓
1603	h <u>徳川家康が征夷大將軍に任命される</u>
	↑ エ ↓
1641	i <u>鎖国の体制が固まる</u>
19世紀前半	j <u>化政文化が栄える</u>
19世紀末	k <u>足尾鋇毒事件が発生する</u>
1895	l <u>下関条約を結ぶ</u>

問1 年表中の下線部 a について、このころから日本では縄文時代が始まりました。縄文時代の人々の生活について述べた文としてまちがっているものを、下のア～エから1つ選び、記号で答えなさい。

- ア 狩りや漁などで得た食料を保存したり、煮炊きしたりするために土器を使い始めた。
- イ 食物が豊かに実ることなどを祈るために、土偶という土製の人形を使用した。
- ウ 土地や水の利用をめぐって、ムラとムラとの間で争いが生じるようになった。
- エ 魚や動物の骨、貝がらなどを捨てた跡である貝塚ができた。

問2 年表中の下線部 b について、平城京が置かれた場所を、右の地図中のア～エから1つ選び、記号で答えなさい。



問3 年表中の下線部cについて述べた次の文章中の（ ）にあてはまる語句を、漢字2字で答えなさい。

このころ、口分田が不足していたことから、朝廷は、墾田永年私財法を定め、新しく開墾した土地を永久に自分のものとしてよいと認めた。これ以後、貴族や寺社は周りの農民を使って開墾を進め、やがて貴族や寺社の私有地は（ ）とよばれるようになった。

問4 年表中の下線部dは、藤原頼通がこの世に浄土を再現しようとして建てたものです。平等院鳳凰堂にあてはまるものを、下のア～エから1つ選び、記号で答えなさい。


ア




イ



ウ



エ



問5 下線部eの人物が開いた幕府が政治を行っていた時代に広まった新仏教の名称とその開祖の組み合わせとして正しいものを、下のア～エから1つ選び、記号で答えなさい。

ア 法然-浄土真宗 イ 親鸞-天台宗 ウ 空海-日蓮宗 エ 一遍-時宗

問6 下線部fを行い、60年近く続いた南北朝の内乱を終わらせた人物名を答えなさい。

問7 下線部gで勝利した織田信長が行った経済政策について述べた文として正しいものを、下のア～エから1つ選び、記号で答えなさい。

- ア 株仲間の結成を奨励し、営業の独占を認めるかわりに税を徴収した。
- イ 朝貢の形式で中国との貿易を始め、正式な貿易船に勘合をもたせた。
- ウ 座を廃止し、市場での税を免除して、自由な商工業の発展をはかった。
- エ 物価の上昇をおさえるために、株仲間を解散させた。

問8 下線部hにより、江戸時代が始まりました。江戸時代は、新田の開発や進んだ農業の技術が広まり、農業の生産力が高まりました。右の資料は、江戸時代に普及した、稲を脱穀するための農具です。この農具を何といいますか。



問9 下線部iのもとで、4つの藩・地域が幕府から海外との貿易・交流を認められていました。藩・地域とその貿易・交流相手の組み合わせとして正しいものを、下のア～エから1つ選び、記号で答えなさい。

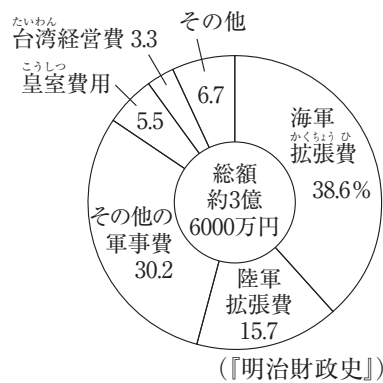
- ア 対馬藩, アイヌの人々 イ 薩摩藩, 琉球王国
ウ 松前藩, 朝鮮 エ 長州藩, 中国

問10 下線部jは、江戸の庶民が担い手となって栄えた文化です。化政文化で活躍した浮世絵師を、下のア～エから1つ選び、記号で答えなさい。

- ア 俵屋宗達 イ 雪舟 ウ 菱川師宣 エ 葛飾北斎

問11 下線部kの事件で、足尾銅山の操業停止を求め、天皇に直接訴えようとするなど、この問題の解決に尽力した人物はだれですか。

問12 下線部lについて、右のグラフは下関条約で獲得した賠償金の使いみちを示しており、写真は1901年に操業を開始した八幡製鉄所です。賠償金は、どのような目的に使われましたか、グラフと写真を参考に、「軍隊」「工業」の語句を用いて、簡単に説明しなさい。



問13 日本にキリスト教が初めて伝わった時期として正しいものを、年表中のア～エから1つ選び、記号で答えなさい。

第4問 次の表は、明治時代以降のおもなできごとを取り上げ、まとめたものです。表を見て、あとの問いに答えなさい。

富国強兵政策の実施	明治政府は、富国強兵政策として殖産興業を行い、a 富岡製糸場のよ うな官営工場をつくったり、b 税制度を改めたりした。
不平等条約の改正	明治政府は、c 幕末に結んだ不平等条約の改正にむけて努力を続け、 陸奥宗光が日清戦争の直前にイギリスとの間で <input type="text" value="d"/> に成功した。
e 第一次世界大戦	日本は日英同盟を理由に連合国側として参戦するとともに、f 中国に 対して、ドイツが山東省にもっている利権をゆずることなどを要求した。
大正時代の文化の 広がり	大正時代は教育が普及し、文化が大衆化するとともに、g 人々の生活 が欧米化した。
(h)	1931年、日本軍が奉天郊外の柳条湖で南満州鉄道の線路を爆破し、こ れを中国のしわざであるとして、攻撃を始め、i 満州全体を占領した。
第二次世界大戦	j 日本は第二次世界大戦に枢軸国側で参戦したが、ミッドウェー海戦 での敗北以後は、戦局が悪化し、k 1945年に連合国側に無条件降伏した。
l 冷たい戦争 (冷戦)	アメリカを中心とする資本主義諸国と、ソ連を中心とする社会主義諸 国が、直接戦火はまじえないものの、はげしく対立した。

問1 表中の下線部 a のつくられた場所を、右の地図中のア～エから1つ選び、記号で答えなさい。

問2 表中の下線部 b について、明治政府は、土地の値段を定めて土地の所有者に地券を発行し、土地の値段の3%を現金で納めさせるという税制度の改革を行いました。1873年から行われたこの改革を何といいますか。

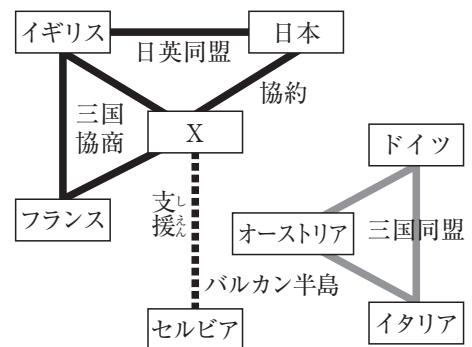
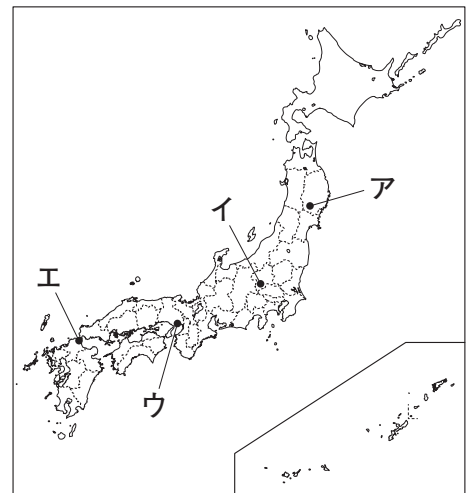
問3 表中の下線部 c について、1858年の日米修好通商条約を結んだときの江戸幕府の大老はだれですか。

問4 表中の にあてはまる内容を、15字以内で簡単に書きなさい。

問5 表中の下線部 e について、右の図は、第一次世界大戦前の国際関係を示しています。図中の にあてはまる国を、下のア～エから1つ選び、記号で答えなさい。

- ア ロシア イ オランダ
ウ アメリカ エ スペイン

問6 表中の下線部 f について、日本が中国に示した、この要求を何といいますか。



問7 表中の下線部 g について、大正時代の人々の生活について述べた文として正しいものを、下のア～エから1つ選び、記号で答えなさい。

- ア ラジオ放送が始まり、国内や海外のできごとがすぐに全国に伝わるようになった。
- イ 「三種の神器」とよばれる電気洗濯機、電気冷蔵庫、白黒テレビの家庭電化製品が普及した。
- ウ 東京を中心にれんがづくりの建物が増え、ガス灯やランプがともるようになった。
- エ 新橋－横浜間に鉄道が開通し、その後、神戸、大阪、京都も鉄道で結ばれた。

問8 表中の (h) にあてはまる語句を、漢字4字で答えなさい。

問9 表中の下線部 i 以降におこった下のア～エのできごとを、年代の古い順に並べかえ、記号で答えなさい。

- ア 陸軍の青年将校が首相官邸などを占拠する二・二六事件がおこった。
- イ 日本が国際連盟から脱退した。
- ウ 北京郊外で日中両軍が衝突した事件をきっかけに、日中戦争が始まった。
- エ 海軍の青年将校らが犬養首相を暗殺した五・一五事件がおこった。

問10 表中の下線部 j について、第二次世界大戦中に日本と軍事同盟を結んだ国を、下のア～エから2つ選び、記号で答えなさい。

- ア ドイツ イ フランス ウ イギリス エ イタリア

問11 下線部 k について、右の資料は、日本が無条件降伏をする際に受け入れた宣言の一部です。この宣言を何といいますか。

6. 日本国民をだまし、世界征服にのりだすといったあやまちを犯した者の権力と勢力は永久に取りのぞかなくてはならない。
8. 日本の主権がおよぶのは、本州・北海道・九州・四国と連合国が決める島に限る。 (一部要約)

問12 表中の下線部 l について、冷たい戦争（冷戦）の影響を受けて、朝鮮が南北に分断され朝鮮戦争がおこりました。朝鮮戦争がおこっていた間の日本のようすとして正しいものを、下のア～エから1つ選び、記号で答えなさい。

- ア 公害をなくすために、公害対策基本法が制定された。
- イ 東海道新幹線が開通し、各地で高速道路の建設が進められた。
- ウ 特需景気がおこり、経済の復興が早まった。
- エ 農地改革が行われ、自分の土地をもつ自作農が増えた。

第5問 右の表は、調べ学習の各班のテーマをまとめたものです。表を見て、次の問いに答えなさい。

1班	国会の役割と権限
2班	地方自治と地方公共団体
3班	国際連合のはたらきとしくみ
4班	国民の権利と義務
5班	司法権と司法制度改革
6班	日本における三権分立
7班	内閣の役割としくみ

問1 1班が調べた内容について、次の問いに答えなさい。

(1) 国会は衆議院と参議院から成り立っています。このように、国会が二つの議院から成り立つ制度を何といいますか。

(2) 多くの場合、国会で議席の多数を占める政党が内閣を組織し、政権を担当しています。このような政権を担当する政党を何といいますか。

(3) 国会の権限にあてはまるものを、下のア～エから1つ選び、記号で答えなさい。

- ア 条約を結ぶこと イ 予算案を作成すること
ウ 憲法改正を発議すること エ 法律にもとづいて政治を行うこと

問2 2班が調べた内容について、次の問いに答えなさい。

(1) 都道府県の首長を何といいますか。漢字2字で答えなさい。

(2) 下の表は、地方自治において住民がもつ直接請求権についてまとめたものです。表中の(X), (Y)にあてはまる数字の組み合わせとして正しいものを、あとのア～エから1つ選び、記号で答えなさい。

内容	必要な署名	請求先
条例の制定・改廃	有権者の(X)以上	首長
事務の監査		監査委員
議会の解散	有権者の(Y)以上	選挙管理委員会
議員・首長の解職		
主要な職員の解職		首長

ア X - 50分の1 Y - 2分の1 イ X - 50分の1 Y - 3分の1

ウ X - 3分の1 Y - 50分の1 エ X - 3分の1 Y - 2分の1

問3 3班が調べた内容について、国際連合にはさまざまな専門機関が設けられています。このうち、世界保健機関の略称として正しいものを、下のア～エから1つ選び、記号で答えなさい。

ア WTO イ UNICEF ウ UNESCO エ WHO

問4 4班が調べた内容について、次の問いに答えなさい。

(1) 基本的人権のうち社会権にあてはまるものを、下のア～エから1つ選び、記号で答えなさい。

- ア 選挙で投票すること イ 自由に自分の意見を発表すること
ウ 人間らしい生活を送ること エ 財産をたくわえること

(2) 日本国憲法には直接定められていないが、社会の変化にともなって新しい人権が主張されるようになりました。新しい人権のうち、自分の生活や生き方を自分で決定する権利を何といいますか。

問5 5班が調べた内容について、次の問いに答えなさい。

(1) 日本では、同一の事件において3回まで裁判が受けられる三審制を採用しています。三審制が採用されている理由を、「慎重」「人権」の語句を用いて、20字以内で簡単に説明しなさい。

(2) 2009年から、20歳以上の国民からくじで選ばれた者が、重大な犯罪についての刑事裁判の第一審に参加し、裁判官とともに被告人の有罪・無罪や刑罰の内容を決める制度が始まりました。この制度を何といいますか。

問6 6班が調べた内容について、右の図は、日本の三権分立のしくみを示したものです。図中のAにあてはまるものを、下のア～エから1つ選び、記号で答えなさい。

- ア 衆議院解散の決定 イ 国会の召集
ウ 弾劾裁判 エ 法律の違憲審査

問7 7班が調べた内容について、内閣の助言と承認にもとづいて行われる天皇の形式的・儀礼的な行為を何といいますか。

