

2022年度

入学試験

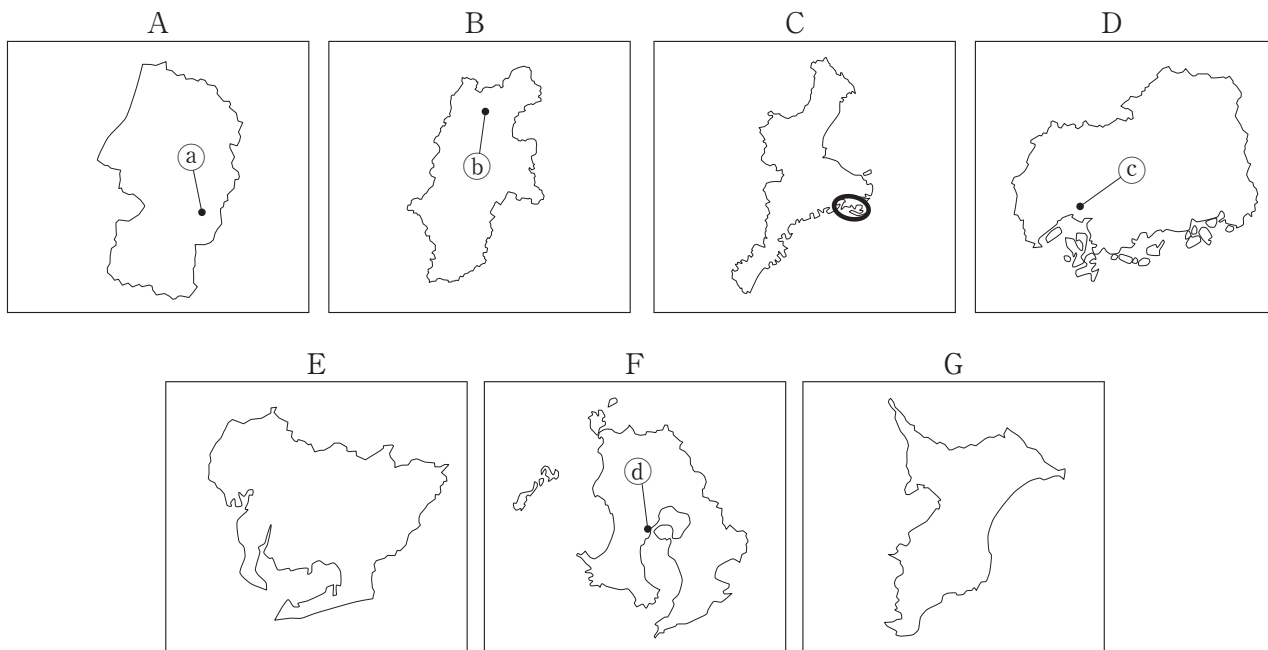
# 社会問題(A1)

(全 13 ページ)

## 注意事項

1. 受験番号、氏名および解答はすべて別紙の解答用紙に記入しなさい。
2. 問題用紙に解答を書きこんでも採点されません。

第1問 次のA～Gの県について、あとの問いに答えなさい。



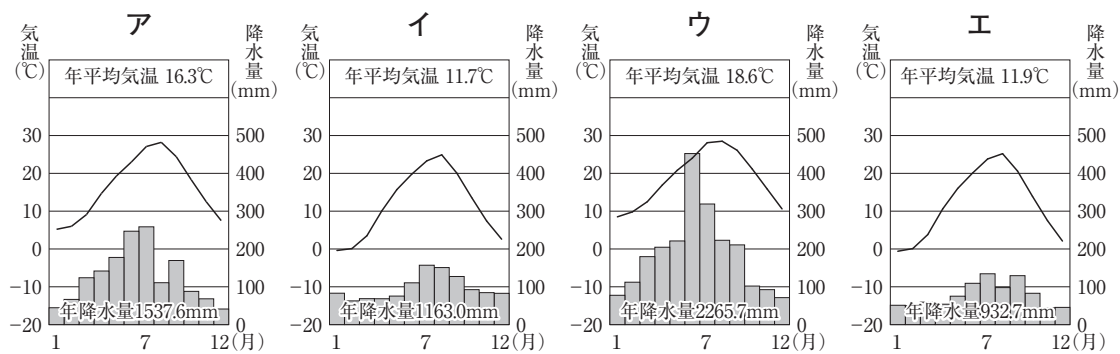
(それぞれの図の縮尺は同じではありません。一部の島は省略しています。)

問1 A～Gの7県のうち、最も南に位置する県を1つ選び、記号で答えなさい。

問2 A～Gの7県のうち、人口が最も多い県の県庁所在地名を答えなさい。

問3 次のア～エのグラフは、㉠～㉣のいずれかの都市の月別の平均気温と降水量を示したものです。

㉠の都市のグラフにあてはまるものを、下のア～エから1つ選び、記号で答えなさい。



(『理科年表』2021年版)

問4 Aの県について、次の問いに答えなさい。

- (1) 次の資料は、松尾芭蕉がAの県を流れている川をよんだ俳句です。資料中の（ ）にあてはまる川を、下のア～エから1つ選び、記号で答えなさい。

五月雨を 集めて早し ( )

ア 長良川 イ 最上川 ウ 筑後川 エ 信濃川

- (2) Aの県の沖合を北上する海流名を答えなさい。

問5 Bの県について述べた文として最も適切なものを、下のア～エから1つ選び、記号で答えなさい。

- ア 盆地に広がる扇状地で、ぶどうやももなどの栽培がさかんである。  
イ 耕地を複数の区画に分け、一年ごとに栽培する農作物を変える輪作を行っている。  
ウ 稲作後に、小麦や大麦を栽培する二毛作を行っている。  
エ 日当たりのよいだんだん畑で、みかんなどのかんきつ類を栽培している。

問6 右の写真は、Cの県の○で示された地域で行われている養殖の様子です。この地域で養殖がさかんなものを、下のア～エから1つ選び、記号で答えなさい。

ア ほたて イ ひらめ ウ わかめ エ 真珠



問7 Dの県について、次の問いに答えなさい。


- (1) Dの県の伝統的工芸品として最も適切なものを、下のア～エから1つ選び、記号で答えなさい。

ア 越前和紙 イ 九谷焼  
ウ 熊野筆 エ 小千谷ちぢみ

- (2) Dの県が位置する地方で見られるものとして、まちがっているものを、下のア～エから1つ選び、記号で答えなさい。

ア 日光東照宮 イ 石見銀山 ウ 巖島神社 エ 出雲大社

問8 右の写真は、Eの県で行われている菊の電照栽培の様子です。菊は日照時間が短くなると、花が咲くという特性があることから、夜間にも菊に光を当てて生長をおさえ、菊の出荷時期をずらしています。このような栽培を行う利点を、「価格」の語句を用いて、簡単に説明しなさい。



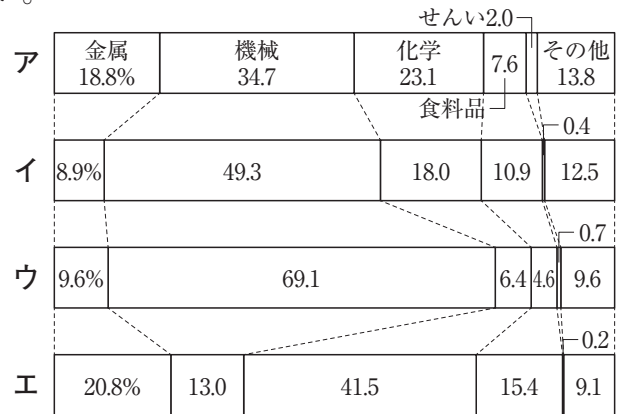
問9 次の文は、Fの県に属する離島について述べた文です。この離島名を答えなさい。

この島は、かつて日本に初めて鉄砲が伝来した島であり、現在は人工衛星の打ち上げ施設が設置されている。

問10 Gの県について、次の問いに答えなさい。

(1) Gの県の西部に広がる工業地域名を答えなさい。

(2) 右のア～エのグラフは、中京工業地帯、京浜工業地帯、瀬戸内工業地域と(1)の工業地域のいずれかの製造品出荷額等割合を示したものです。(1)の工業地域の製造品出荷額等割合にあてはまるものを、ア～エから1つ選び、記号で答えなさい。



(2018年)

(『日本国勢図会』2021/22年版)

問11 次の表は、ある野菜の生産量上位5県の生産量割合を示したものです。表中のX～Zにあてはまる野菜の組み合わせとして正しいものを、下のア～エから1つ選び、記号で答えなさい。

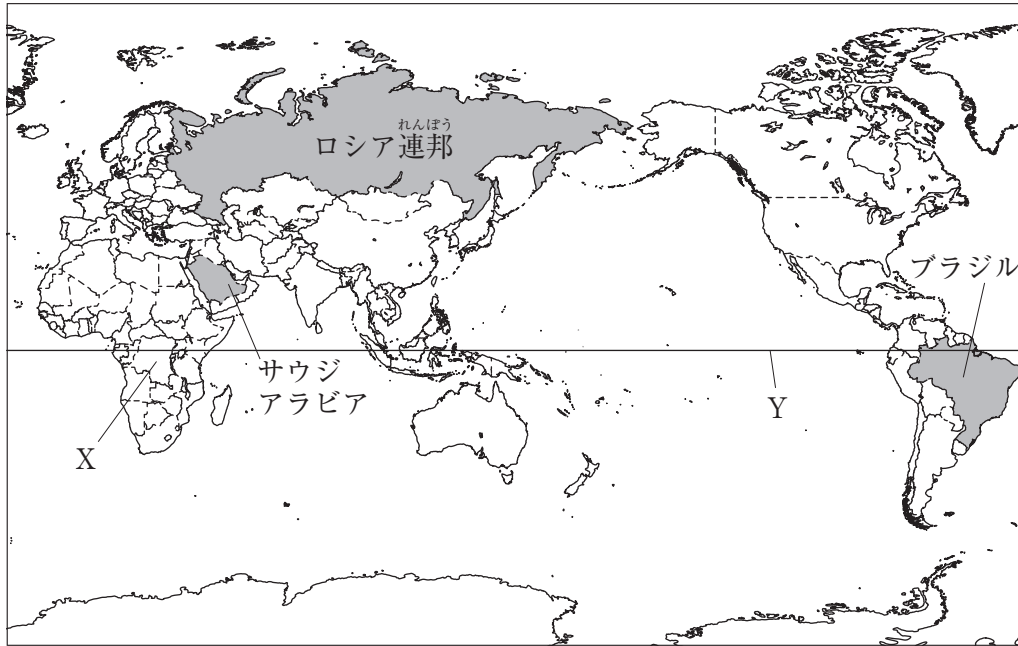
X		Y		Z	
県	割合 (%)	県	割合 (%)	県	割合 (%)
Bの県	34.2	群馬県	18.7	北海道	32.7
茨城県	14.9	Eの県	18.2	Gの県	15.7
群馬県	8.9	Gの県	7.5	徳島県	8.6
長崎県	6.2	茨城県	7.2	青森県	6.7
兵庫県	5.2	Fの県	5.2	長崎県	5.2

(2019年)

(『日本国勢図会』2021/22年版)

- ア X-レタス Y-にんじん Z-キャベツ  
 イ X-にんじん Y-キャベツ Z-レタス  
 ウ X-キャベツ Y-レタス Z-にんじん  
 エ X-レタス Y-キャベツ Z-にんじん

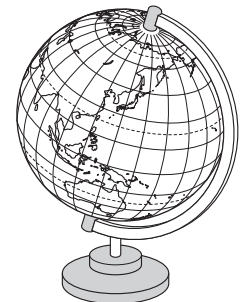
第2問 日本と世界について、あとの問いに答えなさい。



問1 上の地図中のXの大陸名を答えなさい。

問2 地図中のYは、緯度0度の緯線を示しています。Yの緯線を何といいますか。漢字2字で答えなさい。

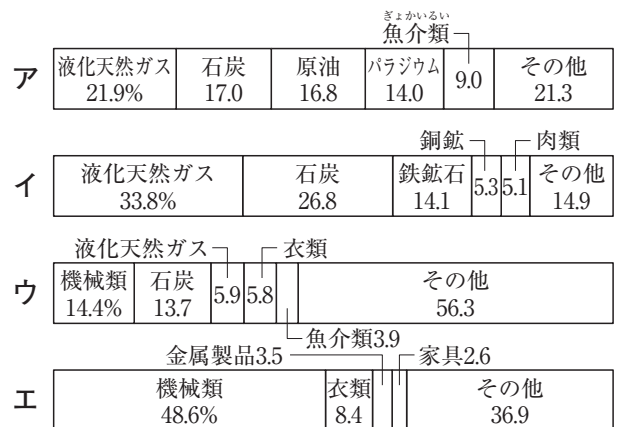
問3 右の図は、地球の形や面積、角度などを正しく表した模型です。この模型を何といいますか。



問4 地図中のサウジアラビアについて述べた文を、下のア～エから1つ選び、記号で答えなさい。

- ア 儒教を重んじており、ハンゲルという独自の文字を使用している。
- イ 国際連合の本部があり、さまざまな人種や民族が暮らしている。
- ウ かつて一人っ子政策を行い、人口増加を抑えていた。
- エ 国土の大部分が砂漠におおわれており、おもにイスラム教を信仰している。

問5 地図中のロシア連邦からの日本の輸入品割合として最も適切なものを、右のア～エのグラフから1つ選び、記号で答えなさい。



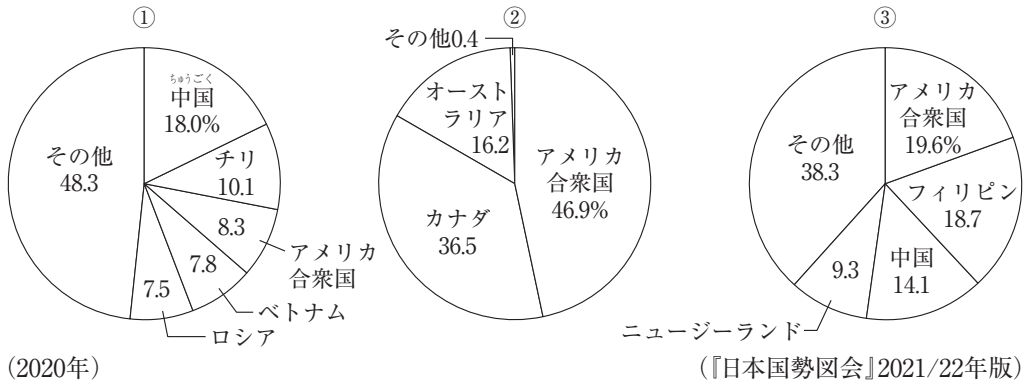
(2020年)

(『日本国勢図会』2021/22年版)

問6 地図中のブラジルでは、自動車の燃料として、さとうきびなどからつくられた燃料が利用されています。このような燃料を何といいますか。

問7 日本と世界の農業について、次の問いに答えなさい。

(1) 次の①～③のグラフは、小麦、果実、魚介類ぎょかいのいずれかの日本の輸入相手国割合を示しています。①～③のグラフにあてはまるものの組み合わせとして正しいものを、下のア～エから1つ選び、記号で答えなさい。

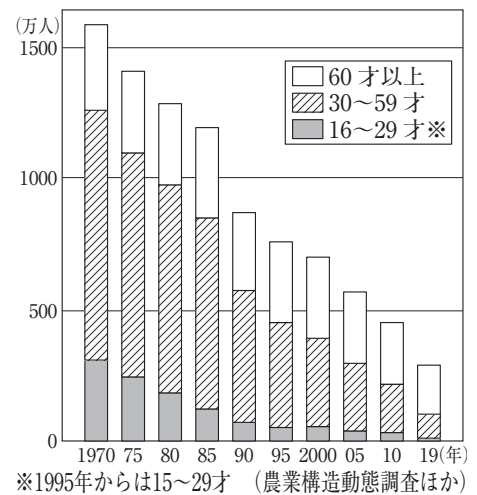


- ア ①－小麦 ②－果実 ③－魚介類
- イ ①－魚介類 ②－小麦 ③－果実
- ウ ①－果実 ②－魚介類 ③－小麦
- エ ①－魚介類 ②－果実 ③－小麦

(2) 右のグラフは、日本の農業で働く人数の移り変わりを示しています。グラフから読み取れる、現在の日本の農業の課題を、「若い人」の語句を用いて、説明しなさい。

問8 世界では、現在でも、さまざまな人権問題や紛争ふんそうが発生しています。新疆ウイグル自治区との間でさまざまな問題が発生している国を、下のア～エから1つ選び、記号で答えなさい。

- ア アフガニスタン
- イ 中国
- ウ 韓国
- エ インド



### 第3問 次の文章を読んで、あとの問いに答えなさい。

2022年は令和4年で、令和とは元号（年号）の1つである。元号を用いた年代の表記は、a 漢の時代の中国で始まったといわれている。これ以後、元号による年代表記は、中国の歴代王朝に引きつがれ、中国最後の王朝である清がほろびるまで続いた。

日本では、b 中大兄皇子と（ X ）らによって蘇我氏がたおされた645年に、初めて大化という元号が定められた。それ以前は、大王が即位してから何年という数え方が行われており、中国とやりとりをした文書では、中国の元号が使われていた。701年に制定された（ Y ）によって、公式な文書には元号を用いることが定められ、日本における元号の使用が確立したと考えられている。

政治の実権が天皇や貴族からc 武士に移っても、元号を定めるのは天皇であるという原則は守られてきた。d 奈良時代までは、天皇が即位したときやおめでたいことがあったときに改元（新しい元号に変えること）が行われた。また、e 平安時代からは、f 異変やひどい災害がおこったときにも、厄ばらいの意味で、たびたび改元が行われ、1つの元号が使われる期間が数年の場合もあった。そこで、g 明治時代からは、天皇が即位するときに定めた元号は、その在位中は改元しないという一世一元の制が確立された。

問1 文章中の下線部aについて書かれた歴史書の1つに、『後漢書』東夷伝があります。『後漢書』東夷伝に書かれた、当時の日本の様子として正しいものを、下のア～エから1つ選び、記号で答えなさい。

- ア 中国に使いを送ったなこくの王が、中国の皇帝から金印を授けられた。
- イ やまたいこくの女王の卑弥呼が、30あまりの国を従えていた。
- ウ わ倭の五王が、ちようせん朝鮮半島の支配権を認めてもらうため中国に使者を送ってきた。
- エ 倭王からの国書には、「日出づるところの天子、書を日没するところの天子に致す」とあった。

問2 文章中の下線部bの人物について述べた文として正しいものを、下のア～エから1つ選び、記号で答えなさい。

- ア 自分の娘を天皇のきさきとし、その子どもを次の天皇に立てて、権力をにぎった。
- イ くだら百済の復興を助けるために、とう しらぎ唐・新羅の連合軍と戦い、大敗した。
- ウ 役人の心構えとして、仏教や儒教の考えを取り入れた十七条の憲法を制定した。
- エ えみし せいとう蝦夷を征討するために、さかのうえの たむら まろ坂上田村麻呂を征夷大將軍に任命して、東北地方に派遣した。

問3 文章中の（ X ）にあてはまる人物は、亡くなるときに天皇から「藤原」の姓をたまわりました。この人物名を答えなさい。

問4 文章中の（ Y ）にあてはまる、唐にならって制定された、<sup>けいばつ</sup>刑罰や政治のしくみを定めた法を何といますか。漢字4字で答えなさい。

問5 文章中の下線部cについて、次の問いに答えなさい。

(1) 武士が政治を行っていた時代におこった下のア～エのできごとを、年代の古い順に並べかえ、記号で答えなさい。

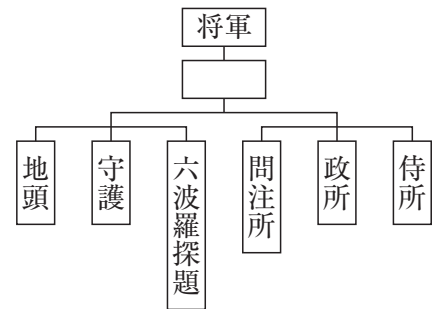
ア 中国の<sup>せいふく</sup>征服を目的に、2度にわたり朝鮮半島に大軍が送られた。

イ 武士独自の法として、武士の慣習をまとめた<sup>ごせいばいしきもく</sup>御成敗式目（<sup>じょうえい</sup>貞永式目）が制定された。

ウ <sup>げん</sup>元の軍勢が2度にわたり九州の北部に攻めてきたが、しりぞけられた。

エ 将軍のあとつぎをめぐる問題などから、都を中心に<sup>おうにん</sup>応仁の乱がおこった。

(2) 右の図は、<sup>かまくらぼくふ</sup>鎌倉幕府のしくみです。図中の□にあてはまる語句を答えなさい。



(3) 右下の写真は、武士が政治を行っていた<sup>むらまち</sup>室町時代に、日本で使われていた中国の貨幣です。なぜ中国の貨幣が、当時の日本で流通していたのかを、説明しなさい。

問6 文章中の下線部dの時代に、中国から日本へ<sup>わた</sup>渡り、日本に正式な仏教の<sup>かいりつ</sup>戒律（きまりごと）を伝えた人物として正しいものを、下のア～エから1つ選び、記号で答えなさい。

ア <sup>くわかい</sup>空海    イ <sup>さいちやう</sup>最澄    ウ <sup>ぎやうき</sup>行基    エ <sup>がんじん</sup>鑑真



問7 文章中の下線部eの時代、10世紀半ばに関東地方で、<sup>しんのう</sup>新皇を名乗って新しい国家をつくろうとして、武士がおこした反乱を、下のア～エから1つ選び、記号で答えなさい。

ア <sup>たいらのまさかど</sup>平将門の乱    イ <sup>ぜんくねんかっせん</sup>前九年合戦    ウ <sup>ほうげん</sup>保元の乱    エ <sup>だんのうら</sup>壇ノ浦の戦い

問8 文章中の下線部fについて、次の問いに答えなさい。

(1) 奈良時代に、<sup>でんせんびやう</sup>伝染病がはやり、ききんがおこったことから、<sup>しやうむ</sup>聖武天皇がつくったものとして最も適切なものを、下のア～エから1つ選び、記号で答えなさい。


ア



イ



ウ



エ





(2) 江戸時代には、京都で起こった大火をきっかけに、天明から寛政への改元が行われました。寛政の改革の内容としてまちがっているものを、下のア～エから1つ選び、記号で答えなさい。

ア 幕府の学問所で、朱子学以外の講義や研究が禁止された。

イ 物価の引き下げをはかるため、株仲間の解散が行われた。

ウ ききんに備え、各地に米をたくわえさせる囲米が命じられた。

エ 農村を立て直すため、江戸へ出かせぎに出ていた農民を村に帰した。

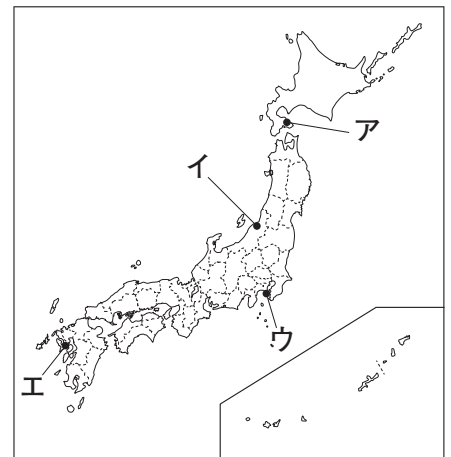
(3) 江戸時代には、天災などによってききんがおこると、都市では貧しい人々が米を買い占めた商人をおそい、家屋などを破壊しました。このような行動を何といいますか。

問9 次の年表は、文章中の下線部gの元号に改元される前のできごとについてまとめたものです。あとの問いに答えなさい。

年	できごと
嘉永 6年	ペリーが浦賀に來航する…A
<input type="text" value="B"/> 5年	日米修好通商条約を結ぶ
	<input type="text" value="B"/> の大獄が始まる

(1) 年表中のAについて、ペリーが來航した場所を、右の地図中のア～エから1つ選び、記号で答えなさい。

(2) 年表中のに共通してあてはまる元号を答えなさい。



第4問 日本の近現代の動きについてまとめた次の年表について、あとの問いに答えなさい。

年	できごと
1868	明治政府が a <u>新しい政治の方針</u> を示す
1889	b <u>大日本帝国憲法</u> が公布される
1894	c <u>日清戦争</u> がおこる
	↑ ア ↓
1901	d <u>八幡製鉄所</u> が操業を開始する
	↑ イ ↓
1910	e を行い、 <u>朝鮮総督府</u> を設置する
1912	桂内閣が成立し、 f <u>護憲運動</u> がおこる
	↑ ウ ↓
g 1925	<u>普通選挙法</u> が制定される
1929	h がおこる
	↑ エ ↓
1941	i <u>アジア太平洋戦争</u> がおこる
1951	j <u>日本が独立を回復する</u>
1956	k <u>日本が国際社会に復帰する</u>

問1 右の資料は、年表中の下線部 a の一部を示したものです。この方針を何といいますか。

問2 年表中の下線部 b について述べた文として まちがっているものを、下のア～エから1つ選び、記号で答えなさい。

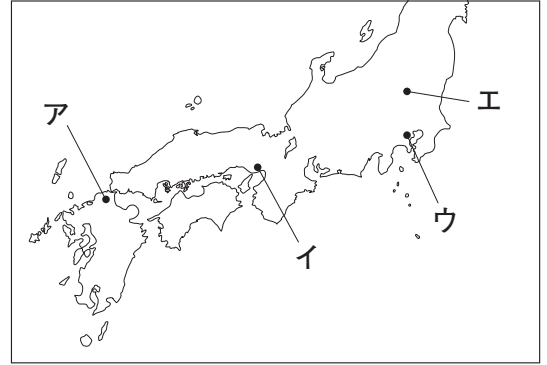
一、廣ク會議ヲ興シ万機公論ニ決スベシ  
 一、上下心ヲ一ニシテ盛ニ經綸ヲ行フベシ  
 一、官部一途庶民ニ至ル迄、各其志ヲ遂ゲ、人心ヲシテ倦マザラシメンコトヲ要ス

- ア 天皇が国民にあたえるという形をとって公布された。
- イ 帝国議会は国権の最高機関であると位置づけられていた。
- ウ 国の統治権は神聖不可侵の天皇がもつと定められた。
- エ 国民は臣民とされ、法律の範囲内で自由や権利が認められた。

問3 年表中の下線部 c の講和条約の内容として正しいものを、下のア～エから1つ選び、記号で答えなさい。

- ア 朝鮮の独立を認め、日本に台湾、遼東半島などをゆずり、賠償金を支払う。
- イ 日本がロシアに樺太の領有を認めるかわりに、千島列島のすべてを日本領とする。
- ウ 日本はこれまでドイツが中国の国内にもっていたすべての権益を受けつぐ。
- エ ロシアは日本に韓国における優越権を認め、樺太の南半分を日本にゆずる。

問4 年表中の下線部 d がつくられた場所を、右の地図中のア～エから1つ選び、記号で答えなさい。



問5 年表中の  にあてはまる語句を答えなさい。

問6 年表中の下線部 f について、護憲運動の中心人物の1人で、のちに五・一五事件の犠牲となった人物を、下のア～エから1つ選び、記号で答えなさい。

- ア 原敬                      イ 犬養毅
- ウ 東条英機                エ 新渡戸稲造

問7 年表中の下線部 g 以前におこったできごととして正しいものを、下のア～エから1つ選び、記号で答えなさい。

- ア 政党が解散され、大政翼賛会に合流された。
- イ 日本が国際連盟を脱退した。
- ウ 日本がドイツ・イタリアと日独伊三国同盟を結んだ。
- エ 日本が二十一か条の要求を中国に提出した。

問8 年表中の  にあてはまる、アメリカ合衆国での株価の大暴落をきっかけに、世界中に広がった深刻な不況を何といいますか。

問9 年表中の下線部 i について、この戦争のころの日本の様子としてまちがっているものを、下のア～エから1つ選び、記号で答えなさい。

- ア 重い税の負担や賠償金がないことへの不満から、日比谷焼き打ち事件がおこった。
- イ 空襲を避けるため、都市部の小学生を集団で地方へ疎開させた。
- ウ 徴兵を猶予されていた大学生が、兵士として戦場へ送られた。
- エ 労働力不足を補うため、中学生や女子学生が軍需工場などに動員された。

問10 年表中の下線部 j の内容が定められた，アメリカ合衆国など 48 か国との間で結ばれた条約を何といいますか。

問11 年表中の下線部 k について，日本は国際連合への加盟によって，国際社会に復帰しました。国際連合への加盟のきっかけとなったできごとを，説明しなさい。

問12 次のできごとがおこった時期として，最も適切なものを，年表中の **ア～エ** から 1 つ選び，記号で答えなさい。

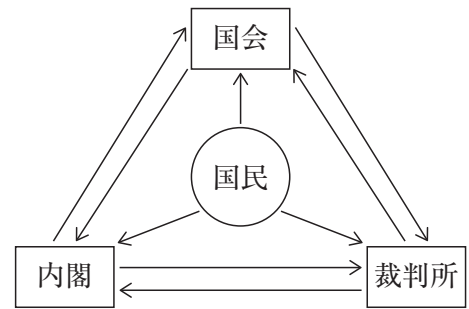
日本は，イギリスとの同盟を後ろだてとして，ロシアと開戦した。
--------------------------------

第5問 次の資料1～4について、あとの問いに答えなさい。

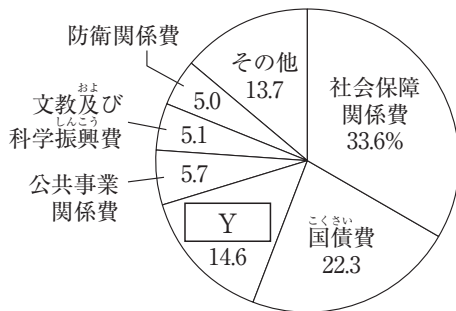
資料1

日本国憲法の3つの柱	
国民主権	国民が主権をもつこと
平和主義	平和のために戦争を放棄すること
Xの尊重	一人ひとりを、個人として尊重すること

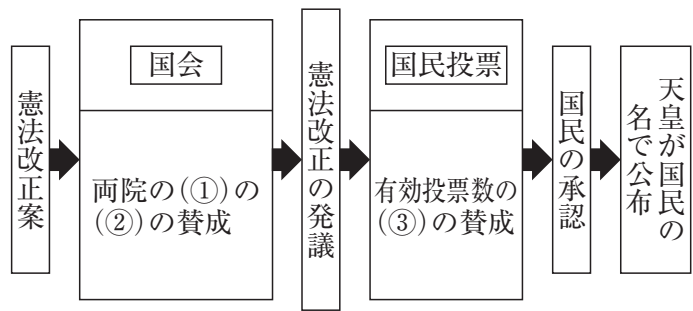
資料2



資料3



資料4



(2021年度) (『日本国勢図会』2021/22年版)

問1 資料1について、次の問いに答えなさい。

- (1) 資料1中の X にあてはまる語句を、漢字5字で答えなさい。
- (2) 日本国憲法が保障している自由権にあてはまるものを、下のア～エから1つ選び、記号で答えなさい。
  - ア 教育を受ける権利      イ 職業を選択する権利
  - ウ 政治に参加する権利      エ 差別されない権利
- (3) 日本国憲法に定められている国民の義務として まちがっているもの を、下のア～エから1つ選び、記号で答えなさい。
  - ア 仕事について働く      イ 子どもに教育を受けさせる
  - ウ 税金を納める      エ 選挙のときに投票する

問2 資料2中の国会について、次の問いに答えなさい。

- (1) 日本の国会は、2つの議院からなる二院制をとっています。2つの議院のうち、参議院ともう1つの議院を何といいますか。
- (2) 参議院について述べた文として適切なものを、下のア～カからすべて選び、記号で答えなさい。
- ア 任期は4年である。                      イ 任期は6年である。
- ウ 被選挙権は満25才以上である。      エ 被選挙権は満30才以上である。
- オ 3年ごとに議員定数の半数が改選される。
- カ 解散があると、任期の途中であっても議席を失う。

問3 資料2中の内閣について述べた次の①、②の文の正・誤の組み合わせとして正しいものを、下のア～エから1つ選び、記号で答えなさい。

- |  |
|--|
| ① 内閣は、天皇の国事行為に対して助言と承認を行う。             |
| ② 重大なあやまちのある裁判官を裁くための、弾劾裁判所を設けることができる。 |

- ア ①－正 ②－正      イ ①－正 ②－誤
- ウ ①－誤 ②－正      エ ①－誤 ②－誤

問4 資料2中の裁判所について、日本国憲法第76条では、裁判官は自らの良心に従って裁判を行い、憲法と法律にのみ拘束されると定められています。この原則を何といいますか。

問5 日本は、資料2のように、国会・内閣・裁判所がそれぞれ独立し、監督しあう三権分立をとっています。三権分立をとる目的を、「権力」の語句を用いて、説明しなさい。

問6 資料3は、2021年度予算の内訳を示しています。資料3中の「Y」にあてはまる、使い道を定めず支給される、地方公団体の財源不足を補うための費用を何といいますか。

問7 資料4は、憲法改正の手続きについて示したものです。資料4中の「①」～「③」にあてはまる語句を、下のア～エから1つずつ選び、記号で答えなさい。

- ア 総議員数      イ 出席議員数      ウ 3分の2以上      エ 過半数