

2023年度

入学試験

社会問題(A1)

(全 12 ページ)

注意事項

1. 受験番号、氏名および解答はすべて別紙の解答用紙に記入しなさい。
2. 問題用紙に解答を書きこんでも採点されません。

第1問 次の文章を読んで、あとの問いに答えなさい。

日本は a ユーラシア大陸の東に位置する b 島国で、4つの大きな島と、約7000の離島りとうから成り立っている。離島には無人島も多く、日本の南のはしに位置する c 沖ノ鳥島おきのとりもこれにあたる。

日本列島は、環太平洋造山帯かんたいへいように位置しており、地震などの d 自然災害じしんが多い国でもある。気候による自然災害も多い。そのため、地域ごとに影響えいきょうを受けやすい気候や自然災害に備えて、e 人々の暮らしが行われてきている。

また、日本は47の都道府県に区分されているが、そのうちの f 8県は海に面していない内陸県である。都道府県は g 7つの地方に分けられることが多いが、h さらに細かい地域に分けられることもある。

問1 文章中の下線部 a のユーラシア大陸に位置する国として正しいものを、次のア～エから1つ選び、記号で答えなさい。

ア ケニア イ インド ウ カナダ エ オーストラリア

問2 文章中の下線部 b について、次の資料1中の㉔～㉞は、島国である日本の周りを囲む4つの海についてまとめたものです。㉔にあてはまる海の名前を答えなさい。

資料1

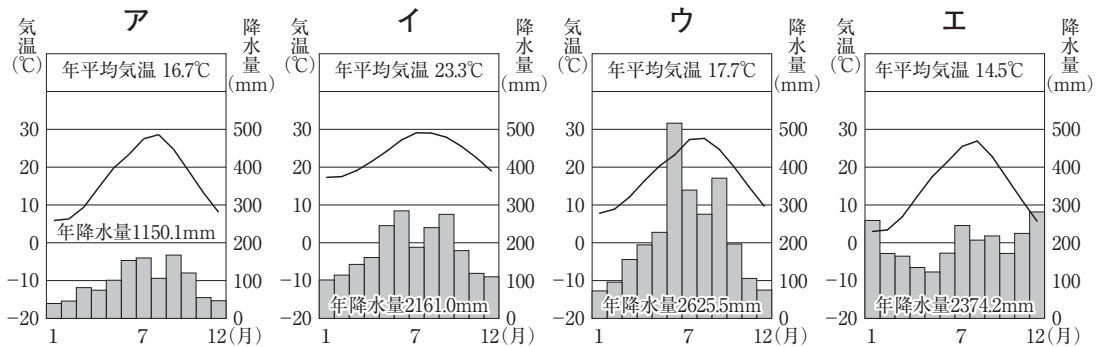
㉔	さけ、ます、たら、かになどの水産資源 <small>めぐ</small> に恵まれている。冬期には流氷が見られる。
㉕	大陸棚 <small>たいりくだな</small> が広がり、よい漁場となっている。海底資源の開発が行われている場所もある。
㉖	暖流 <small>くろしお</small> の黒潮と寒流 <small>おやしお</small> の親潮が流れている。地球の表面の約3分の1にあたる広さがある。
㉞	暖流 <small>つしま</small> の対馬海流と寒流のリマン海流が流れている。冬には海が荒 <small>あ</small> れることが多い。

問3 文章中の下線部 c について、この島では国によって周囲をコンクリートブロックで囲む工事が行われました。このような工事が行われた理由を説明しなさい。

問4 文章中の下線部 d について、次の問いに答えなさい。

- (1) 自然災害が発生したときの被害ひがいの予測ひなんや避難場所などを書き込んだ、主に地方公共団体が発行している地図を何といいますか。

(2) 右の資料2は、ある自然災害に備えてつくられた伝統的な家屋 資料2
 です。資料2が見られる地域の気温と降水量を示したグラフとして
 正しいものを、次のア～エから1つ選び、記号で答えなさい。



(『理科年表』2022年版)

問5 文章中の下線部 e について、沖縄県の伝統的な家が、屋根が低く、周りを石垣でおおわれたつくりになっている理由を、次のア～エから1つ選び、記号で答えなさい。

- ア 火山が多く、^{ふんか}噴火による火山灰などの影響を受けやすいから。
- イ 短い河川^{かせん}しかなく、水不足になりやすいため、屋根の上に給水タンクを設置しているから。
- ウ 台風がよく通過することにより、強風から家を守る必要があるから。
- エ 冬の寒さが厳しく、外の冷気を家の中になるべく入れないようにしたいから。

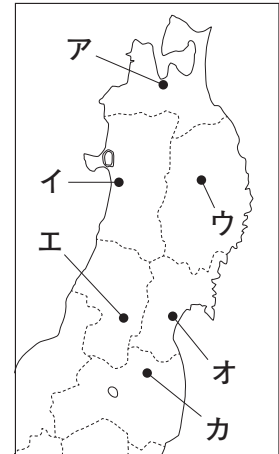
問6 文章中の下線部 f にふくまれる県についての説明として正しいものを、次のア～エから1つ選び、記号で答えなさい。

- ア 果物の生産がさかんで、ぶどうとももの生産では全国1位である。
- イ らっかせいや日本なしのほか、首都圏^{しゅとけん}向けの野菜の近郊^{きんこう}農業がさかんである。
- ウ 稲作^{いなさく}に不向きなシラス台地が広がることから、畜産^{ちくさん}やさつまいもなどの栽培^{さいばい}がさかんである。
- エ みかんやいちごのほか、^{まきのほら}牧ノ原台地を中心に茶の栽培がさかんである。

問7 文章中の下線部gについて、次の問いに答えなさい。

- (1) 右の地図中のア～カは、東北地方の各県の県庁所在地を示しています。県名と県庁所在地名が異なる都市を、ア～カから2つ選び、記号で答えなさい。
- (2) 東北地方の県庁所在地のうち、伝統的工芸品の「南部鉄器」の産地として知られる都市名を答えなさい。

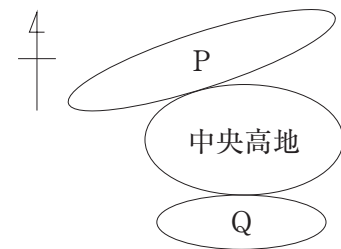
地図



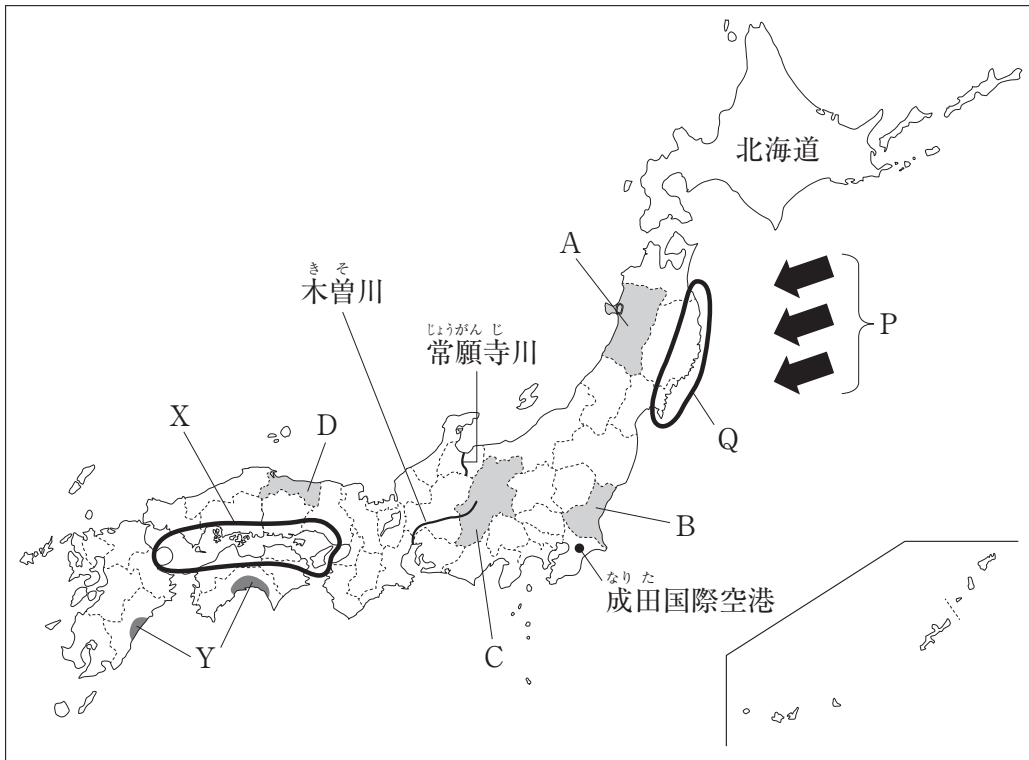
問8 文章中の下線部hについて、右の資料3は、ある地方の細かい地域区分をわかりやすく示したものです。資料3中のPとQにあてはまる地域名の組み合わせとして正しいものを、次のア～エから1つ選び、記号で答えなさい。

- ア P - 山陰^{さんいん}, Q - 山陽 イ P - 山陰, Q - 東海
 ウ P - 北陸, Q - 山陽 エ P - 北陸, Q - 東海

資料3



第2問 次の地図を見て、あとの問いに答えなさい。



問1 地図中にPで示された風についての説明として正しいものを、次のア～エから1つ選び、記号で答えなさい。

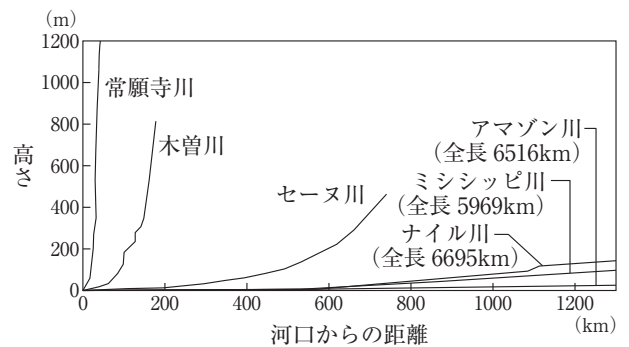
- ア 「やませ」とよばれる冷たくしめった風で、冷害を引き起こすことがある。
- イ 「からっ風」とよばれる冷たくかわいた風で、冷害を引き起こすことがある。
- ウ 「やませ」とよばれる冷たくかわいた風で、^{かんがい}干害を引き起こすことがある。
- エ 「からっ風」とよばれる冷たくしめった風で、干害を引き起こすことがある。

問2 地図中のQの海岸で養殖がさかんなものを、次のア～エから1つ選び、記号で答えなさい。

- ア たい ^{しんじゅ}真珠
- イ 真珠
- ウ わかめ
- エ はまち

問3 右の資料1は、地図中の常願寺川、木曽川と世界の主な川の高さと河口からの距離を示したものです。次の問いに答えなさい。

資料1



- (1) 資料1から読み取れる、世界の川と比べた日本の川の特徴を説明しなさい。
- (2) 資料1中のアマゾン川の河口が位置する国を、次のア～エから1つ選び、記号で答えなさい。

- ア アメリカ合衆国 ^{がっしゅうこく}
- イ フランス
- ウ ブラジル
- エ エジプト

問4 地図中のXの地域について、次の問いに答えなさい。

- (1) 次の文は、地図中のXの地域の気候について説明したものです。文中の()に共通してあてはまる語句を、漢字3字で答えなさい。

()が山地にさえぎられることから、()の影響をほとんど受けず、一年を通して雨が少なく、晴天の日が多い。

- (2) Xの地域のうち、倉敷市や周南市などでは、石油製品の関連工場をパイプラインで結んで、原料や燃料などを効率よく輸送できるようにしています。このような工場の集まりを何といいますか。

問5 地図中のYの平野では、温室やビニールハウスなどの施設を利用した野菜づくりがさかんです。このような施設を利用した農業は、農業とよばれています。にあてはまる語句を、漢字4字で答えなさい。

問6 地図中の北海道について、次の問いに答えなさい。資料2

- (1) 右の資料2は、北海道と東京都の面積と人口を比べたものです。東京都の人口密度は、北海道の約何倍になりますか、最も適切なものを、次のア～エから1つ選び、記号で答えなさい。

	面積 (千 km ²)	人口 (千人)
北海道	83	5225
東京都	2	14048

(面積は2021年、人口は2020年、北海道の面積には北方領土をふくむ。)

(『日本国勢図会』2022/23年版)

- ア 約11倍 イ 約110倍
ウ 約22倍 エ 約220倍

- (2) 右の資料3は、北海道で飼育数の多いある家畜の都道府県別の飼育数の割合を示したものです。資料3にあてはまるものを、次のア～エから1つ選び、記号で答えなさい。

資料3

	鹿兒島	その他
北海道	13.5	51.1

宮崎 9.6 熊本 5.2
(2021年) (『データでみる県勢』2022年版)

- ア 豚 イ にわとり ウ 乳用牛 エ 肉用牛

問7 次の資料4は、地図中の成田国際空港と、東京港、横浜港、神戸港のいずれかのおもな輸出品とその割合を示したものです。成田国際空港のおもな輸出品とその割合を示しているものを、資料4中のア～エから1つ選び、記号で答えなさい。

資料4

港	おもな輸出品とその割合 (金額円による%)
ア	プラスチック 7.4, 建設・鉱山用機械 5.0, 無機化合物 4.0, 有機化合物 3.0
イ	半導体等製造装置 8.4, 金 (非貨幣用) 7.6, 科学光学機器 5.5, 電気計測機器 3.8
ウ	自動車 15.9, プラスチック 4.7, 内燃機関 4.4, 自動車部品 4.3
エ	自動車部品 5.8, 半導体等製造装置 5.2, コンピュータ部品 5.1, プラスチック 4.7

(2020年)

(『日本国勢図会』2022/23年版)

問8 地図中のA～Dの県について、次の問いに答えなさい。

- (1) 右の資料5は、A～Dのいずれかの県で見られる様子です。資料5にあてはまる県を、A～Dから1つ選び、記号で答えなさい。
- (2) 次の資料6は、A～Dのいずれかの県の農業産出額とその割合を示したものです。資料6中の①にあてはまる県を、A～Dから1つ選び、記号で答えなさい。

資料5



資料6

	米	野菜	果実	畜産	その他
① 2556億円	18.5%	32.0	29.1	10.9	9.5
② 761億円	19.8%	28.0	9.1	37.6	5.5
③ 4302億円	18.8%	36.6	2.4	28.9	13.3
④ 1931億円	58.3%		14.6	4.4	18.7

(2019年)

(『データでみる県勢』2022年版)

第3問 日本の都市の歴史について述べた次のA～Fの各文章を読んで、あとの問いに答えなさい。

- A この都市の周辺には、白村江の戦いのあと、(①) から逃れてきた人々の指導によって、唐の侵攻に備えるため、a 水城や大野城などの防衛施設がつくられた。
- B この都市は、かつて大輪田泊とよばれ、日宋貿易を進めるためb 平清盛によって港が整備された。この港は、のちのc 日明貿易においても海上交通の要地の1つとなった。
- C この都市は、(X) 人が伝えた鉄砲の生産により栄えた。この都市では、有力な商人らによる話し合いで自治が行われていたが、のちにd 織田信長がこの都市を支配下に置いた。
- D この都市は、庄内平野に位置し、江戸時代には米や魚、特産物などが、(②) 航路を通じてe 上方や、津軽海峡を通過して江戸などに運ばれた。
- E この都市の出島は、(Y) の商館が置かれ、外国との窓口として栄えた。イギリスのフェートン号がこの都市の港に侵入したことをきっかけに、幕府はf 異国船打払令を出した。
- F この都市には、g 1858年に結ばれた条約により開かれた港のうちの1つがあり、のちに貿易の中心地となった。また、この都市と新橋との間にh 日本で最初の鉄道が開通した。

問1 (①) には、白村江の戦いで日本が支援した国があてはまります。(①) にあてはまる国名を、次のア～エから1つ選び、記号で答えなさい。

- ア 高句麗 イ 新羅 ウ 百済 エ 高麗

問2 右の資料は、下線部 a に兵士として送られた人がよんだ歌です。このような兵士は何とよばれましたか。

から衣 裾に取りつき 泣く子らを
置きてそ来ぬや 母なしにして

問3 下線部 b の人物について述べた文として正しいものを、次のア～エから1つ選び、記号で答えなさい。

- ア 役人の心構えを示すために、仏教や儒教の考え方を取り入れ、十七条の憲法を定めた。
- イ 中国に使者を送り、「親魏倭王」の称号や金印などをおくられた。
- ウ 中国がおとろえてきたことなどを理由に、遣唐使の停止を提案した。
- エ 武士として初めて太政大臣となり、政治の実権をにぎった。

問4 下線部 c が行われていたころの世界の様子として正しいものを、次のア～エから1つ選び、記号で答えなさい。

- ア 倭寇とよばれる人々が、大陸の沿岸で海賊行為を行った。
- イ モンゴル帝国が、国号を元に変え、アジア諸国に侵攻した。
- ウ イエズス会の宣教師が、キリスト教を布教するために、アジアなどへ渡った。
- エ 東南アジア各地に日本町がつくられ、貿易の拠点となった。

問5 下線部 d の人物について述べた右の P・Q の文の正誤の組み合わせとして正しいものを、次のア～エから 1 つ選び、記号で答えなさい。

P ^{ねんぐ}年貢を確実に集めるために、^{たいこうけんち}太閤検地を行った。
 Q 商業を活発にするために、^{らくいち}楽市・^{らくざ}楽座を行った。

ア P-正 Q-正 イ P-正 Q-誤 ウ P-誤 Q-正 エ P-誤 Q-誤


問6 (②) にあてはまる語句を答えなさい。

問7 江戸時代に、下線部 e を中心に栄えた文化の作品として正しいものを、次のア～エから 1 つ選び、記号で答えなさい。

ア




イ



ウ



エ



問8 下線部 f について、のちに異国船打払令を廃止するなどの改革を行った人物名を答えなさい。

問9 下線部 g は日本にとって不平等な内容のものでした。どのような点が不平等だったか、2つ説明しなさい。

問10 次のア～エは、下線部 h の前後に起こったできごとです。これらを起こった年代の古い順に並べかえ、記号で答えなさい。

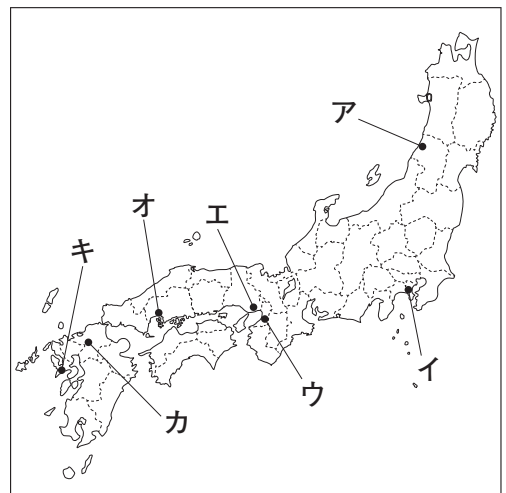
ア ^{ちやうへいれい}徴兵令が出される。 イ ^{はいはんちけん}廃藩置県が行われる。
 ウ 西南戦争が起こる。 エ ^{ごかじょうごせいもん}五箇条の御誓文が出される。

問11 C・E の文章中の (X)・(Y) にあてはまる国名の組み合わせとして正しいものを、次のア～エから 1 つ選び、記号で答えなさい。

ア X-ポルトガル Y-イギリス イ X-ポルトガル Y-オランダ
 ウ X-スペイン Y-イギリス エ X-スペイン Y-オランダ

問12 A～F の文章が説明する各「都市」の位置として、**地図**

まちがっているものを、右の地図中のア～キから 1 つ選び、記号で答えなさい。



第4問 次の年表を見て、あとの問いに答えなさい。


年	できごと
1871	a <u>岩倉使節団</u> が出発する
1874	b <u>自由民権運動</u> が始まる
1894	c <u>日清戦争</u> が始まる
1918	d <u>米騒動</u> が起こる
	↑ A ↓
1929	世界恐慌が起こる
1936	e <u>二・二六事件</u> が起こる
1941	f <u>太平洋戦争</u> が起こる
1950	冷戦の影響を受けて <input type="text" value="g"/> 戦争が始まる
	↑ B ↓
1973	オイルショックが起こる
1991	h <u>ソ連</u> が解体する

問1 年表中の下線部 a について、次の問いに答えなさい。

- (1) 岩倉使節団に参加した伊藤博文は、のちに大日本帝国憲法の草案を作成しました。この人物が憲法の草案を作成するにあたり、参考にしたのはどの国の憲法ですか、次のア～エから1つ選び、記号で答えなさい。

ア イギリス イ フランス ウ ドイツ エ ロシア

- (2) 岩倉使節団が出発した年に政府は、群馬県に外国の技術を導入して右の資料の工場の建設を始めました。この工場を何といいますか。

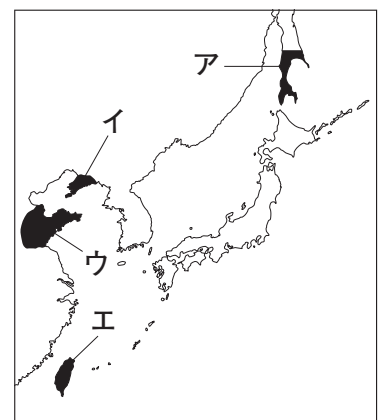


問2 年表中の下線部 b について、政府に民撰議院設立の建白書を提出し、のちに自由党を結成した人物名を答えなさい。

問3 年表中の下線部 c について、次の問いに答えなさい。

- (1) 日清戦争の講和条約で日本が清から得た領土のうち、三国干渉によって清に返還した場所を、右の地図中のア～エから1つ選び、記号で答えなさい。
- (2) 次の文は、下線部 c と同年のできごとについて説明したものです。文中の () にあてはまる人物名を答えなさい。

地図



伝染病の予防や細菌学の研究を行っていた () は、1894年、香港で流行していたペストの原因を調べるために現地へ行き、ペスト菌を発見した。

問4 年表中の下線部 d について、米騒動が起こった原因を、「出兵」の語句を用いて説明しなさい。

問5 年表中の A の時期の日本社会の様子として、まちがっているものを、次のア～エから1つ選び、記号で答えなさい。

- ア ラジオ放送が始まり、スポーツや映画などの^{ごらく}娯楽が人々の間に広まった。
- イ 女性の社会進出が進み、タイピストやバスの^{しゃしやう}車掌などの職業につく女性が増えた。
- ウ 都心部から郊外に鉄道が整備され、その沿線には西洋風の住宅が建てられた。
- エ テレビなどの家庭用電化製品が急速に広まり、自動車を持つ人の数も増えた。

問6 年表中の下線部 e の事件について述べた文として正しいものを、次のア～エから1つ選び、記号で答えなさい。

- ア この事件以降、発言力を強めた軍部が政治に^{かいにやう}介入するようになった。
- イ この事件が国際的な非難をあげたため、日本は^{こくさいれんめい}国際連盟を^{だつたい}脱退した。
- ウ この事件をきっかけに、社会主義運動を取りしめる^{ちあんいじほう}治安維持法が成立した。
- エ この事件では、首相の^{いぬかいつし}犬養毅など軍部に反対する政府の要人が^{しやうげき}襲撃された。

問7 年表中の下線部 f について、戦争中には、それまで^{ちやうへい}徴兵されていなかった大学生も、兵士として戦場で戦うようになりました。このできごとを何というか、漢字4字で答えなさい。

問8 年表中の にあてはまる語句を答えなさい。

問9 年表中の B の時期に起こったできごととしてまちがっているものを、次のア～エから1つ選び、記号で答えなさい。

- ア 公害問題に対応するために、公害対策基本法が制定される。
- イ ^{にちやうへい わ ゆうこう}日中平和友好条約が結ばれ、中国との関係を深める。
- ウ ^{にちべいあんぜん ほしょう}日米安全保障条約が結ばれ、アメリカ軍の軍事基地の設置が認められる。
- エ 日ソ共同宣言が出され、ソ連との国交が回復される。

問10 年表中の下線部 h について、このときソ連は15の国に分かれました。このうちの1つである、2022年に首都名の表記がキーウとなった国の国名を答えなさい。

第5問 次の文章は日本国憲法の条文の一部です。日本国憲法や日本の政治のしくみについて、あとの問いに答えなさい。

第4条① 天皇は、この憲法の定める a 国事に関する行為のみを行ひ、国政に関する権能を有しない。

第9条① 日本国民は、正義と秩序を基調とする (Ⓐ) を誠実に希求し、国権の発動たる戦争と、(Ⓔ) による威嚇又は (Ⓘ) の行使は、(Ⓢ) を解決する手段としては、永久にこれを放棄する。

第11条 国民は、すべての b 基本的人権の享有を妨げられない。この憲法が国民に保障する基本的人権は、侵すことのできない永久の権利として、現在及び将来の国民に与えられる。

第13条 すべて国民は、個人として尊重される。生命、自由及び c 幸福追求に対する国民の権利については、(d) に反しない限り、立法その他の国政の上で、最大の尊重を必要とする。

第41条 e 国会は、国権の最高機関であつて、国の唯一の立法機関である。

第65条 行政権は、f 内閣に属する。

第76条① g すべて司法権は、最高裁判所及び法律の定めるところにより設置する下級裁判所に属する。

第92条 h 地方公共団体の組織及び運営に関する事項は、地方自治の本旨に基いて、法律でこれを定める。

問1 文章中の下線部 a の内容としてまちがっているものを、次のア～エから1つ選び、記号で答えなさい。

ア 憲法改正の発議 イ 法律の公布 ウ 国会の召集 エ 内閣総理大臣の任命

問2 文章中の (Ⓐ) ～ (Ⓢ) にあてはまる語句の組み合わせとして正しいものを、次のア～エから1つ選び、記号で答えなさい。

ア Ⓐ－国際紛争 Ⓔ－武力 Ⓢ－国際平和

イ Ⓐ－国際紛争 Ⓘ－戦力 Ⓢ－国際平和

ウ Ⓐ－国際平和 Ⓘ－武力 Ⓢ－国際紛争

エ Ⓐ－国際平和 Ⓔ－戦力 Ⓢ－国際紛争

問3 文章中の下線部 b の1つに自由権があります。自由権のうち、経済活動の自由にあてはまるものを、次のア～エから1つ選び、記号で答えなさい。

ア 思想、良心の自由 イ 居住、移転、職業選択の自由

ウ 集会、結社、表現の自由 エ 学問の自由

問4 文章中の下線部 c にもとづいて、近年、憲法に規定されていない新しい権利が主張されるようになりました。新しい権利のうち、個人情報や私生活の様子などの情報を、みだりに公表されない権利を何といいますか。

問5 文章中の (d) にあてはまる、「社会全体の利益」を意味する語句を答えなさい。

問6 文章中の下線部 e について、次の問いに答えなさい。

- (1) 毎年1回1月に召集され、150日間の会期で開かれる国会を何といいますか。
- (2) 次の資料1は、2021年に行われた衆議院議員総選挙の、小選挙区の議員一人あたりの有権者数が最も多い3区と最も少ない3区について、鳥取1区と比べた有権者数の格差をまとめたものです。資料1を見て、衆議院議員総選挙における問題点を説明しなさい。

資料1

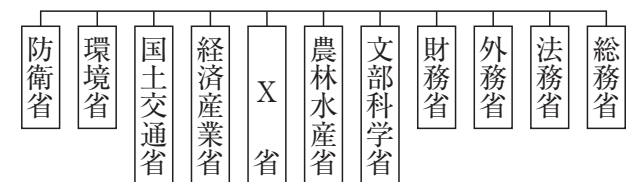
選挙区	有権者数(人)	格差(倍)	選挙区	有権者数(人)	格差(倍)
東京13区	482445	2.086	鳥取1区	231313	1.000
東京10区	482214	2.085	鳥取2区	234822	1.015
東京9区	480926	2.079	長崎3区	237188	1.025

(2021年第49回衆議院議員総選挙小選挙区)

(総務省資料)

問7 文章中の下線部 f について、次の問いに答えなさい。

- (1) 右の資料2は、内閣のしくみを示したもので、資料2中のXにあてはまる、医療や年金などの社会保障制度や労働問題などをあつかう省の名前を答えなさい。



- (2) 内閣が行う仕事として正しいものを、次のア～エから1つ選び、記号で答えなさい。

- ア 条約を承認する。 イ 法律を制定する。
ウ 法律の違憲審査を行う。 エ 予算を作成・提出する。

問8 文章中の下線部 g について、次の問いに答えなさい。

- (1) くじで選ばれた国民が裁判官とともに刑事裁判に参加して、有罪か無罪かなどをきめる制度を何といいますか。
- (2) 最高裁判所の裁判官は、任命後、最初に行われる衆議院議員総選挙（その後は10年をすぎて最初に行われる衆議院議員総選挙ごと）の際に[]を受けなければならないと、日本国憲法で定められています。[]にあてはまる語句を、漢字4字で答えなさい。

問9 文章中の下線部 h について、地方公共団体の1つである市で、市長選挙に立候補できるのは何歳以上の人ですか。あてはまるものを、次のア～エから1つ選び、記号で答えなさい。

- ア 18歳以上 イ 20歳以上 ウ 25歳以上 エ 30歳以上