

2024年度

入学試験

社会問題

(全 14 ページ)

注意事項

1. 受験番号、氏名および解答はすべて別紙の解答用紙に記入しなさい。
2. 問題用紙に解答を書きこんでも採点されません。

第1問 次の会話文を読み、地図や表、グラフを見て、以下の問いに答えなさい。

アルファ君 2023年は、関東大震災から100年の節目の年だったんだね。9月1日が「防災の日」となっているのは、関東大震災が発生した日だからなんだね。

ベータさん 阪神・淡路大震災や東日本大震災などの経験を通して、わたしたちの防災に対する意識は大きく高まってきたけれど、過去の自然災害の教訓をどのように継承していくかが大切だね。

ガンマさん 世界に目を向けると、2023年の2月に、トルコの南東部で大きな地震があったよね。トルコやシリアで5万人以上の死者が出たと見られていて、とくにシリアは内戦や経済制裁の影響などもあって被災者への支援が十分に届いていないみたいだよ。

アルファ君 世界の大きな地震の震源地には偏りがあるんだよ。一つは環太平洋造山帯で、日本列島が含まれるほか、遠く離れたチリやコロンビアなどもこれに含まれるよ。もう一つはアルプス・ヒマラヤ造山帯で、トルコとか、あとは2005年に大規模な津波をともなう地震が起こったインドネシアのスマトラ島などが含まれるね。

ベータさん 地震だけではなくて、最近は豪雨による災害も多発しているように感じるよ。「ゲリラ豪雨」とか「線状降水帯」とかの言葉を、最近よく聞くようになったね。こうした局地的で突発的な大雨は正確な予測が困難だから、十分な備えをすることが難しいよ。

ガンマさん 短い時間に大量の雨が降ると、洪水だけでなくがけ崩れや土石流なども発生するよ。山間部だと、こうした自然災害によって集落が孤立してしまうこともあるから大変だよな。

アルファ君 夏の猛暑も大変だね。最高気温の記録は、山形県山形市で1933年に40.8℃を記録して以降、70年以上1位となっていたけれど、最近になって記録が次々と更新されているね。2023年現在では、2018年の埼玉県熊谷市と2020年の静岡県浜松市で観測された41.1℃が最高記録になっているよ。

ベータさん 気温については、大都市の中心部の気温が周辺よりも高くなるヒートアイランド現象も見られるね。これは、大都市は人口が多く経済活動がさかんなため熱が多く排出されるのに対して、() ことが発生の原因の一つだと言われているよ。

ガンマさん そうだね。こうした環境の変化は、日本だけでなく世界各地で起きているよ。また、自然現象だけではなく、人間の活動が大きく影響している側面も見逃せないね。例えば、東日本大震災のときに発生した福島第一原子力発電所の事故は、津波の想定が甘かったことで電源を喪失したことが原因となったね。それから、2021年に静岡県熱海市の伊豆山地区で発生した大規模な土石流は、上流の山間部で盛土が違法に行われていたことが、被害を大きくする原因となったね。

アルファ君 わたしたちの生活を豊かにすることと、自然環境に配慮して未来の世代につなげていくことの両立を、しっかり考えていかないといけないね。

問1 下線部①について述べた次の文中の（ ）に共通してあてはまる語句を書きなさい。

東日本大震災を引き起こした東北地方太平洋沖地震は、東北地方の沖合にある日本（ ）付近を震源として発生した。日本（ ）は東北地方の太平洋の沖合にある深さ 8,000 m をこえる海底地形で、多くの地震の震源となっている。

問2 下線部②について、右の地図中のXにあてはまる、地図

トルコが面している海の名称を何というか、書きなさい。



問3 下線部③について、日本列島は、フォッサマグナを境に大きく東西に二分されます。このとき、東側に位置する山脈や山地として正しいものを、次のア～エから1つ選び、記号で答えなさい。

ア. 白神山地 イ. 紀伊山地 ウ. 赤石山脈 エ. 飛騨山脈

問4 下線部④について、次の資料1のア～エは、チリ、ブラジル、アルゼンチン、メキシコの輸出額上位3品目の輸出総額に対する割合を示しています。チリにあてはまるものを、資料1中のア～エから1つ選び、記号で答えなさい。

資料1

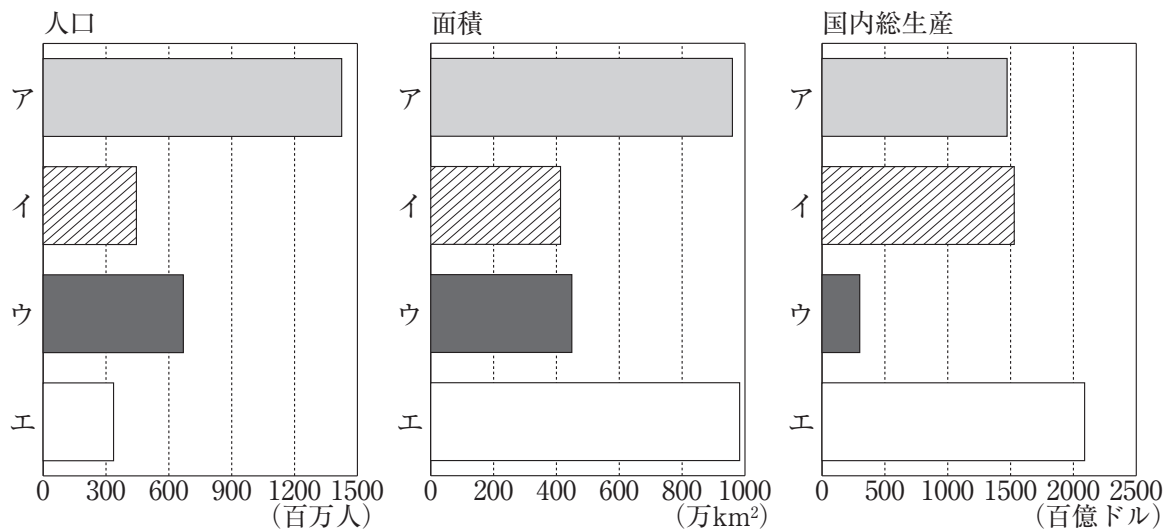
順位	ア		イ		ウ		エ	
第1位	機械類	36.1	大豆	13.7	植物性油かす	13.8	銅鉱	29.3
第2位	自動車	23.9	鉄鉱石	12.3	とうもろこし	11.0	銅	22.6
第3位	野菜・果実	4.1	原油	9.4	大豆油	6.8	野菜・果実	9.8

(%)

出典：「世界国勢図会 2022/23年版」

問5 下線部⑤について、インドネシアはASEAN（東南アジア諸国連合）に加盟しています。次の資料2のア～エは、ASEAN、EU、アメリカ合衆国、中国のいずれかがあてはまります。ASEANにあてはまるものを、資料2中のア～エから1つ選び、記号で答えなさい。

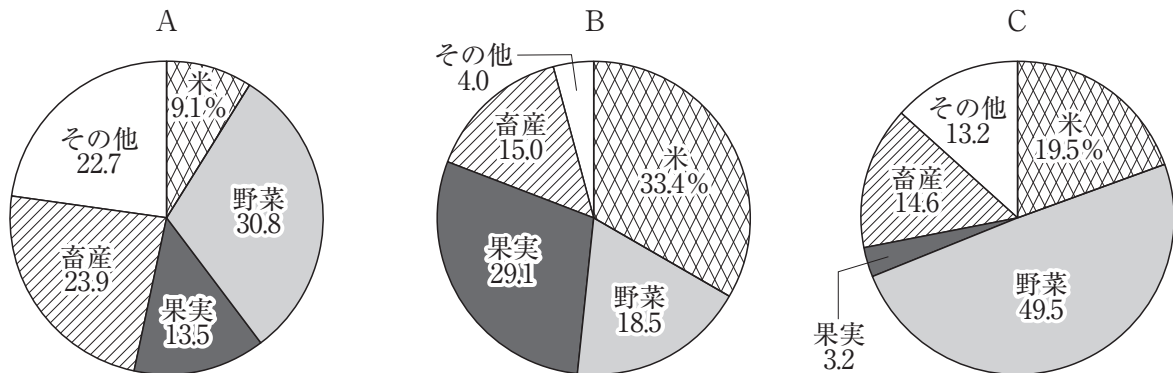
資料2



出典：「世界国勢図会 2022/23年版」

問6 下線部⑥～⑧について、次の資料3のA～Cは、山形県、埼玉県、静岡県のいずれかの農業産出額の内訳を示しています。A～Cにあてはまる県の組み合わせとして正しいものを、下のア～カから1つ選び、記号で答えなさい。

資料3



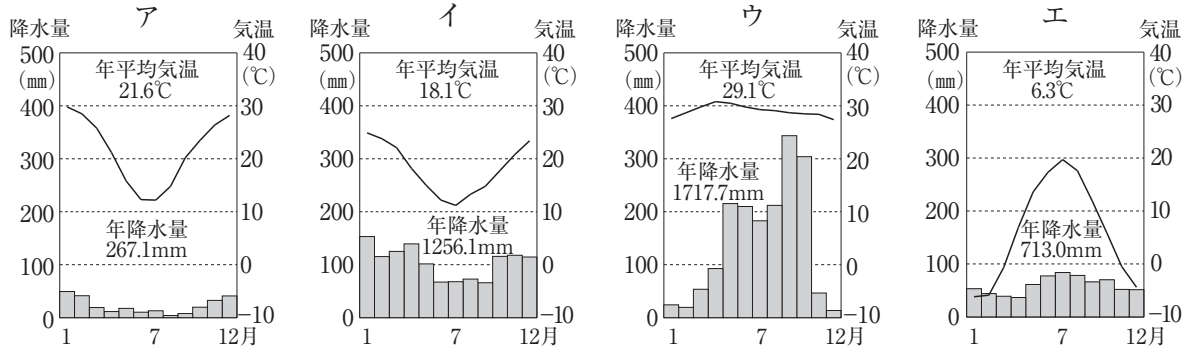
出典：「データでみる県勢 2023年版」

- ア. A - 埼玉県 B - 静岡県 C - 山形県 イ. A - 埼玉県 B - 山形県 C - 静岡県
 ウ. A - 静岡県 B - 埼玉県 C - 山形県 エ. A - 静岡県 B - 山形県 C - 埼玉県
 オ. A - 山形県 B - 静岡県 C - 埼玉県 カ. A - 山形県 B - 埼玉県 C - 静岡県

問7 (⑨) にあてはまる、ヒートアイランド現象が発生する原因を、「地面」「吸収」の語句を用いて、40字以内で述べなさい。

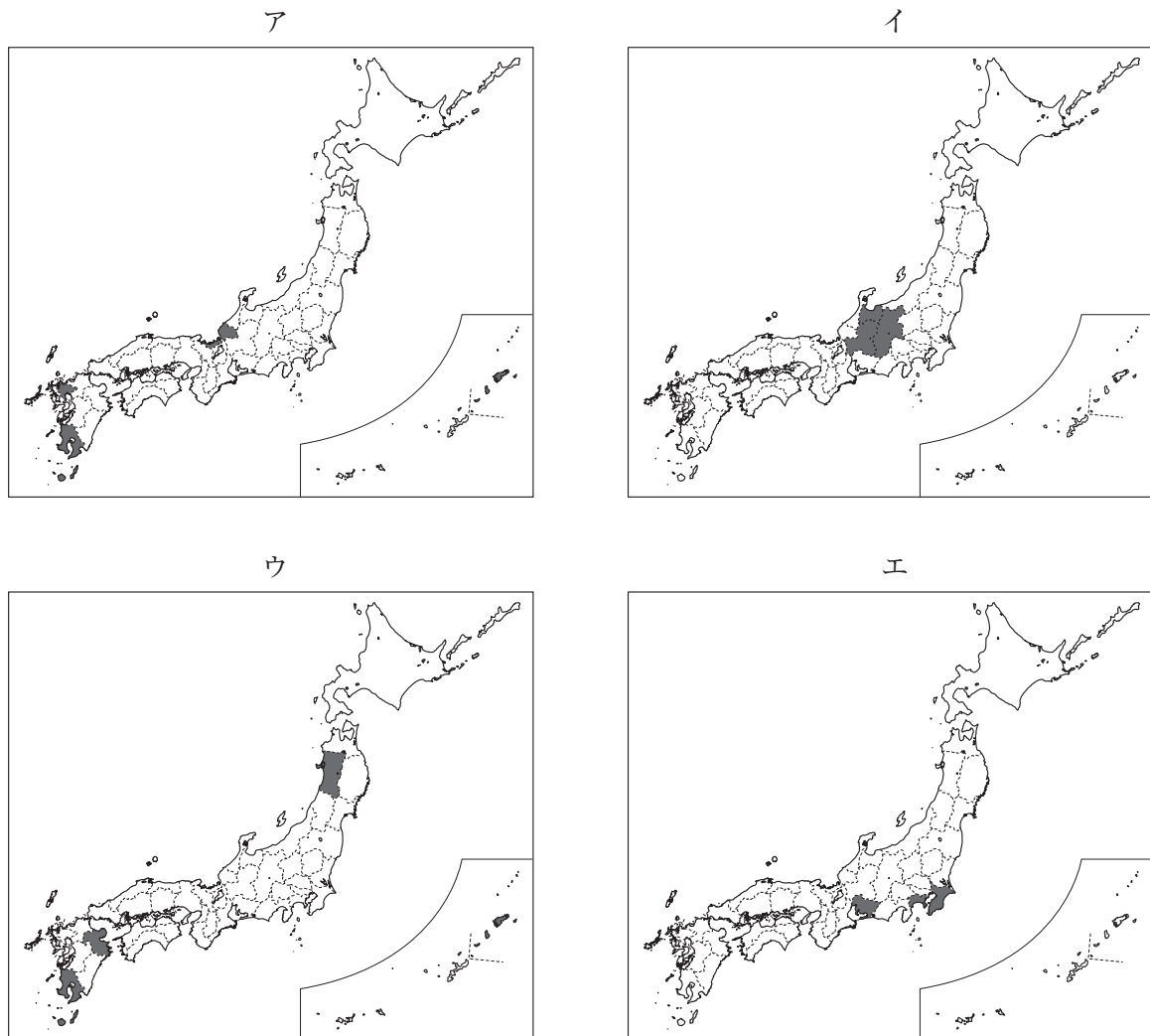
問8 下線部⑩について、次のグラフのア～エは、世界の4つの都市である、バンコク、アリスブリングス、ブエノスアイレス、モスクワのいずれかの雨温図を示しています。東京と同じ気候帯区分にあてはまるものを、グラフ中のア～エから1つ選び、記号で答えなさい。また、都市名も書きなさい。

グラフ



出典：「理科年表 2023 年版」

問9 下線部⑪について、次のア～エは、火力発電、水力発電、原子力発電、地熱発電のいずれかの発電量上位3県を示した日本地図です。原子力発電にあてはまるものを、ア～エから1つ選び、記号で答えなさい。



出典：「データでみる県勢 2023 年版」

第2問 次の〔A〕,〔B〕の文を読み、以下の問いに答えなさい。

〔A〕

日本国憲法が保障する基本的人権は、平等権、自由権、(①)、基本的人権を守るための権利に分類することができる。基本的人権のうち、(①)が認められるようになったのは20世紀で、自由権や平等権に比べると歴史はまだ浅い。

更に近年は、憲法で規定されていない新しい人権が主張されるようになってきている。
②

問1 (①)に共通してあてはまる、生存権、教育を受ける権利、勤労の権利などが含まれる人権を何というか、書きなさい。

問2 下線部②に含まれないものを、次のア～エから1つ選び、記号で答えなさい。

- ア. 生き方や生活のしかたについて自分で決める権利
- イ. 国や地方公共団体に情報公開を求める権利
- ウ. 生活する上で住みやすい環境を求める権利
- エ. 権利が侵害されたときに裁判を受ける権利

〔B〕

最高裁判所と下級裁判所からなる裁判所は司法権を担う。裁判官はその身分を保障されており、国会が開く弾劾裁判や、最高裁判所裁判官国民審査による国民の判断などを除いては、辞めさせられることはない。④
裁判は大きく、私人の間の争いごとを裁く民事裁判と、犯罪行為の有無について裁く刑事裁判に分けられる。刑事裁判では、検察官が証拠を挙げて被告人の犯罪行為を証明し、一方弁護人は被告人の権利を守る。被告人は、有罪判決が確定するまでは無罪と推定して扱われ、また1つの事案に対し3回まで裁判が受けられるなど、人権に慎重に配慮して行われる。⑥

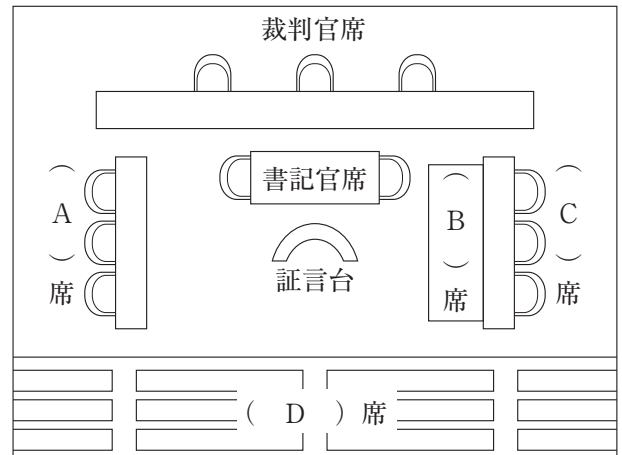
問3 下線部③について、最高裁判所は「憲法の番人」とよばれています。その理由を、40字以内で述べなさい。

問4 下線部④が行われるのはどのようなときか、あてはまるものを、次のア～エから1つ選び、記号で答えなさい。

- ア. 参議院議員通常選挙の際に合わせて行われる。
- イ. 衆議院議員総選挙の際に合わせて行われる。
- ウ. 重大な事件の刑事裁判の判決が確定した際に行われる。
- エ. 再審によりえん罪が確定した際に行われる。

問5 下線部⑤について、右の資料は、刑事裁判の法廷を示しています。資料中の（ A ）～（ D ）にあてはまる語句の組み合わせとして正しいものを、次のア～エから1つ選び、記号で答えなさい。

資料



- ア. A - 検察官 B - 傍聴人
 C - 弁護士 D - 被告人
- イ. A - 検察官 B - 被告人
 C - 弁護士 D - 傍聴人
- ウ. A - 弁護士 B - 傍聴人
 C - 検察官 D - 被告人
- エ. A - 弁護士 B - 被告人
 C - 検察官 D - 傍聴人

問6 下線部⑥は、身体的自由（生命・身体的自由）と深く関連しています。身体的自由について保障した日本国憲法の条文としてあてはまらないものを、次のア～エから1つ選び、記号で答えなさい。

- ア. 何人も、いかなる奴隷的拘束も受けない。又、犯罪に因る処罰の場合を除いては、その意に反する苦役に服させられない。
- イ. 何人も、現行犯として逮捕される場合を除いては、権限を有する司法官憲が発し、且つ理由となつてゐる犯罪を明示する令状によらなければ、逮捕されない。
- ウ. 強制、拷問若しくは脅迫による自白又は不当に長く抑留若しくは拘禁された後の自白は、これを証拠とすることができない。
- エ. 何人も、抑留又は拘禁された後、無罪の裁判を受けたときは、法律の定めるところにより、国にその補償を求めることができる。

第3問 次の年表を見て、以下の問いに答えなさい。

年	おもなできごと
538(552)	百済から公式に仏教が日本に伝わる……………
	↑ ア
701	唐の律令にならって、大宝律令が制定される…………… A
	↑ イ
806	唐に渡って仏教を学んだ空海が帰国する……………
	↑ ウ
894	菅原道真の提言により、遣唐使を停止する……………
	↑ エ
1180	平清盛が貿易のため、大輪田泊を修築する……………
	↑ オ
1274・1281	元軍が九州北部へ2度にわたり攻めてくる……………
	↑ カ
1404	足利義満が明との間で勘合貿易を始める……………
	↑ キ
1549	ザビエルが来日し、キリスト教を伝える…………… B
	↑ ク
1641	平戸のオランダ商館が長崎の出島に移される…………… C
	↑ ケ
1825	異国船打払令が出される……………
	↑ コ
1853	ペリーが浦賀に来航する…………… D

問1 次の1～4のできごとは、上の年表のア～コのどの時期に起こりましたか。それぞれあてはまる時期を、年表中のア～コから1つずつ選び、記号で答えなさい。

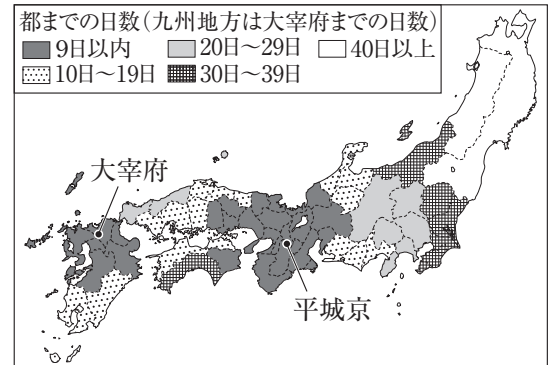
- 1 後醍醐天皇の政治が失敗に終わり、朝廷が南朝と北朝に分かれた。
- 2 「この世をばわが世とぞ思う 望月の欠けたることも無しと思えば」という歌がよまれた。
- 3 武家諸法度により、参勤交代が制度として定められた。
- 4 開墾した田を、永久に私有してもよいという天皇の命令が出された。

問2 年表中のAについて、次の資料1は律令制における農民のおもな負担を、資料2は各国から都までの移動日数を示しています。律令制における農民の負担は、関東地方や東北地方に暮らす男子にとってとくに重いものであったと考えられます。そのように考えられる理由を、資料1、資料2を参考にしながら、50字以内で述べなさい。

資料1

名称	対象	負担の内容
租	戸籍に登録された6歳以上の男女	口分田で収穫した稲の約3%を納める
調	成人男子	各地の特産物などを都に納める
庸	成人男子	都での労役の代わりに布を都に納める
雑徭	成人男子	国司のもとで60日以内の労役につく

資料2



問3 年表中のBのできごとについて述べた次の文中の(①), (②)にあてはまる語句の組み合わせとして正しいものを、下のア～エから1つ選び、記号で答えなさい。

15世紀末から16世紀にかけて、スペインやポルトガルによる航路の開拓が進み、(①)がアフリカ南端を回ってインドに到達する航路を開いた。同じころ、ヨーロッパで起こった宗教改革に対し、(②)の内部で改革を進める組織としてイエズス会が結成され、開拓された航路を活用して海外での布教を進める中で、ザビエルが日本を訪れた。

- ア. ①-コロンブス ②-プロテスタント
- イ. ①-コロンブス ②-カトリック
- ウ. ①-バスコ・ダ・ガマ ②-プロテスタント
- エ. ①-バスコ・ダ・ガマ ②-カトリック

問4 年表中のCとDの間に行われた政治改革の内容である次のア～ウを、行われた順に並べ、記号で答えなさい。

- ア. 株仲間の結成を奨励した。
- イ. 凶作に備えて農村に倉を設け、米を蓄えさせた。
- ウ. 公事方御定書を制定した。

第4問 次の〔A〕, 〔B〕の文を読み, 以下の問いに答えなさい。

〔A〕

明治時代になると, 殖産興業政策のもとで近代産業が育成され, 産業革命が進んだ。とくに製糸業や紡績業は産業の中心となり, 1890年代に綿糸の生産量が輸入量をこえるまでに^②なった。大正時代になると, 第一次世界大戦で戦場となったヨーロッパに代わって日本やアメリカの輸出が^③大きくなり^④のび, 日本では造船業や製鉄業などが著しく発達した。

問1 下線部①について述べた次の文中の (X), (Y) にあてはまる語句の組み合わせとして正しいものを, 下のア～エから1つ選び, 記号で答えなさい。

産業革命は18世紀後半に (X) で始まり, 蒸気機関の改良などによって工業の機械化が著しく進んだ。また, 資本主義の仕組みが確立したが, 資本家が裕福な生活を送る一方, 労働者の劣悪な労働環境や生活環境が社会問題となる中で, (Y) らによって社会主義の考え方が生まれた。

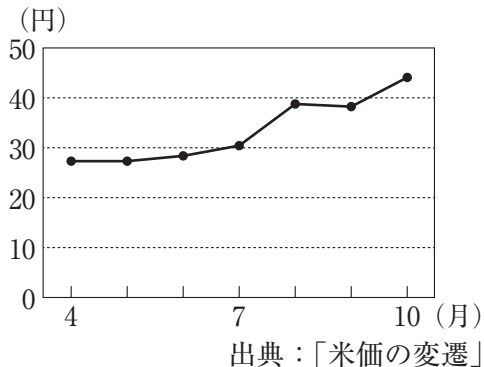
- ア. X - イギリス Y - レーニン イ. X - イギリス Y - マルクス
ウ. X - フランス Y - レーニン エ. X - フランス Y - マルクス

問2 下線部②の時期に起こった次のア～エのできごとを時期が古い順に並べ, 記号で答えなさい。

- ア. 第1回帝国議会が開かれた。 イ. 三国干渉が起こった。
ウ. 清で義和団の勢力が蜂起した。 エ. 甲午農民戦争が起こった。

問3 下線部③について、次の資料1はこの時代である1918年の4～10月の米価の変動を、資料2は資料1と同じ年に起きたあるできごとのようすを示しています。資料1、資料2が示す米価の変動理由の説明として正しいものを、下のア～エから1つ選び、記号で答えなさい。

資料1



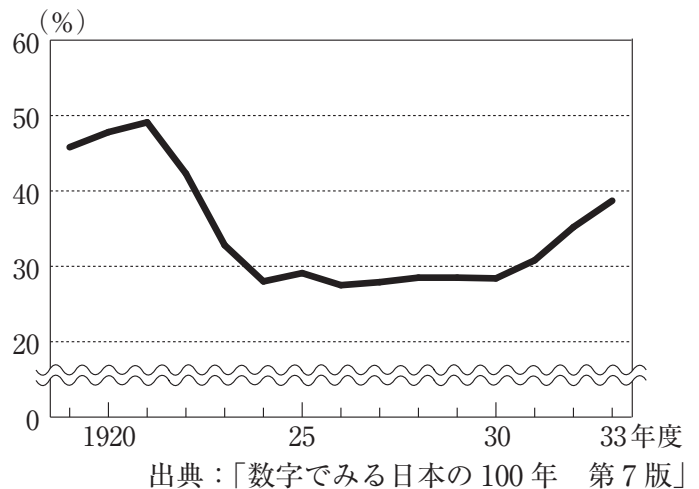
資料2



- ア. ロシア革命に干渉するための出兵を見こして米価が値上がりした。
- イ. 関東大震災の影響を受けて不作となり、米価が値上がりした。
- ウ. 日露戦争の出兵を見こして米価が値上がりした。
- エ. 世界恐慌の影響を受けて貨幣価値が低下し、米価が値上がりした。

問4 下線部④について、右の資料3は、第一次世界大戦後の日本の歳出総額に占める軍事費の割合を示しています。第一次世界大戦後の1920年代に軍事費の割合が比較的低く抑えられていた理由と関連が深いできごとを、次のア～エから1つ選び、記号で答えなさい。

資料3



- ア. ワシントン会議の開催
- イ. アジア・アフリカ会議の開催
- ウ. 日英同盟の締結
- エ. 日独伊三国同盟の締結

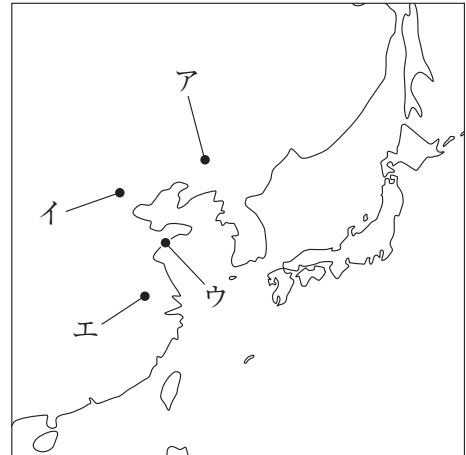
[B]

1931年の満州事変のころから日本では軍部の発言力が強くなり、日中戦争、太平洋戦争へと突き進んでいった。しかし、⑤連合軍の前にしだいに戦況は不利になり、1945年にポツダム宣言を受諾して降伏した。日本はGHQによる占領政策のもとで復興を進め、⑥1951年にサンフランシスコ平和条約を結んで独立を回復すると、⑦1955年ごろからは高度経済成長が続いて、経済大国となった。

問5 下線部⑤について述べた次の文中の（ P ）にあては

まる場所を、右の地図中のア～エから1つ選び、記号で答えなさい。また、（ Q ）にあてはまるできごとの名称を、下のア～エから1つ選び、記号で答えなさい。

地図



日本軍（関東軍）が地図中の（ P ）の場所で鉄道を爆破し、これを中国のしわざとして満州事変を起こし、満州国を建国した。この動きについては国内外で批判が起こったが、満州国の承認に消極的な態度をとった犬養毅首相が（ Q ）で暗殺され、軍部の発言力が強まっていった。

- ア. 大逆事件 イ. 柳条湖事件 ウ. 五・一五事件 エ. 二・二六事件

問6 下線部⑥について、次の資料4はポツダム会談に出席した首脳、資料5はポツダム宣言の一部を示しています。ポツダム会談に参加したソ連の名がポツダム宣言の中になく、代わりに中華民国が入っている理由を、第二次世界大戦中のソ連と日本が結んだ条約名を用いて、40字以内で述べなさい。

資料4

国	参加した首脳
アメリカ	トルーマン
イギリス	チャーチル
ソ連	スターリン

資料5

一 われら合衆国大統領、中華民国政府主席およびグレート・ブリテン国総理大臣は、われらの数億の国民を代表し協議の上、日本国に対し今次の戦争を終結するの機会を与ふことに意見一致せり。

問7 下線部⑦の時期について、右の写真は、1972年5月のある地域のような様子を示したものです。写真のように人々が銀行に並ぶきっかけとなったできごととして正しいものを、次のア～エから1つ選び、記号で答えなさい。

- ア. 沖縄が日本に返還された。
 イ. 日本で初めてオリンピックが開催された。
 ウ. アメリカとソ連が対立する冷戦が激化した。
 エ. 石油危機が起こった。



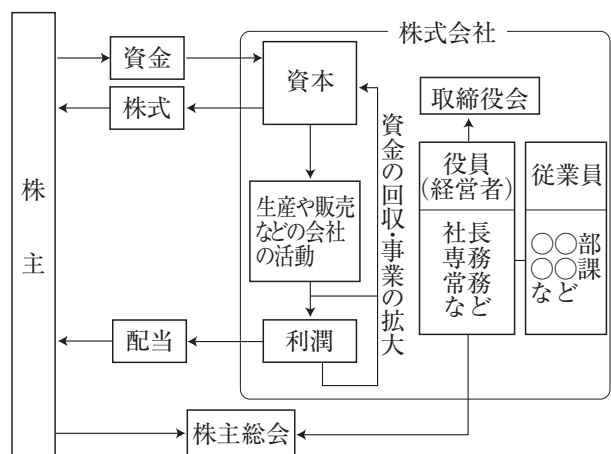
第5問の問題は、次のページから始まります。

第5問 次の資料1, 2を見て, 以下の問いに答えなさい。

資料1

さまざまな企業がある中, 株式会社は私企業の代表的なもので, 株主が①出資する資本金をもとにして経営される。株式会社の株主は, 株主総会に参加する権利をもつほか, ②配当を受け取ることができる。

近年では, 企業には環境保全や地域社会への貢献などが求められ, ③企業の社会的責任(CSR)を果たすことが期待されるようになっている。



問1 下線部①について, 海外へ工場を移転させる企業があります。これにより, 国内にどのような影響が出ると考えられるか, マイナス面を2つ, 40字以内で述べなさい。

問2 下線部②について述べた, 次のX, Yの文の正誤の組み合わせとして正しいものを, 下のア～エから1つ選び, 記号で答えなさい。

X 株主総会では, 株式会社の経営方針を決定するほか, 従業員の採用や解雇についての決定を行う。

Y 株主総会の議決権は, 株主1人1人に等しく1票が与えられ, 多数決の原理によって決定が行われる。

ア. X - 正しい Y - 正しい イ. X - 正しい Y - 誤り

ウ. X - 誤り Y - 正しい エ. X - 誤り Y - 誤り

問3 下線部③について, この活動の一環として行われる内容にあてはまるものを, 次のア～エから1つ選び, 記号で答えなさい。

ア. 労働者の雇用の自由化を進めるために, 非正規雇用の割合を高める。

イ. 生産者や販売者同士で, 商品の生産量や価格を決定する。

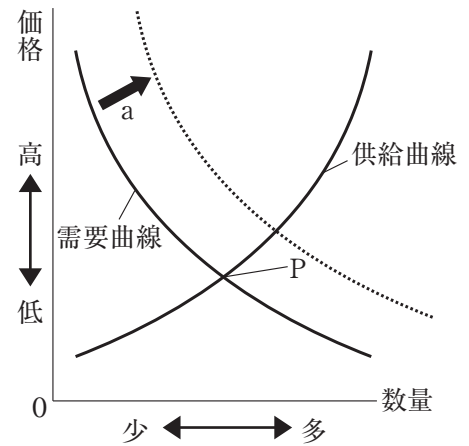
ウ. 商品の生産方法を工夫して, 環境への悪影響をなるべく少なくする。

エ. グローバル化に対応して, 外国での生産割合を増やす。

資料2

右のグラフは、商品の需要量、供給量の変化と価格の決定について示している。需要量と供給量のつり合いがとれるPのときの価格を均衡価格といい、資本主義経済下では自由競争のもとで日々価格が変化している。

少数の企業が市場を寡占するようになると、価格競争が弱まって消費者に不利益が生じるため、独占禁止法が定められ、(④) がその運用にあっている。



問4 資料2のグラフにおいて、需要曲線がaの方向に動く変化の具体例としてあてはまるものを、次のア～エから1つ選び、記号で答えなさい。

- ア. 天候不良によって漁に出られない日が続いたことで、市場に出荷される魚の量が減り、魚の価格が上昇した。
- イ. 新しい工場が稼働を始めて生産力が上がったことで、パソコンの品不足が解消され、パソコンの価格が下がった。
- ウ. テレビで健康に良いとして納豆が取り上げられたことで、納豆を買う人が多くなり、品不足から価格が上がった。
- エ. スマートフォンの新しい機種が発売されたことで、前の機種を求める人が減り、前の機種の価格が下がった。

問5 (④) にあてはまる機関を何というか、書きなさい。

