

2026年度

入学試験

# 社会問題

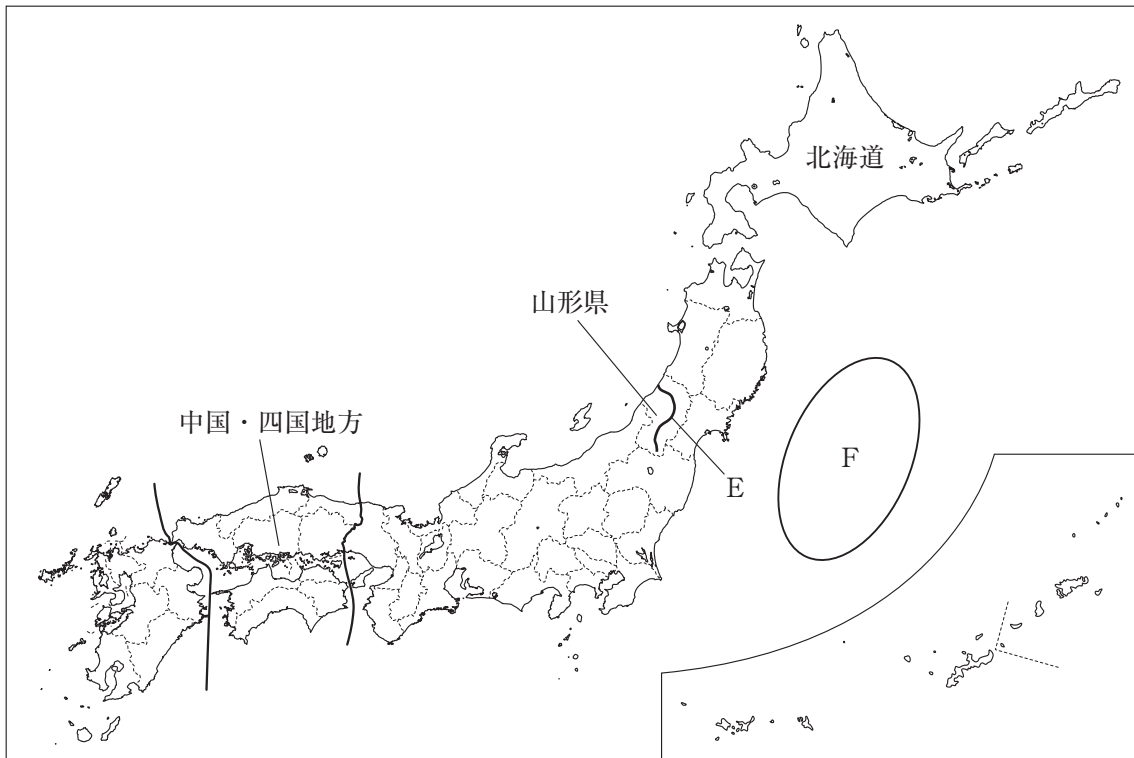
(全 13 ページ)

## 注意事項

1. 受験番号、氏名および解答はすべて別紙の解答用紙に記入しなさい。
2. 問題用紙に解答を書きこんでも採点されません。

第1問 次の地図1，地図2を見て，以下の問いに答えなさい。

地図1



地図2



問1 地図1中の中国・四国地方について、次の表1は、中国・四国地方各県の産業に関する統計を示しています。表1中のA～Dにあてはまる県の組み合わせとして適当なものを、下のア～エから1つ選び、記号で答えなさい。

表1

県名	農業産出額（億円）2022年			製造品出荷額等（億円）2022年		
	米	野菜	果実	繊維工業	石油・石炭製品	輸送用機械
A	266	230	278	2244	20497	9340
B	134	190	534	1977	7278	3979
C	229	271	165	1400	210	35257
D	97	674	118	152	24	266
鳥取県	121	209	66	132	25	147
島根県	167	126	44	353	35	887
山口県	183	163	49	269	13643	10042
徳島県	95	336	88	251	39	139
香川県	113	241	65	397	2157	2250

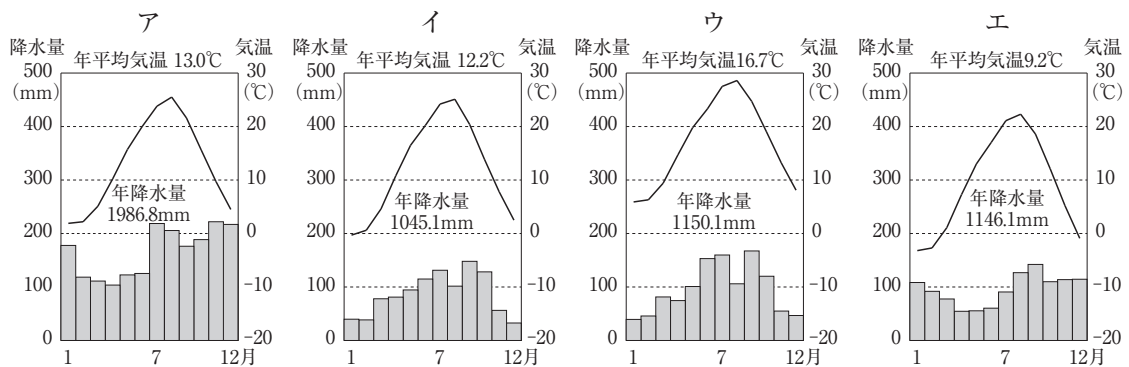
出典：「データでみる県勢 2025年版」

- ア. A - 広島県 B - 高知県 C - 岡山県 D - 愛媛県  
 イ. A - 広島県 B - 愛媛県 C - 岡山県 D - 高知県  
 ウ. A - 岡山県 B - 高知県 C - 広島県 D - 愛媛県  
 エ. A - 岡山県 B - 愛媛県 C - 広島県 D - 高知県

問2 地図1中の山形県について、次の問いに答えなさい。

- (1) 次のグラフ1のア～エは、酒田市（山形県）、札幌市（北海道）、松本市（長野県）、高松市（香川県）の月別平均気温と降水量を示しています。酒田市にあてはまるものを、グラフ1中のア～エから1つ選び、記号で答えなさい。

グラフ1



出典：「理科年表 2025年版」

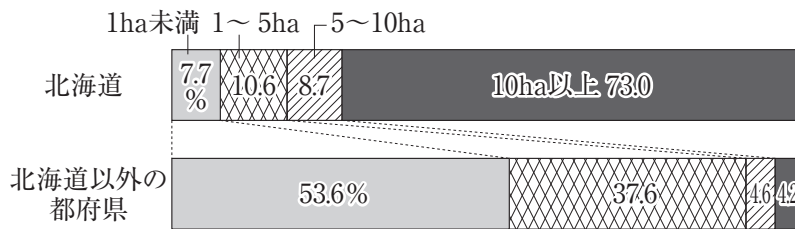
- (2) 山形県を流れる、地図1中のEの河川名を何というか、書きなさい。

問3 地図1中のFの地域について述べた次の文中の( )にあてはまる語句を書きなさい。

Fの地域は、寒流の親潮（千島海流）と暖流の黒潮（日本海流）がぶつかる( )が見られ、豊かな漁場となっています。また、海底には深さ8000mにも達する日本海溝が南北に連なっており、この周辺はしばしば大きな地震の震源となっています。

問4 次のグラフ2は、地図1中の北海道の農業について、農業経営体1つあたりの耕地面積を、北海道以外の都府県と比較したもの、表2は北海道・千葉県・宮崎県でデータを活用した農業を行っている団体の割合です。北海道と他の2県と比べたとき、北海道でデータの活用を含めたスマート農業が盛んになっている理由は何だと考えられますか。グラフ2から読み取れることをもとにして、30字以上40字以内で述べなさい。

グラフ2



注：四捨五入の端数は10ha以上に含め、100%になるように調整。

出典：「日本国勢図会 2025/26年版」

表2

道県	データを活用した農業を行っている割合
北海道	49.1%
千葉県	15.1%
宮崎県	19.2%

出典：農林水産省資料

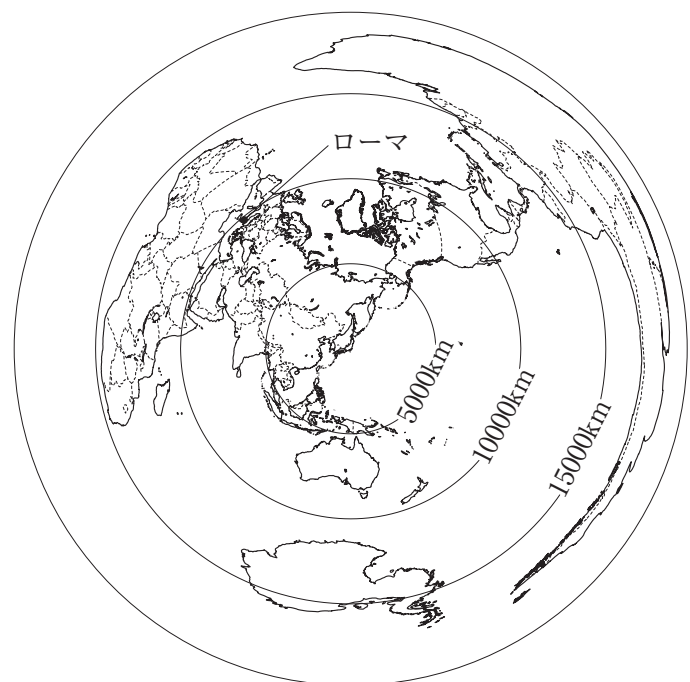
問5 地図2中のPの国について、次の問いに答えなさい。

- (1) 右の地図3を参考に、Pの国の首都であるローマと、東京とのおおよその直線距離を、次のア～エから1つ選び、記号で答えなさい。

- ア. 約7500km
- イ. 約9500km
- ウ. 約13000km
- エ. 約16000km

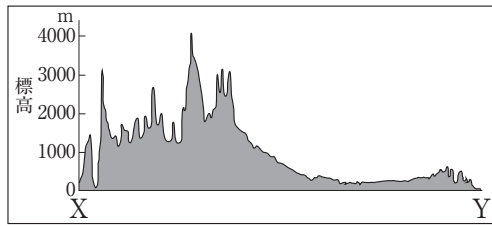
- (2) Pの国は、東経15度の経線を標準時子午線としています。Pの国の首都ローマの国際空港を、現地時刻の1月10日午後3時に出発した航空機が、11時間30分かけて日本の成田国際空港に到着しました。成田国際空港に到着したときの日本の日時は1月何日の何時30分か、午前・午後を明らかにして書きなさい。

地図3 中心（東京）からの距離と方位が正しい地図

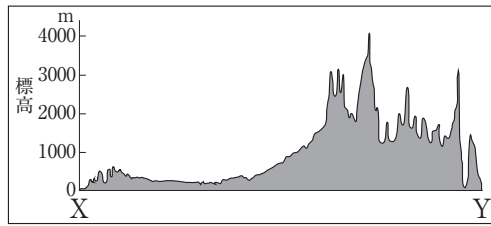


問6 地図2中のX-Yの断面図として適当なものを、次のア～エから1つ選び、記号で答えなさい。

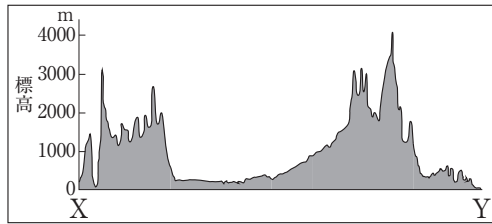
ア.



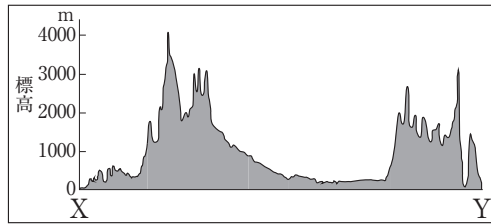
イ.



ウ.



エ.



問7 次の表3は、地図2中のエジプト、コートジボワール、ナイジェリア、南アフリカ共和国の2022年における面積、人口、65歳以上の人口割合、輸出総額、輸出額第1位の品目と輸出額を示しています。表3から読み取れることとして適当なものを、下のア～エから1つ選び、記号で答えなさい。

表3

国名	面積 (万 km <sup>2</sup> )	人口 (万人)	65歳以上の 人口割合 (%)	輸出総額 (億ドル)	輸出額第1位の 品目と輸出額 (億ドル)
エジプト	100	11099	4.8	521	液化天然ガス 99
コートジボワール	32	2816	2.4	164	カカオ豆 32
ナイジェリア	92	21854	3.0	634	原油 499
南アフリカ共和国	122	5989	5.9	1216	白金族の金属 167

出典：「世界国勢図会 2024/25年版」

ア. 表3中の4つの国のうち、人口密度が最も高い国は南アフリカ共和国で、人口密度が最も低い国はコートジボワールである。

イ. 表3中の4つの国のうち、65歳以上の人口が最も多い国はナイジェリアで、1000万人を超えている。

ウ. 南アフリカ共和国の人口1人あたりの輸出総額は、エジプトの人口1人あたりの輸出総額よりも多い。

エ. 表3中の4つの国のうち、輸出総額に占める第1位の品目の割合が最も高い国はコートジボワールである。

**第2問** 次の図1～図4を見て、以下の問いに答えなさい。

図1 国会と内閣の関係

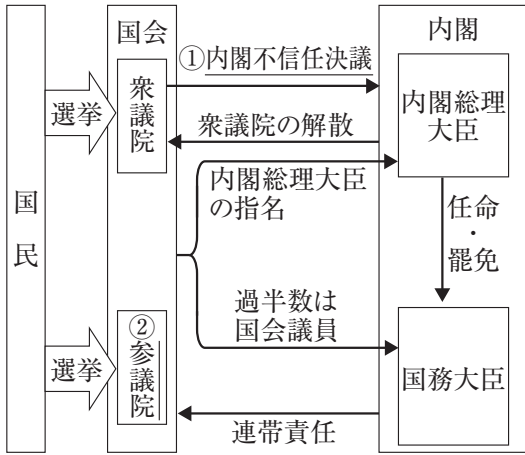


図2 三審制の仕組み

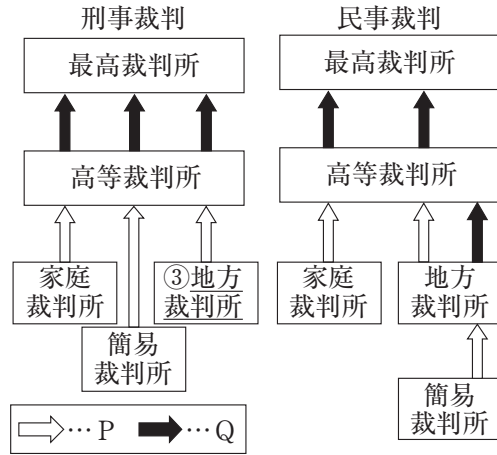
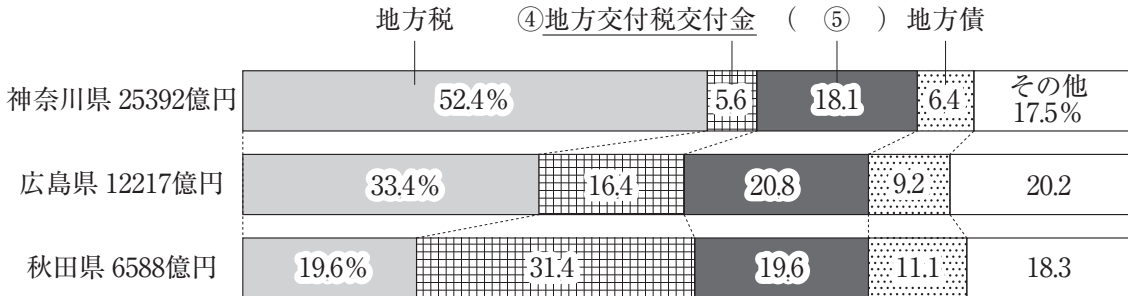


図3 神奈川県, 広島県, 秋田県の歳入の内訳 (2022年度)



出典：「データでみる県勢 2025年版」

問1 図1中の下線部①について、衆議院で内閣不信任の決議が行われた場合に、内閣はどのような対応をしなければならないか、「10日以内」の語句を用いて、15字以上 25字以内で述べなさい。

問2 図1中の傍線部②について述べた文として適当でないものを、次のア～エから1つ選び、記号で答えなさい。

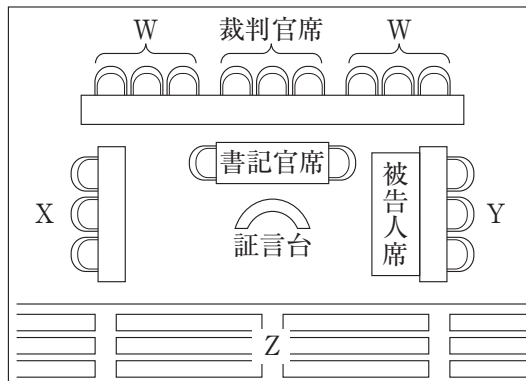
- ア. 参議院議員の定数は248名で、衆議院議員の定数よりも少ない。
- イ. 参議院議員の任期は6年で、衆議院議員の任期よりも長い。
- ウ. 参議院議員選挙に合わせて、最高裁判所裁判官の国民審査が行われる。
- エ. 参議院の緊急集会は、衆議院の解散中に緊急の必要が生じた場合に開かれる。

問3 図2中のP, Qにあてはまる語句の組み合わせとして適当なものを、次のア～エから1つ選び、記号で答えなさい。

- ア. P - 起訴    Q - 上告                    イ. P - 起訴    Q - 再審
- ウ. P - 控訴    Q - 再審                    エ. P - 控訴    Q - 上告

問4 図2中の下線部③について、次の図4は、地方裁判所で行われることがある裁判員裁判の法廷を示しています。図4中のW～Zの座席に座る人の組み合わせとして適当なものを、下のア～エから1つ選び、記号で答えなさい。

図4



- ア. W - 検察官 X - 裁判員 Y - 傍聴人 Z - 弁護士
- イ. W - 検察官 X - 裁判員 Y - 弁護士 Z - 傍聴人
- ウ. W - 裁判員 X - 検察官 Y - 弁護士 Z - 傍聴人
- エ. W - 裁判員 X - 検察官 Y - 傍聴人 Z - 弁護士

問5 図3中の下線部④について述べた文として適当なものを、次のア～エから1つ選び、記号で答えなさい。

- ア. 大都市圏に属し、地方税の収入が多い都道府県ほど支給額割合が多い傾向にある。
- イ. 大都市圏に属し、地方税の収入が少ない都道府県ほど支給額割合が多い傾向にある。
- ウ. 大都市圏から離れ、地方税の収入が多い都道府県ほど支給額割合が多い傾向にある。
- エ. 大都市圏から離れ、地方税の収入が少ない都道府県ほど支給額割合が多い傾向にある。

問6 図3中の ( ⑤ ) にあてはまる、教育や道路整備など使い道を指定して国から支給される資金を何というか、書きなさい。

第3問 次の〔A〕,〔B〕の文を読み、以下の問いに答えなさい。

日本には、古くから身の回りの自然<sup>①</sup>や自分の祖先をまつる信仰があり、稲作が始まると春には豊作を祈り、秋には収穫を感謝する祭りが行われるようになった。これが神道の原型である。6世紀になると仏教が公式に伝わり、文化<sup>②</sup>にも影響を与えた。

〔A〕 8世紀には、仏教の力で国家を平和に治めようとする考え方のもとで政治が行われた。しかし、僧が政治に介入して混乱したことから、8世紀末には桓武天皇<sup>③</sup>が都を平安京に移した。平安時代中期には、社会不安を背景に阿弥陀如来にすがって<sup>③</sup>死後に極楽浄土に生まれ変わることを願う浄土信仰（浄土の教え）が広まった。この考え方は、平安時代末から鎌倉時代初め<sup>④</sup>にかけて法然が広めた浄土宗、その弟子の親鸞が開いた浄土真宗などにつながっていった。

問1 下線部①について、旧石器時代の日本列島の自然について述べた文として適当なものを、次のア～エから1つ選び、記号で答えなさい。

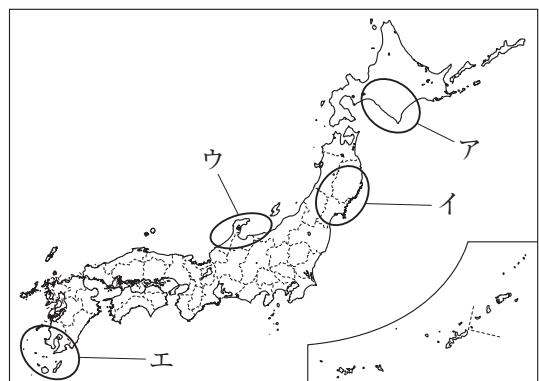
- ア. 気候が温暖で、日本列島は大陸と陸続きになっていた。
- イ. 気候が温暖で、日本列島は大陸と切り離されほぼ現在の形になった。
- ウ. 気候が寒冷で、日本列島は大陸と陸続きになっていた。
- エ. 気候が寒冷で、日本列島は大陸と切り離されほぼ現在の形になった。

問2 下線部②について、初の仏教文化である飛鳥文化について述べた文として適当なものを、次のア～エから1つ選び、記号で答えなさい。

- ア. 聖武天皇が東大寺を建立した。
- イ. 宇治に平等院鳳凰堂が建立された。
- ウ. 最澄が比叡山延暦寺を建立した。
- エ. 斑鳩に法隆寺が建立された。

問3 下線部③について、桓武天皇は、坂上田村麻呂を 地図1

征夷大將軍に任じて、蝦夷とよばれる人々を平定させました。坂上田村麻呂が平定した地域として適当なものを、右の地図1中のア～エから1つ選び、記号で答えなさい。



問4 下線部④に起こった次のア～エのできごとを時期が古い順に並べ、記号で答えなさい。

- ア. 後鳥羽上皇が、政治の実権を朝廷に取り戻すことをねらって挙兵し、承久の乱が起こった。
- イ. 源頼朝が、国ごとに守護、荘園や公領ごとに地頭を置く権限を朝廷から認められた。
- ウ. 保元の乱、平治の乱に勝利して政治の実権を握った平清盛が、太政大臣に任命された。
- エ. 源氏が挙兵して平氏を西国に追い詰め、壇ノ浦の戦いで滅ぼした。

[B]

中世になると交通の要地などに定期市が開かれるようになり、商工業者が農村に住み着くようになった。商工業者は座とよばれる同業者組織をつくり、寺社や公家などに税を納めて保護を受けるようになった。16世紀後半になると、織田信長は安土の城下町を楽市・楽座とし、自由な商工業を認めた。

江戸時代には、陸路・海路の交通路が発達し、商業がますます盛んになった。とくに大阪には全国の年貢米や特産品などが集まって盛んに取り引きされ、「天下の台所」とよばれた。大阪や京都などには裕福な町人があられ、元禄文化の担い手となった。

問5 下線部⑤について、次の資料は1297年に issuedされた永仁の徳政令の一部です。資料中の（ P ）に入る適切な内容と、（ Q ）に入る語句をそれぞれ書きなさい。

資料

（ P ）することは（ Q ）が苦しむもとなるので、今後禁止する。以前に買ったものはもとの持ち主に返すこと。ただし、幕府が認めたもの、20年以上過ぎているものは返す必要はない。

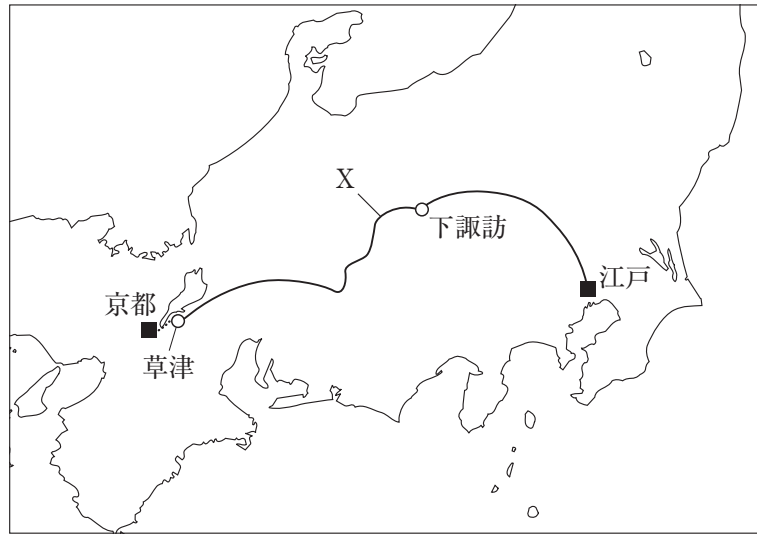
出典：東寺百合文書

問6 下線部⑥について、織田信長が行ったことについて述べた文として適切なものを、次のア～エから1つ選び、記号で答えなさい。

- ア. 分国法の一つである「甲州法度之次第」を定め、下剋上を防いだ。
- イ. 足利義昭を京都から追放して、室町幕府を滅ぼした。
- ウ. 農民から武器を取り上げる刀狩を行い、兵農分離を確立した。
- エ. 農民に五人組を結成させ、年貢の納入などに連帯責任を負わせた。


問7 下線部⑦について、江戸幕府は江戸を起点とする五街道など、各地の街道を整備しました。次の地図2中のXにあてはまる、五街道の一つを何というか、書きなさい。

地図2



問8 下線部⑧について、元禄文化に関連する資料として最も適当なものを、次のア～エから1つ選び、記号で答えなさい。

ア.



イ.



ウ.



エ.



**第4問** 次の国内外の戦争に関する年表を見て、以下の問いに答えなさい。

年	おもなできごと
1868	新政府軍と旧幕府軍の間で戊辰戦争が起こる…………… A
	↑
	ア
	↓
1877	西郷隆盛が鹿児島の士族らを率いて西南戦争を起こす……………
	↑
	イ
	↓
1894	日清戦争が起こる……………
	↑
	ウ
	↓
1904	日露戦争が起こる……………
	↑
	エ
	↓
1914	第一次世界大戦が起こる…………… B
	↑
	オ
	↓
1931	日本軍が満州事変を起こす……………
	↑
	カ
	↓
1937	日中戦争が起こる……………
	↑
	キ
	↓
1941	太平洋戦争が起こる……………
	↑
	ク
	↓
1945	日本がポツダム宣言を受諾する…………… C
	↑
	ケ
	↓
1973	ベトナム戦争からアメリカ軍が撤退する……………
	↑
	コ
	↓
1991	西アジアで湾岸戦争が起こる……………

問1 次の1～4のできごとは、上の年表のア～コのどの時期に起こりましたか。それぞれ適当な時期をア～コから1つずつ選び、記号で答えなさい。

- 1 インドネシアのバンドンでアジア・アフリカ会議が開かれた。
- 2 日本が獲得した遼東半島を清に返還するよう勧告する三国干渉が行われた。
- 3 板垣退助らが民撰議院設立の建白書を政府に提出した。
- 4 日本が国際連盟からの脱退を通告した。

問2 年表中のAについて、戊辰戦争のできごとを順に並べたものとして適当なものを、次のア～エから1つ選び、記号で答えなさい。

- ア. 鳥羽・伏見の戦い（京都市）→江戸城の明け渡し（東京）→五稜郭の戦い（函館市）
- イ. 鳥羽・伏見の戦い（京都市）→五稜郭の戦い（函館市）→江戸城の明け渡し（東京）
- ウ. 江戸城の明け渡し（東京）→鳥羽・伏見の戦い（京都市）→五稜郭の戦い（函館市）
- エ. 江戸城の明け渡し（東京）→五稜郭の戦い（函館市）→鳥羽・伏見の戦い（京都市）

問3 年表中のBについて、右の資料は第一次世界大戦

資料  
中のイギリスの兵器工場で働く女性の様子を示しており、イギリスでは1918年に女性の選挙権が認められました。女性の参政権がこのとき認められた理由を、資料を参考にし、「労働力」「男性」の語句を用いて述べなさい。



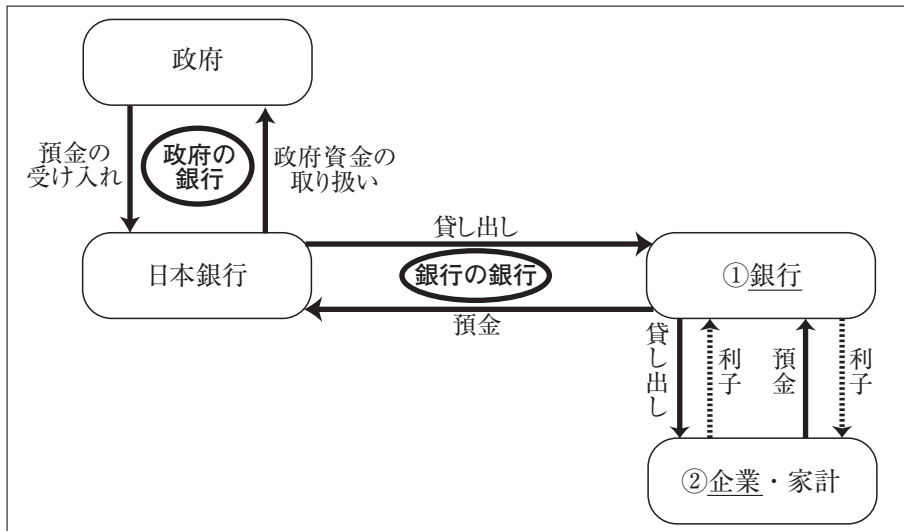
問4 年表中のCについて述べた、次の文中の（①）、（②）にあてはまる語句の組み合わせとして適当なものを、下のア～エから1つ選び、記号で答えなさい。

ポツダム宣言は、アメリカ、イギリス、ソ連の会談で出されることが決まっていたが、ソ連は日本と中立条約を結んでいたため、アメリカ、イギリス、（①）の名で出されました。日本が宣言を受諾して終戦を迎えると、（②）を最高司令官とするGHQによる占領が行われ、その指令のもとで民主化政策が進められました。

- ア. ①－オランダ ②－ローズベルト      イ. ①－オランダ ②－マッカーサー
- ウ. ①－中華民国 ②－ローズベルト      エ. ①－中華民国 ②－マッカーサー

**第5問** 次の資料1，資料2を見て，以下の問いに答えなさい。

資料1 政府，日本銀行，銀行，家計や企業の関係



問1 資料1中の日本銀行が担う3つの役割は，資料1中の「政府の銀行」，「銀行の銀行」と，もう一つは何ですか。漢字四字で書きなさい。

問2 資料1中の下線部①について述べた，次のX，Yの文の正誤の判断の組み合わせとして適当なものを，下のア～エから1つ選び，記号で答えなさい。

X 銀行は，企業や家計から集めた預金をもとに，資金を必要とする企業や家計に貸し出しを行っているが，このような資金の融通の方法を直接金融という。

Y 銀行が企業や家計に貸し出す際にとる利子は，企業や家計から預かる預金に対して支払う利子よりも高く設定し，その差額が銀行の利益となる。

ア. X - 正しい Y - 正しい      イ. X - 正しい Y - 誤り

ウ. X - 誤り Y - 正しい      エ. X - 誤り Y - 誤り

問3 資料1中の下線部②について，企業は近年、利潤の追求だけでなく，企業の社会的責任（CSR）を果たすことも求められています。CSRの例として適当でないものを，次のア～エから1つ選び，記号で答えなさい。

ア. 地域の環境を保全するために，定期的にごみ拾いなどを行う。

イ. 少しでも安く商品をつくるために，なるべく工場を海外につくる。

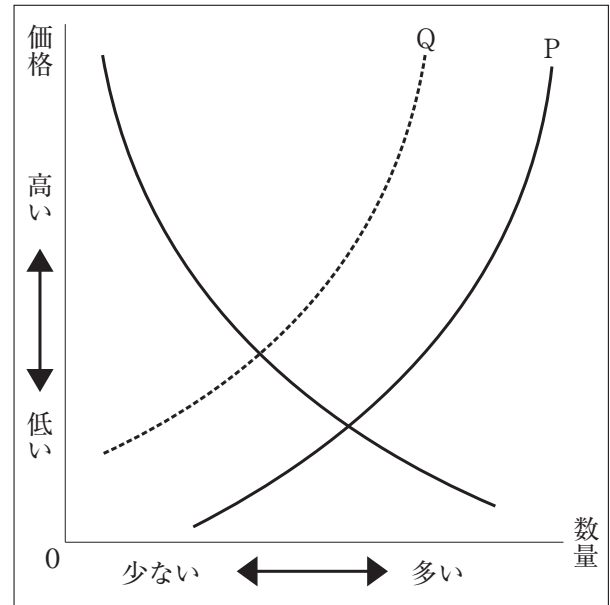
ウ. 芸術や文化的活動に対して，その資金の一部を負担する。

エ. 製造した商品に対する消費者の意見をとりまとめて公表する。

問4 右の資料2中のPからQに曲線が移動するときの説明として適当なものを、次のア～エから1つ選び、記号で答えなさい。

- ア. 供給量が減少することを表し、商品の価格は上がる。
- イ. 供給量が減少することを表し、商品の価格は下がる。
- ウ. 需要量が減少することを表し、商品の価格は上がる。
- エ. 需要量が減少することを表し、商品の価格は下がる。

資料2 需要量と供給量、価格の関係



問5 多くの商品は、市場経済のもとで資料2のような需要量と供給量のバランスによって価格が決まりますが、公共料金については、国や地方公共団体などが決定・認可した料金が適用されます。この理由を、25字以内で述べなさい。



