

2026年度

入学試験

# 社会問題(A1)

(全 14 ページ)

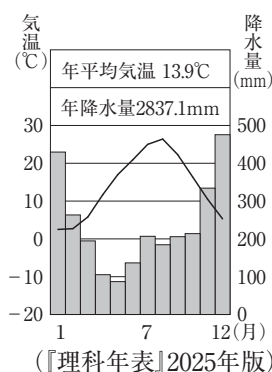
## 注意事項

1. 受験番号、氏名および解答はすべて別紙の解答用紙に記入しなさい。
2. 問題用紙に解答を書きこんでも採点されません。

第1問 中部地方の地域別の特色についてまとめた次の表について、あとの問いに答えなさい。

	とうかい 東海	中央高地	ほくりく 北陸
自然	・太平洋側の気候 ・掛斐川・長良川・木曾川が 流れる濃尾平野がある	・内陸性の気候 ・日本アルプスとよばれる b 3つの山脈が連なる	・ a 日本海側の気候 ・日本最長の ( A ) 川 が流れる越後平野がある
農業	・ c 園芸農業がさかん ・ ( B ) の生産がさかん	・ d 果物の生産がさかん ・ ( C ) の生産がさかん	・ e 米の生産がさかん
工業	・ ちゅうきょう 中京工業地帯や f 東海工業 地域が発達	・ ( D ) 工業や電子工業 が発達	・ 伝統工業やそれをもとに した g 地場産業がさかん

問1 右のグラフは、表中の下線部 a に属する上越市の、月別の平均気温と降水量を示したものです。グラフを参考に、日本海側の気候の特色をこの気候に影響を与える風の名称を用いて簡単に書きなさい。



問2 表中の下線部 b にあてはまらないものを、次のア～エから1つ選び、記号で答えなさい。

- ア 飛驒山脈    イ 木曾山脈    ウ 赤石山脈    エ 奥羽山脈

問3 表中の ( A ) にあてはまる川の名称を答えなさい。

問4 表中の下線部 c について説明した文として正しいものを、次のア～エから1つ選び、記号で答えなさい。

- ア 冬でも暖かい気候を利用して、他の産地より時期を早めて出荷する農業。  
 イ 都市向けに野菜や花などを生産する農業。  
 ウ 夏でもすずしい気候を利用して、他の産地より時期をおくらせて出荷する農業。  
 エ 広大な耕地で、大型の機械を利用して行う農業。

問5 右のグラフは、表中の ( B ) の都道府県別の生産量割合を示したものです。県別生産量が、2024年に初めて鹿児島県が静岡県をこえた、( B ) にあてはまる農作物名を答えなさい。

三重県			
鹿児島県 36.5%	静岡県 34.9	6.8	その他 21.8

(2024年) (農林水産省資料)

問6 表中の下線部 d について、日本の果物の生産量や消費量、輸入量について説明した文として正しいものを、次のア～エから1つ選び、記号で答えなさい。

- ア 消費量は年々増加しており、それともなって生産量や輸入量も増えてきている。  
 イ 消費量は年々増加しているが生産量は減少しているため、輸入量が増えてきている。  
 ウ 消費量がのびなやんでいるため、生産量と輸入量はともに大きく減ってきている。  
 エ 消費量がのびなやんでいるため生産量は減っているが、輸入量に大きな変化はない。

問7 表中の（ C ）にあてはまる、長野県の野辺山原<sup>のべやまはら</sup>などですずしい気候を利用して生産されるレタスやキャベツなどの野菜を何といますか、漢字4字で答えなさい。

問8 表中の下線部eについて、次の資料は、1990年度、2000年度、2010年度、2023年度のいずれかの日本の米の生産量と消費量を示したものです。2023年度にあてはまるものを、資料中のア～エから1つ選び、記号で答えなさい。

	ア	イ	ウ	エ
生産量（千t）	7911	8554	9490	10499
消費量（千t）	8235	9018	9790	10484

（『日本国勢図会』2025/26年版）

問9 表中の下線部fに属する工業都市と、その都市でさかんな工業の組み合わせとして正しいものを、次のア～エから1つ選び、記号で答えなさい。

ア 東海－鉄鋼    イ 市原<sup>いちほら</sup>－石油化学    ウ 今治<sup>いまばり</sup>－造船    エ 浜松<sup>はままつ</sup>－輸送用機械

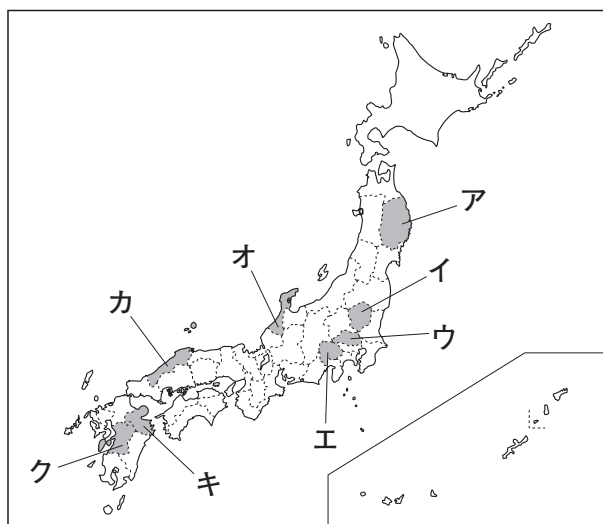
問10 表中の（ D ）にあてはまる、時計やカメラ、オルゴールなどをつくる工業を何といますか、答えなさい。

問11 表中の下線部gについて、福井県の鯖江市<sup>さばえ</sup>で生産がさかんな製品として正しいものを、次のア～エから1つ選び、記号で答えなさい。

ア めがね枠<sup>わく</sup>    イ 自転車    ウ 学生服    エ かばん

問12 次の①～③の各文章は、あとの地図中のア～クのいずれかの都道府県の特徴について説明したものです。①～③にあてはまるものをそれぞれ1つずつ選び、記号で答えなさい。

- ① 温泉地として有名な別府<sup>べつぷ</sup>や湯布院<sup>ゆふいん</sup>があり、八丁原<sup>はっちょうばる</sup>発電所は、日本最大級の地熱発電所として知られている。野生のニホンザルの生息地として知られる高崎山<sup>たかさきやま</sup>がある。
- ② 内陸県で、北部の県境を利根川<sup>とねがわ</sup>が流れている。2001年に浦和<sup>うらわ</sup>、大宮<sup>おおみや</sup>、与野<sup>よ</sup>の3市が合併<sup>がっ</sup>してできた市は、全国でただ1つのひらがな地名の県庁所在地である。
- ③ 南北に細長い県で、変化に富んだ海岸線が続く半島が県の北部をしめている。南部に広がる金沢平野は、耕地整理の進んだ早場米の産地として知られている。



**第2問** 産業の特色について述べた次の文章を読んで、あとの問いに答えなさい。

人間が自然にはたらきかけて役に立つものを得る産業を第一次産業といい、その代表が農業である。  
 a 農業は世界各地で、その自然環境や社会的な条件を生かして行われている。b 日本各地でも、さまざまな農産物がつくられているが、国内産だけでは必要な量を十分にまかなえていない。農業の他では、  
 c 水産業や d 林業も第一次産業にふくまれる。

工業や鉱業、建設業を第二次産業という。e 資源のとほしい日本では、f 資源の輸入に適した臨海部を中心に多くの工場がつけられてきた。そのため、工業都市の多くは太平洋ベルトとよばれる地域に位置しているが、g 最近では海外に工場を移転させる企業も少なくない。また第二次産業は、かつて、大気汚染などのさまざまな h 公害の原因となってきた面がある。

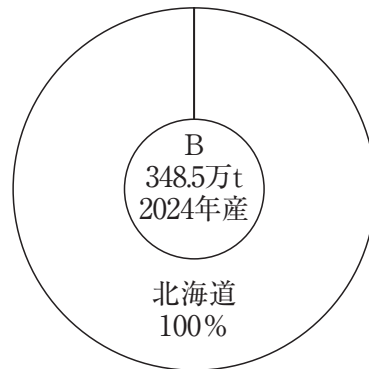
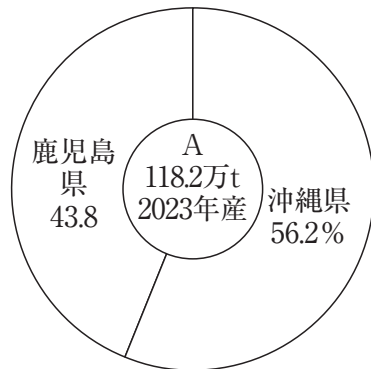
第一次産業と第二次産業以外のすべての産業を第三次産業といい、i 商業、サービス業などがその代表である。j 現在の日本では第三次産業で働く人が最も多くなっている。近年、k 自然や文化遺産などにめぐまれた地域では、第三次産業の1つである観光業がさかんになってきている。その反面、  
 X が発生し、解決すべき大きな課題となっている。

問1 下線部 a について、次の文章が説明する農業が行われている国を、右の地図中のア～エから1つ選び、記号で答えなさい。

この国では、高温で降水量の少ない夏には、オレンジやぶどう、オリーブなどの乾燥に強い果樹の、降水量が多い冬には、小麦の栽培が行われている。このような農業は地中海式農業とよばれている。

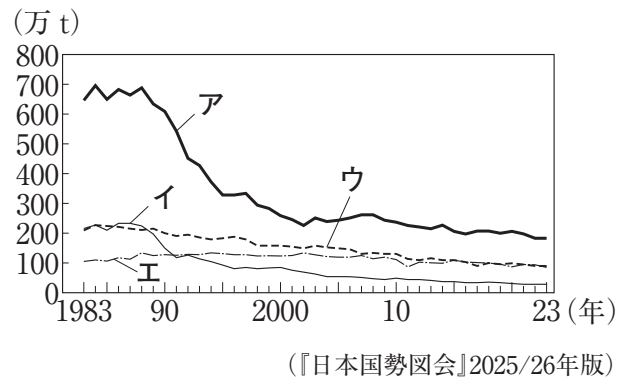


問2 下線部 b について、農産物のなかには、特定の都道府県が生産量のほとんどをしめるものもあります。次のA、Bのグラフは、どちらも同じ調味料の原料となる農産物の都道府県別の生産量割合を示したものです。Bのグラフにあてはまる農作物名を答えなさい。



(『日本国勢図会』2025/26年版)

問3 下線部cについて、右のグラフ中のア～エは、海面養殖業、沿岸漁業、沖合漁業、遠洋漁業のいずれかのとれ高の移り変わりを示したものです。このうち、世界各国による200海里経済水域（排他的経済水域）の設定の影響でとれ高を減らしたものはどれですか、答えなさい。また、答えたものにあてはまるグラフを、ア～エから1つ選び、記号で答えなさい。



問4 下線部dの仕事にはさまざまな作業があります。林業の作業のうち、右の写真が示している作業を何といいますか、答えなさい。



問5 下線部eについて、1970年代まで北海道などで石炭を多く採掘していましたが、現在はほぼ採掘していません。このように変化することになった原因を、「エネルギー」の語句を用いて簡単に書きなさい。

問6 下線部fについて、次の表は、日本の主な資源の輸入先上位3か国を示したものです。表中のⅠ～Ⅲにあてはまる資源の組み合わせとして正しいものを、あとのア～カから1つ選び、記号で答えなさい。

	Ⅰ	Ⅱ	Ⅲ	原油
1位	オーストラリア	オーストラリア	オーストラリア	サウジアラビア
2位	ブラジル	インドネシア	マレーシア	アラブ首長国連邦
3位	カナダ	カナダ	ロシア	クウェート

(2023年)

(『日本国勢図会』2025/26年版)

- ア Ⅰ－鉄鉱石 Ⅱ－天然ガス Ⅲ－石炭      イ Ⅰ－鉄鉱石 Ⅱ－石炭 Ⅲ－天然ガス  
 ウ Ⅰ－天然ガス Ⅱ－鉄鉱石 Ⅲ－石炭      エ Ⅰ－天然ガス Ⅱ－石炭 Ⅲ－鉄鉱石  
 オ Ⅰ－石炭 Ⅱ－天然ガス Ⅲ－鉄鉱石      カ Ⅰ－石炭 Ⅱ－鉄鉱石 Ⅲ－天然ガス

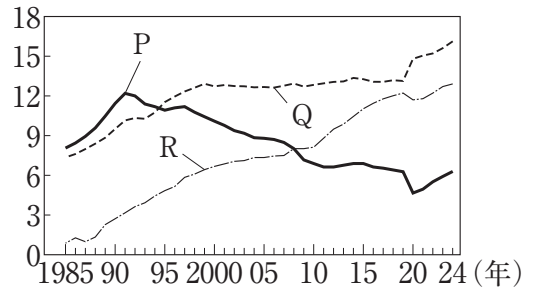
問7 下線部gの結果、一部の工業で国内の生産が大きく減り、国内の製造業がおとろえてしまう現象を何といいますか、答えなさい。

問8 下線部hに関連して、次の文章中の□にあてはまる都市名を答えなさい。

中京工業地帯の西部に位置する□市では、石油化学工場から出る煤煙ばいえんなどのために公害が発生し、住民の多くが四大公害病の1つに数えられる、ぜんそくなどの症状しょうじょうに苦しめられた。その後、市や工場が協力して環境の改善に取り組んだ結果、きれいな環境を取りもどすことができ、環境を守るための取り組みが現在も続けられている。

問9 下線部 i について、右のグラフは店舗の種類別販

売額の移り変わりを示したものです。グラフ中のP～Rにあてはまる店舗の組み合わせとして正しいものを、次のア～カから1つ選び、記号で答えなさい。



〔『日本国勢図会』2025/26年版〕

- |   |               |               |               |
|---|---------------|---------------|---------------|
| ア | P－デパート        | Q－コンビニエンスストア  | R－大型スーパーマーケット |
| イ | P－デパート        | Q－大型スーパーマーケット | R－コンビニエンスストア  |
| ウ | P－コンビニエンスストア  | Q－大型スーパーマーケット | R－デパート        |
| エ | P－コンビニエンスストア  | Q－デパート        | R－大型スーパーマーケット |
| オ | P－大型スーパーマーケット | Q－コンビニエンスストア  | R－デパート        |
| カ | P－大型スーパーマーケット | Q－デパート        | R－コンビニエンスストア  |

問10 下線部 j について、次の表は4つの都府県について、産業別人口の割合を示したものであり、表中のア～エには青森県、東京都、愛知県、大阪府のいずれかがあてはまります。青森県と愛知県にあてはまるものを、ア～エから1つずつ選び、記号で答えなさい。

都府県	産業別人口の割合 (%)		
	第一次産業	第二次産業	第三次産業
ア	0.3	21.1	78.6
イ	9.8	20.7	69.5
ウ	0.3	14.3	85.5
エ	1.7	31.2	67.2

(2022年) 〔『データブック オブ・ザ・ワールド』2025年版〕

問11 下線部 k について、日本各地の自然についての説明として適切でないものを、次のア～エから1つ選び、記号で答えなさい。

- ア 世界自然遺産に登録された富士山では、高山植物の保全活動が行われている。
- イ 石垣島周辺の珊瑚礁は、近年の海水温の上昇にともなって減少してきている。
- ウ 知床では、自然を守るために、高架式の遊歩道をつくって観光に生かしている。
- エ 天橋立は、国定公園の一部にふくまれており、景観の保全が進められている。

問12  X にあてはまる、観光地に観光客が集中しすぎたために環境がこわされたり、地域住民の日常生活に悪い影響が出たりすることを何といいますか、カタカナで答えなさい。

**第3問** 歴史上の女性について述べた、次のA～Jの各文章を読んで、あとの問いに答えなさい。

- A この時代は、狩りや漁、採集が生活の中心であった。そのため収穫は自然条件に左右されることが多く、豊かな自然のめぐみを願って、女性の姿などを模した「P」がつくられた。
- B 何年も戦乱が続いたため、諸国が共同して邪馬台国の卑弥呼を女王として立てたところ、争いはようやくおさまった。卑弥呼はうらないやまじないを行い、人々を引きつけた。
- C 我が国最初の女帝である推古天皇の時代、冠位十二階や十七条の憲法が制定され、政治のしくみが整えられた。また遣隋使として「Q」らが派遣された。
- D 天武天皇の死後、皇后が持統天皇として即位した。持統天皇は戸籍を作成するなど、天武天皇の事業を引き継ぎ、日本で最初の本格的な都であるa藤原京へ都を移した。
- E 光明皇后は、夫のb聖武天皇とともに仏教を深く信仰し、施薬院や悲田院をつくり、病人や孤児の救済に努めた。
- F 国風文化が発達するなかで、紫式部や清少納言などの女性がすぐれた作品を残した理由のひとつとして、「R」がつくられたことがあげられる。
- G 北条政子は、後鳥羽上皇が幕府を倒そうと兵を挙げたとき、c亡き夫の恩を説いて動揺する御家人たちをまとめ上げ、幕府方を勝利に導いた。
- H 足利義政とその妻の日野富子には長い間男子がなく、義政の弟の義視を跡継ぎとした。その後、富子が義尚を生んだために争いがおこり、応仁の乱がおこる原因のひとつとなった。
- I 天下統一を達成した豊臣秀吉の正室であったおねは、秀吉の死後、秀吉の子である豊臣秀頼を後見した。d関ヶ原の戦いで豊臣方が敗れたあとは秀吉の供養に専念した。
- J この時代の農村では商品作物の栽培がさかんとなり、貨幣経済が広がった。農村の女性たちは夫とともに農作業に従事し、e機織りや物売りなどで収入を得る者もあった。

問1 Aの文章中の「P」にあてはまる、右のような土製の人形を何といいますか、答えなさい。



問2 Bの文章の内容が記されている中国の歴史書として正しいものを、次のア～エから1つ選び、記号で答えなさい。

- ア 『漢書』地理志      イ 『後漢書』東夷伝  
ウ 『魏志』倭人伝      エ 『宋書』倭国伝

問3 Cの文章中の「Q」にあてはまる人物名を答えなさい。

問4 Dの文章中の下線部aが造営された現在の府県として正しいものを、次のア～エから1つ選び、記号で答えなさい。

- ア 奈良県      イ 大阪府      ウ 滋賀県      エ 京都府

問5 Eの文章中の下線部bの人物に最も関係の深い建物として正しいものを、次のア～エから1つ選び、記号で答えなさい。

ア



イ



ウ



エ



問6 Fの文章中の R にあてはまる内容を考え、「漢字」の語句を用いて、簡単に書きなさい。

問7 次のア～エの各文は、Fの文章の時代のできごとについて述べたものです。ア～エの各文を年代の古い順に並べかえ、記号で答えなさい。

- ア ふじわらのみちなが 藤原道長は4人のむすめを天皇の后きさきとすることに成功し、朝廷で権力をふるった。
- イ たいらのきよもり 平清盛は武士として初めて太政大臣だいじょうとなり、一族を高い位につけて政治の実権をにぎった。
- ウ さかうえのたむらまろ 坂上田村麻呂の率いる軍が蝦夷えみしの主な拠点きよてんを攻め、東北地方への支配が広がった。
- エ しらかわ 白河天皇は、位を幼少の堀河天皇ほりかわにゆずったあとも天皇を後見しながら政治を行った。


問8 Gの文章中の下線部cの人物が、1192年に朝廷から任命された役職を何といいますか、答えなさい。

問9 Hの文章の時代の都市や農村の様子について述べた文として正しくないものを、次のア～エから1つ選び、記号で答えなさい。

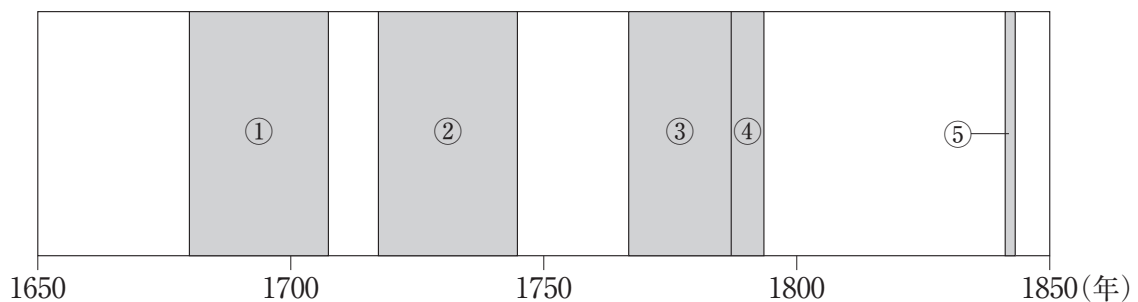
- ア 農村では惣そうがつくられ、団結を強めた農民たちが土一揆をおこすこともあった。
- イ 備中びっちゅうぐわなどの新しい農具が使われるようになり、農業の生産力が向上した。
- ウ 幕府の保護を受けた土倉どそうや酒屋が高利貸しを営み、大きな利益を上げた。
- エ 町衆とよばれた裕福な商工業者ゆうふくとくらたちが、都市を自治的に運営するようになった。

問10 Iの文章中の下線部dについて、この時期に京都で、かぶき踊り<sup>おど</sup>とよばれる芸能を始めた女性  
はだれですか、答えなさい。

問11 Jの文章中の下線部eに関連して、右の資料のように、問屋  
があらかじめ原料や道具などを農家に貸し付けて、綿織物など  
を生産させ、手間賃<sup>てま ちん ばら</sup>を払って製品を引き取るしくみを何とい  
いますか、答えなさい。



問12 Jの文章の時代について、次の図中の①～⑤の時期には、将軍あるいは老中によって、政治の  
改革や特色のある政治が行われました。①～⑤の時期のできごととして正しくないものを、あと  
のア～コから3つ選び、記号で答えなさい。



- ア ①の時期に鎖国<sup>さこく</sup>が完成した。
- イ ①の時期に質を落とした小判が発行された。
- ウ ②の時期に公事方御定書<sup>くじかた おさだめがき</sup>が出された。
- エ ②の時期に生類憐みの令<sup>しょうるいあわれ</sup>が出された。
- オ ③の時期に株仲間をつくること<sup>しょうれい</sup>が奨励された。
- カ ③の時期に浅間山<sup>あさまやま</sup>が噴火し、大ききん<sup>ふんか</sup>がおこった。
- キ ④の時期に幕府の学問所<sup>しゅしがく</sup>で朱子学以外の講義が禁止された。
- ク ④の時期にラクスマン<sup>ねむろ</sup>が根室<sup>ねむろ</sup>に来航し、通商を求めた。
- ケ ⑤の時期に物価の引き下げをはかるため、株仲間の解散が命じられた。
- コ ⑤の時期に安政の大獄<sup>あんせい たいごく</sup>がおこり、開国反対派<sup>しょうぼつ</sup>が処罰された。

第4問 次の年表を見て、あとの問いに答えなさい。

年	できごと
1825	江戸幕府が□ P □を出す
1858	日米修好通商条約が結ばれる…………… A
1867	王政復古の大号令が出される…………… B
1871	岩倉使節団がアメリカ合衆国とヨーロッパ諸国に派遣される…………… C
	↑ X ↓
1881	□ Q □が結成される
1883	□ R □らが設立した大阪紡績会社が開業する
1894	日清戦争が始まる…………… D
1914	第一次世界大戦が始まる…………… E
1936	二・二六事件がおこる
	↑ Y ↓
1941	太平洋戦争が始まる
1945	太平洋戦争が終わる…………… F
1951	サンフランシスコ平和条約を結ぶ
	↑ Z ↓
1965	日韓基本条約を結び、大韓民国と国交を正常化する

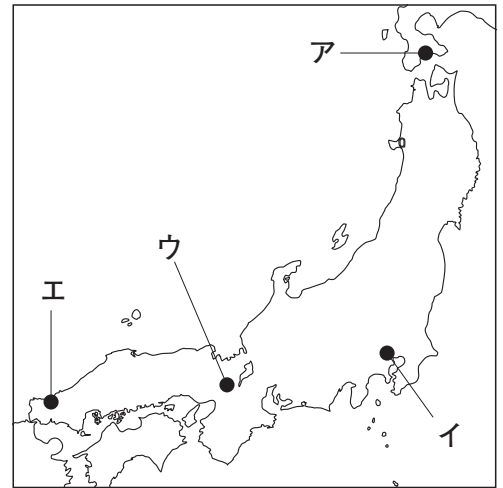
問1 次の資料は、年表中の□ P □にあてはまる法令の一部です。この法令の名称を答えなさい。

どこの港でも、外国船が入港するのを見たなら、有無を言わず、いちずに打ち払え。逃亡したら追う必要はない。もし、強引に上陸したら、捕まえるか、または打ち殺してもさしつかえない。

問2 年表中のAによって、貿易が始まりました。次の資料は、当時の外国と日本における金と銀の交換比率を示したものです。当時、外国人は外国の銀貨を日本に持ちこんで、さかんに金と交換しましたが、これにはどのような利点がありましたか。資料を読み取って、簡単に書きなさい。

外国	日本

問3 年表中のBののち、領地などの返上を要求された旧幕府側はこれに反発し、<sup>ぼしん</sup>戊辰戦争が始まりました。この戦争の発端となった鳥羽・伏見の戦いがおこった場所を、右の地図中のア～エから1つ選び、記号で答えなさい。



問4 年表中のCのできごとについて、この使節団に同行した女子留学生で、アメリカ合衆国で11年間、教育を受け、帰国後に女子英学塾をつくり、女子教育につくした人物の名前を答えなさい。

問5 年表中のXの時期におこった次のア～エのできごとを、年代の古い順に並べかえ、記号で答えなさい。

- ア 西南戦争がおこる。                      イ 学制が制定される。  
 ウ 地租改正が行われる。              エ <sup>みんせん</sup>民撰議院設立建白書が出される。


問6 年表中の□Qにあてはまる、右の写真の人物らが中心となって結成された政党の名前を答えなさい。



問7 次の文章が説明する、年表中の□Rにあてはまる人物名を答えなさい。


明治維新後、新政府の役人となった。役人をやめた後は日本で最初の銀行を設立した。また、さまざまな企業の創設にもかわかり、近代日本の産業のいしずえを築いた。

問8 年表中のDのできごとについて、右の資料は、この戦争が始まる前の東アジアの情勢をえがいた風刺画です。資料から読み取れる、当時の東アジアの情勢として正しいものを、次のア～エから1つ選び、記号で答えなさい。



- ア 日本は朝鮮をめぐる清と対立していた。  
 イ 日本はロシアをめぐる清と対立していた。  
 ウ 日本は朝鮮と同盟を結び、清と対立していた。  
 エ 日本はロシアと同盟を結び、清と対立していた。

問9 年表中のEの大戦中におこった次の資料のできごとの名称を答えなさい。



問10 年表中のYの時期のできごとについて述べた次の文章中の、～にあてはまる国名の組み合わせとして正しいものを、あとのア～カから1つ選び、記号で答えなさい。

との戦争が長期化していた日本は、資源を得ることなどを目的に東南アジアの北部へ進出した。さらに日本は、と条約を結んで北方の安全を確保した上で、東南アジアの南部へと勢力を広げた。この日本の動きに対し、東南アジアに植民地をもっていた・イギリス・オランダは、<sup>けいかい</sup>警戒を強めた。

- ア I－中国      II－アメリカ      III－ソ連      イ I－中国      II－ソ連      III－アメリカ  
 ウ I－ソ連      II－アメリカ      III－中国      エ I－ソ連      II－中国      III－アメリカ  
 オ I－アメリカ      II－ソ連      III－中国      カ I－アメリカ      II－中国      III－ソ連

問11 年表中のFのできごとのあと、日本はマッカーサーを最高司令官とする組織の指示により、軍国主義を排除し、民主化を進めるための改革を行いました。この組織を何といいますか、アルファベット3字で答えなさい。

問12 年表中のZの時期におこったできごととして正しいものを、次のア～エから1つ選び、記号で答えなさい。

- ア 東京オリンピックの開催に合わせて新大阪・東京間に東海道新幹線が開通した。  
 イ 株価や地価が実態よりも高くなっていたバブル経済が崩壊した。  
 ウ 東日本大震災がおき、福島第一原子力発電所での深刻な事故へとつながった。  
 エ アメリカによって統治されていた沖縄が、日本へ返還された。

**第5問** 次の2つの文章は、社会科の時間に生徒たちが書いた作文の一部です。文章を見て、あとの問いに答えなさい。

I 最近、わたしの家の近くに新しい駅ができました。この駅には、a お年寄りや体の不自由な人にとって、通行のさまたげになるような段差がなく、車いす対応のエスカレーターも設置されており、また、b 年齢や障がいの有無などに関係なく、すべての人が使いやすいようにデザインされたはばの広い自動改札や、がしやすいように、絵の記号がついたごみ箱がならんでいるのも印象的でした。

この新しい駅の近くには、わたしの母がパートタイマーとして働いているスーパーマーケットがあり、家族でよく利用しています。入口を入るとすぐに、さまざまなc 年中行事に向けた商品がならべられているコーナーがあり、お客さんにもとても人気があります。また、常にd 防災グッズをそろえたコーナーがつくられています。商品をふくろづめするところのかべにはさまざまなポスターがはってあるのですが、わたしはe 食品ロスに関するポスターに興味をわきました。

II 日本国憲法では、権・自由権・社会権などの基本的人権を、f 侵害することのできない永久の権利として保障しています。授業では、さまざまな基本的人権が、わたしたちの身近な暮らしにも生かされているということを学びました。また近年では、日本国憲法の条文を広く解釈することで、憲法には直接の規定がないg 新しい人権も認められるようになっていくことも知りました。

2025年7月にh 参議院議員選挙がありました。投票に行く父母にわたしもついていき、投票のようすを見学しました。わたしは今、12才ですが才になれば、選挙権を得ることができます。それまでに、日本の政治について、しっかり勉強しておかなくてはいけないなと思います。授業で習った内容でいえば、i 三権分立のしくみが、とてもよくできているなあと感じました。今回の選挙結果が、政治にどのような変化をもたらしたかについても考えてみたいです。

問1 Iの文章中の下線部aについて、多年にわたり社会につくしてきた老人を敬愛し、長寿を祝うとされている国民の祝日を何といいますか、答えなさい。

問2 Iの文章中の下線部bについて、このようなデザインのことを何といいますか、答えなさい。

問3 Iの文章中の□P□と、次の資料の□P□に共通してあてはまる語句を、漢字2字で答えなさい。

□P□がしやすいごみ箱



問4 Iの文章中の下線部cについて、次のア～エの年中行事が行われる時期を、1月から順にならべたとき、3番目にあたるものを1つ選び、記号で答えなさい。

ア ひな祭り    イ <sup>しちごさん</sup>七五三    ウ <sup>たなばた</sup>七夕    エ <sup>せつぶん</sup>節分

問5 Iの文章中の下線部dについて、ハザードマップを作成するなどのような、防災・減災のために国や地方公共団体によって行われる、自然災害から人々を守るための取り組みのことを何といいますか、答えなさい。

問6 Iの文章中の下線部eについて、この問題を解決することは、持続可能な社会をつくるために世界各国で取り組まれている目標の達成につながると考えられます。この目標として最もふさわしいものを、次のア～エから1つ選び、記号で答えなさい。

ア <sup>きが</sup>飢餓をゼロに                      イ 働きがいも経済成長も  
ウ 海の豊かさを守ろう              エ 質の高い教育をみんなに

問7 次の資料は日本国憲法の条文の一部です。条文中の□Q□とIIの文章中の□Q□に共通してあてはまる語句を答えなさい。

第14条① すべて国民は、法の下に□Q□であって、人種、信条、性別、社会的身分<sup>また</sup>は<sup>もんち</sup>門地により、政治的、経済的又は社会的関係において差別されない。

問8 IIの文章中の下線部fに関連して、基本的人権は制限される場合があります。その例としてふさわしくないものを、次のア～エから1つ選び、記号で答えなさい。

ア <sup>かんせんしゅう</sup>感染症の広がりを防ぐため、強制的に病院に<sup>かくり</sup>隔離される場合がある。  
イ 道路などをつくるのに必要があれば、個人の土地を十分な<sup>ほしゅう</sup>補償を<sup>しはら</sup>支払って収用できる。  
ウ 公務員によるストライキは禁止されている。  
エ 内閣が必要と認めた場合は、出版物や放送の内容を事前に審査できる。

問9 IIの文章中の下線部gの1つに自己決定権があります。この権利を尊重するため、患者が<sup>かんじや</sup>医師から十分な説明を受けた上で、<sup>ちりょう</sup>治療方法に同意することを何といいますか、次のア～エから1つ選び、記号で答えなさい。

ア ワーク・ライフ・バランス              イ インフォームド・コンセント  
ウ シベリアン・コントロール              エ メディア・リテラシー

問10 IIの文章中の下線部hについて、参議院について説明したものとして正しいものを、次のア～エから1つ選び、記号で答えなさい。

ア 議員定数は465人で任期は4年、解散がある。被選挙権は25才以上である。

イ 議員定数は465人で任期は4年。被選挙権は30才以上である。

ウ 議員定数は248人で任期は6年、解散がある。被選挙権は25才以上である。

エ 議員定数は248人で任期は6年。被選挙権は30才以上である。

問11 IIの文章中の[R]にあてはまる数字を答えなさい。

問12 次の図は、IIの文章中の下線部iを示しています。法律が憲法に違反して<sup>いはん</sup>いないかどうかを判断する権限を表しているものを、図中のア～エから1つ選び、記号で答えなさい。

